


수학 영역(B형) 해설지

Epsilon



정답 및 해설

1) [정답] ⑤ (출제자 : 12황성문)

[출제의도] 행렬의 계산을 할 수 있는가?

[해설]

$$3A + B = 3 \begin{pmatrix} 2 & 1 \\ 1 & -2 \end{pmatrix} + \begin{pmatrix} 0 & -2 \\ 1 & 6 \end{pmatrix} = \begin{pmatrix} 6 & 1 \\ 4 & 0 \end{pmatrix}$$

$$6 + 4 + 1 + 0 = 11$$

2) [정답] ④ (출제자 : 12황성문)

[출제의도] 지수함수의 극한값을 구할 수 있는가?

[해설]

$$\lim_{x \rightarrow 0} \frac{e^{2x} - 1}{x}$$

$$= 2 \times \lim_{x \rightarrow 0} \frac{e^{2x} - 1}{2x}$$

$$= 2 \times 1 = 2$$

3) [정답] ② (출제자 : 13오현주)

[출제의도] 적분법을 알고 있는가?

[해설]

$$\int_2^4 \frac{1}{x} dx = [\ln|x|]_2^4 = \ln 4 - \ln 2 = \ln 2$$

4) [정답] ① (출제자 : 13오현주)

[출제의도] 삼각함수의 미분을 알고 이를 활용하여 미지수를 구할 수 있는가?

[해설]

주어진 함수 $f(x) = 2\sin 2x - 5\cos x + ax$ 을 미분하면,
 $f'(x) = 4\cos 2x + 5\sin x + a$ 이다. 함수 $f'(x)$ 에 $x=0$ 을 대입하면,
 $f'(0) = 4\cos 0 + 5\sin 0 + a = 4 + a = 13$ 이고
 따라서 $a = 9$ 이다.

5) [정답] ⑤ (출제자 : 13오현주)

[출제의도] 좌표공간에서 선분의 내분점을 이해하고 이를 활용하여 미지수를 구할 수 있는가?

[해설]

두 점 A, B에 대하여 선분 AB을 1:2로 내분하는 점의 좌표는

$$\left(\frac{1 \times 2 + 2 \times a}{1+2}, \frac{1 \times (-6) + 2 \times 3}{1+2}, \frac{1 \times b + 2 \times 7}{1+2} \right) \text{이고}$$

이때의 좌표는 (4, 0, 1)이다.

$$\left(\frac{2+2a}{3}, 0, \frac{b+14}{3} \right) = (4, 0, 1) \text{이므로 } a=5, b=-11 \text{이다.}$$

따라서 $a-b = 16$ 이다.

6) [정답] ④ (출제자 : 13김찬호)

[출제의도] 삼각방정식을 풀 수 있는가?

[해설]

우선, $\sin 2x = 2\sin^2 x$ 에서 $\sin 2x = 2\sin x \cos x$ 이므로,

이것을 대입해주면 $2\sin x \cos x = 2\sin^2 x$ 이고,

$\sin x$ 로 묶어주면 $2\sin x(\cos x - \sin x) = 0$ 이 된다.

(i) $\sin x = 0$ 을 만족하는 경우에는 $0 \leq x \leq \pi$ 에서 $x=0$ 과 $x=\pi$ 로 2개가 존재하게 된다.

(ii) $\cos x - \sin x = 0, \sin x \neq 0$

$\cos x = \sin x, \sin x \neq 0$ 이므로 $\cos x \neq 0$. 따라서 양 변을 $\cos x$ 로

나누어주면 $1 = \tan x$, 범위 내에서 이 식을 만족하는 x 의 값은 $\frac{\pi}{4}$

$$\therefore 0 + \pi + \frac{\pi}{4} = \frac{5\pi}{4}$$

7) [정답] ② (출제자 : 15이민욱)

[출제의도] 포물선의 접선을 구할 수 있는가?

[해설]

포물선 $y^2 = -8x$ 의 접선의 방정식은 $y = mx - \frac{2}{m}$ 로 나타낼 수 있다.

이 접선이 점 $(k, 2k^2)$ 을 지나므로 $2k^2 = mk - \frac{2}{m}$ 이고, 양변에 m 을

곱하면 $km^2 - 2k^2m - 2 = 0$ 으로 m 에 관한 이차방정식이 나온다.

자연수 k 에 대하여 $\frac{D}{4} = k^4 + 2k > 0$,

따라서 m 은 2개의 실근을 가지므로 근과 계수와의 관계를 이용하면

$$a_k = 2k. \text{ 따라서 } \sum_{k=1}^7 a_k = 56 \text{이다.}$$

수학 영역(B형)

8) [정답] ③ (출제자 : 10최원재)

[출제의도] 주어진 문제에서 중복조합을 사용할 수 있는가?

[해설]

(i) A와 B를 0개 택하는 경우, ○○○○에서 서로 다른 C, D, E 세 종류 중에서 중복을 허락하여 5개 택하는 경우의 수 ${}_3H_5$

(ii) A와 B를 1개 택하는 경우, AB○○○에서 서로 다른 C, D, E 세 종류 중에서 중복을 허락하여 3개 택하는 경우의 수 ${}_3H_3$

(iii) A와 B를 2개 택하는 경우, AABBB○에서 서로 다른 C, D, E 세 종류 중에서 중복을 허락하여 1개 택하는 경우의 수 ${}_3H_1$

$$\therefore {}_3H_5 + {}_3H_3 + {}_3H_1 = 21 + 10 + 3 = 34$$

☺ 같이 풀어보면 좋은 문제

-엡실론 모의고사 1회 A형 15번

9) [정답] ⑤ (출제자 : 15김효석)

[출제의도] 답음변환과 회전변환을 이해하고 있고, 합성변환에 의해 움직이는 점을 구할 수 있는가?

[해설]

$$A = \frac{1}{4} \begin{pmatrix} 1 & -\sqrt{3} \\ \sqrt{3} & 1 \end{pmatrix} = \frac{1}{2} \begin{pmatrix} \frac{1}{2} & -\frac{\sqrt{3}}{2} \\ \frac{\sqrt{3}}{2} & \frac{1}{2} \end{pmatrix} \text{으로 답음의 중심이}$$

원점이고 답음비가 $\frac{1}{2}$ 인 답음변환과 원점을 중심으로 반시계방향으로

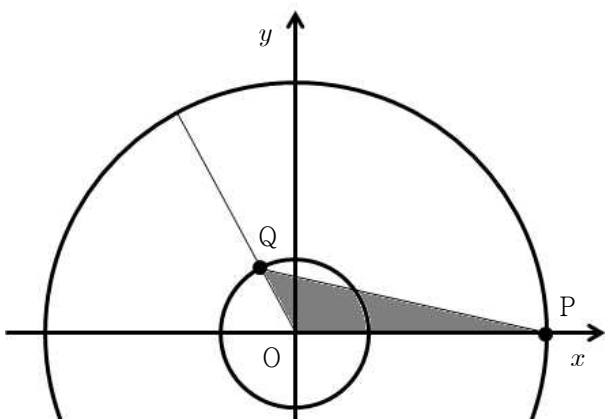
$\frac{\pi}{3}$ 만큼 회전시키는 회전변환의 합성변환을 나타내는 행렬이다. 따라서

일차변환 f 를 나타내는 행렬이 A^2 이므로, f 는 답음의 중심이 원점이고

답음비가 $\frac{1}{4}$ 인 답음변환과 원점을 중심으로 반시계방향으로 $\frac{2}{3}\pi$ 만큼

회전시키는 회전변환의 합성변환이다. 일차변환 f 에 의하여 $P(4, 0)$

가 옮겨지는 점 Q 를 그림으로 나타내면



$\overline{OQ} = 1$, $\angle POQ = \frac{2}{3}\pi$ 을 만족한다.

따라서 삼각형 QOP의 넓이는

$$\frac{1}{2} \times \overline{PO} \times \overline{OQ} \times \sin \frac{2}{3}\pi = \frac{1}{2} \times 4 \times 1 \times \frac{\sqrt{3}}{2} = \sqrt{3}$$

10) [] ① (출제자 : 10최원재)

[출제의도] 로그의 실생활 활용 문제에서 주어진 내용을 잘 적용할 수 있는가?

[해설]

파고의 주기가 $\frac{1}{\sqrt{2}}$ 일 때, 파고가 H_A , 파랑에너지 밀도가 S_A 이므로,

$$\log S_A = \log(4H_A^2) - 1 + C \dots \text{①}$$

파고의 주기가 $\frac{1}{2}$ 일 때, 파고가 H_B , 파랑에너지 밀도가 S_B 이므로,

$$\log S_B = \log(16H_B^2) - 4 + C \dots \text{②}$$

① - ② 을 계산하면

$$\log \frac{S_A}{S_B} = \log \frac{H_A^2}{4H_B^2} + 3 \text{ 이고, } H_B = 2H_A \text{ 이므로}$$

$$\log \frac{S_A}{S_B} = \log \frac{1}{16} + 3$$

$$\therefore \frac{125}{2}$$

11) [정답] ④ (출제자 : 15유정훈)

[출제의도] 여사건과 조건부확률을 계산할 수 있는가?

[해설 1]

$P(A) = \frac{2}{5}$, $P(B|A) = 3P(B|A^c)$ 라는 주어진 조건에 의해,

$$P(A^c) = \frac{3}{5}, \frac{P(A \cap B)}{P(A)} = \frac{3P(A^c \cap B)}{P(A^c)} \text{ 를 만족한다.}$$

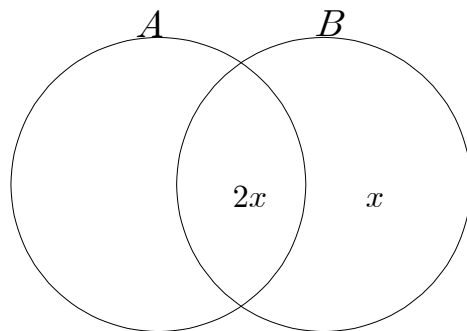
$$\frac{5P(A \cap B)}{2} = 5P(A^c \cap B) \text{ 이므로, } P(A \cap B) = 2P(A^c \cap B) \text{ 이다.}$$

$$P(B) = P(A^c \cap B) + P(A \cap B) = \frac{3}{2}P(A \cap B)$$

$$\text{따라서 } P(A|B) = \frac{P(A \cap B)}{P(B)} = \frac{P(A \cap B)}{\frac{3}{2}P(A \cap B)} = \frac{2}{3}$$

[해설 2]

$P(A^c \cap B) = x$ 라고 하고, 다음 상황을 벤다이어그램으로 나타내면



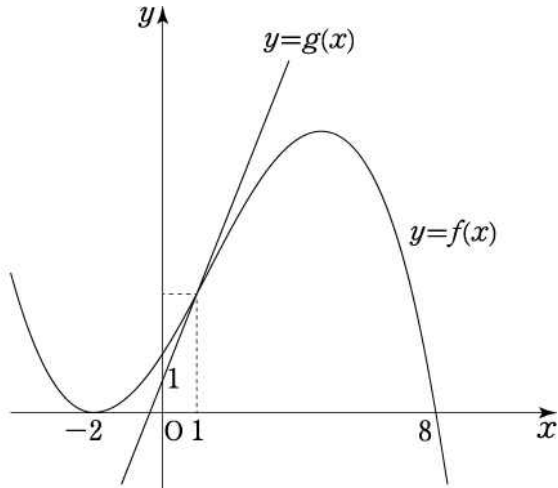
$$P(A|B) = \frac{P(A \cap B)}{P(B)} = \frac{2x}{3x} = \frac{2}{3}$$

수학 영역(B형)

12) [정답] ② (출제자 : 12양한솔)

[출제의도] 그래프를 통해 분수부등식의 해를 구할 수 있는가?

[해설]



$t = 2x$ 로 치환하면 $\frac{g(t)}{f(t)} \geq 1$ 이고 부등식 양 변에 $\{f(t)\}^2$ 를 곱해 정리하면 $f(t)g(t) - \{f(t)\}^2 \geq 0$ 이다. $f(t)\{g(t) - f(t)\} \geq 0$ 을 만족하는 경우를 분류하면

(i) $f(t) > 0, g(t) - f(t) \geq 0$
 $f(t) > 0$ 일 때, $g(t) \geq f(t)$ 을 만족하는 t 의 범위는 $1 \leq t < 8$ 이다.

(ii) $f(t) < 0, g(t) - f(t) \leq 0$
 $f(t) < 0$ 일 때 $g(t) \leq f(t)$ 를 만족하는 t 는 존재 하지 않는다.

따라서 $f(t)\{g(t) - f(t)\} \geq 0$ 을 만족하는 t 의 범위는 $1 \leq t < 8$ 이다.
 $t = 2x$ 이므로 부등식을 만족하는 x 의 범위는 $\frac{1}{2} \leq x < 4$ 이므로 6이다.

13) [정답] ① (출제자 : 14서재현)

[출제의도] 회전체의 부피를 적분을 이용하여 구할 수 있는가?

[해설]

$y = ax^2 - 4a$ 와 x 축으로 둘러싸인 부분을 y 축 둘레로 회전시키므로 $\pi \int_0^{-4a} x^2 dy$ 의 값을 구하면 된다.

$y = ax^2 - 4a$ 에서 $x^2 = \frac{1}{a}y + 4$ 이므로

$$\pi \int_0^{-4a} x^2 dy = \pi \int_0^{-4a} \left(\frac{1}{a}y + 4 \right) dy = \pi \times (-8a) = 16\pi$$

따라서 $a = -2$

14) [정답] ④ (출제자 : 14서재현)

[출제의도] 수열의 일반항을 찾을 수 있는가?

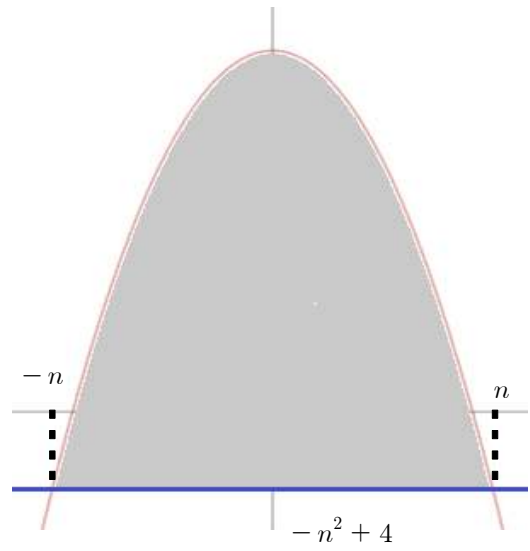
[해설]

먼저, $y = -n^2 + 4$ 와 $y = f(x)$ 로 둘러싸인 내부의 점을 구하기 위해서는 $y = -n^2 + 4$ 와 $y = f(x)$ 의 교점을 찾아야 한다.

$$-x^2 + 4 = -n^2 + 4$$

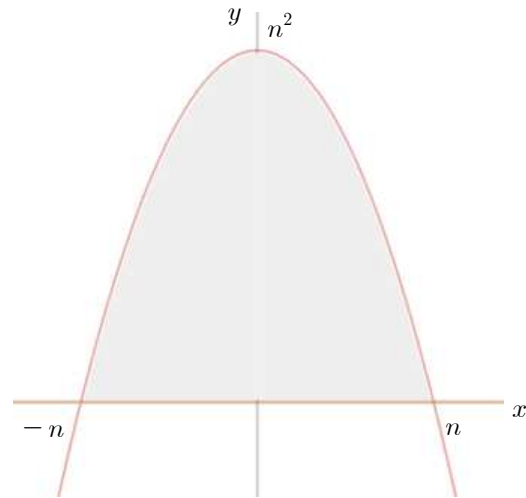
$x = \pm n$, 즉 $y = -n^2 + 4$ 와 $y = f(x)$ 는 $x = \pm n$ 에서 만난다.

이에 따라 그래프를 그리면

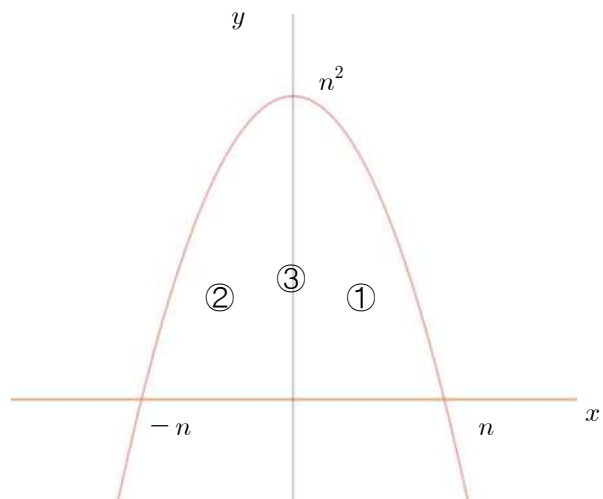


이 그래프에서 색칠한 부분 안에 존재하는 점 (x, y) 의 개수를 찾으려 한다.

여기서, 두 그래프를 평행이동해도 그래프 모양에는 변화가 없기 때문에 위의 그래프를 y 축으로 $n^2 - 4$ 만큼 평행이동을 시키면



다음 그래프에서 색칠한 부분에 속하는 점 중, x 좌표와 y 좌표가 모두 정수인 점 (x, y) 을 찾으려 한다.



다음 함수는 y 축 대칭이기 때문에,

$x > 0$ 인 부분 (① 영역)과

$x < 0$ 인 부분(② 영역)의 점 (x, y) 의 개수가 같다.

그러므로 $0 < x \leq n$ 일 때 점 개수를 구하고 2를 곱한 뒤, $x = 0$ 일 때(③ 영역)의 점 개수를 더하면 된다.

수학 영역(B형)

$x = k$ ($0 < k \leq n$) 일 때 점의 개수는

$0 \leq y \leq -k^2 + n^2$ 을 만족하는 정수 y 의 개수이므로 $-k^2 + n^2 + 1$ 개다.

따라서 $0 < x \leq n$ 일 때의 점의 개수는

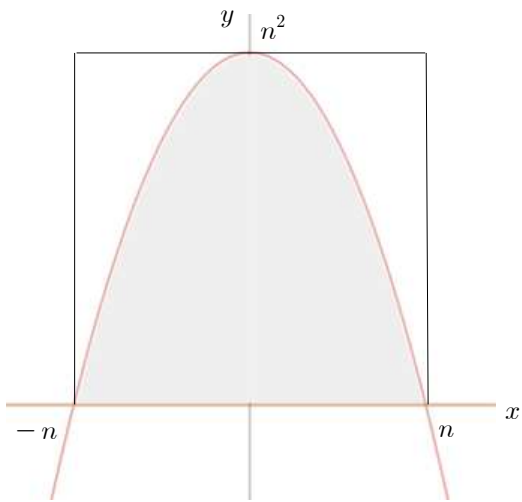
$$\sum_{k=1}^n (-k^2 + n^2 + 1) = n(n^2 + 1) - \frac{n(n+1)(2n+1)}{6} \text{ 개다.}$$

$x = 0$ 일 때의 점의 개수는 $n^2 + 1$ 개다.

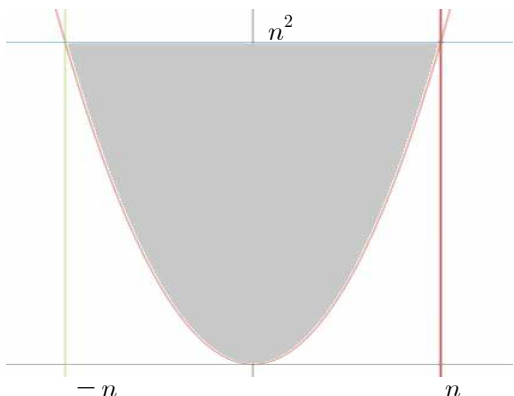
따라서 $a_n = 2n(n^2 + 1) - \frac{n(n+1)(2n+1)}{3} + n^2 + 1$ 이므로

$$\begin{aligned} \lim_{n \rightarrow \infty} \frac{a_n}{n^3} &= \lim_{n \rightarrow \infty} \frac{2(n-1)(n^2+1) - \frac{(n-1)n(2n-1)}{3} + n^2 + 1}{n^3} \\ &= 2 - \frac{2}{3} = \frac{4}{3} \end{aligned}$$

[별해]



평행이동 시킨 그래프 $y = -x^2 + n^2$ 와 x 축으로 둘러싸인 부분에 속하는 점 중, x 좌표와 y 좌표가 모두 정수인 점 (x, y) 을 찾기 위해서는 그림과 같이 두 꼭짓점이 $(n, 0)$, $(-n, 0)$ 이고 $(0, n^2)$ 을 지나는 직사각형에 존재하는 점의 개수에서 흰색 부분의 점의 개수를 빼면 된다. 다음 그림을 x 축 대칭이동 후, y 축의 방향으로 n^2 만큼 평행이동 시키면 아래 그림과 같다.



다음 그림에서 직사각형에 존재하는 점의 개수에서 하얀색 부분의 점의 개수를 빼면 된다.

하얀색 부분에 존재하는 점의 개수는

$$2 \times \sum_{k=1}^n k^2 = \frac{n(n+1)(2n+1)}{3}$$

따라서 구하고자 하는 a_n 은

$$a_n = (2n+1)(n^2+1) - \frac{n(n+1)(2n+1)}{3}$$

15) [정답] ③ (출제자 : 15전성완)

[출제의도] \sum 의 정의와 성질을 알고 활용할 수 있는가?

[해설]

주어진 식에 의하여

$$(n+2)a_{n+1} = (n+1)a_n + \frac{n(n+2)}{(2n+1)(2n+3)}$$

이므로 $n \geq 1$ 인 자연수 n 에 대하여

$$(n+1)a_n = 2a_1 + \sum_{k=1}^{n-1} \frac{k(k+2)}{(2k+1)(2k+3)} \dots (*)$$

이다. 한편

$$\begin{aligned} &\sum_{k=1}^{n-1} \frac{k(k+2)}{(2k+1)(2k+3)} \\ &= \frac{1}{2} \left\{ \sum_{k=1}^{n-1} \frac{k(k+2)}{2k+1} - \sum_{k=1}^{n-1} \frac{k(k+2)}{2k+3} \right\} \\ &= \frac{1}{2} \left\{ 1 + \sum_{k=2}^{n-1} \frac{k(k+2)}{2k+1} - \sum_{k=1}^{n-2} \frac{k(k+2)}{2k+3} - \frac{(n-1)(n+1)}{2n+1} \right\} \\ &= \frac{1}{2} \left(\boxed{n-1} - \frac{n^2-1}{2n+1} \right) \end{aligned}$$

$$\begin{aligned} &1 + \sum_{k=2}^{n-1} \frac{k(k+2)}{2k+1} - \sum_{k=1}^{n-2} \frac{k(k+2)}{2k+3} \\ &= 1 + \left(\frac{2 \cdot 4}{5} + \frac{3 \cdot 5}{7} + \frac{4 \cdot 6}{9} + \dots + \frac{(n-1)(n+1)}{2n-1} \right) \\ &\quad - \left(\frac{1 \cdot 3}{5} + \frac{2 \cdot 4}{7} + \frac{3 \cdot 5}{9} + \dots + \frac{(n-2) \cdot n}{2n-1} \right) \\ &= 1 + \left(\frac{5}{5} + \frac{7}{7} + \frac{9}{9} + \dots + \frac{2n-1}{2n-1} \right) = n-1 \end{aligned}$$

이므로 (*)에 의하여

$$a_n = \frac{1}{2(n+1)} \left(1 + \boxed{n-1} - \frac{n^2-1}{2n+1} \right) \quad (n \geq 1)$$

이다. 그러므로

$$a_n = \frac{1}{2(n+1)} \left(1 + \boxed{n-1} - \frac{n^2-1}{2n+1} \right) = \frac{1}{2(n+1)} \left(\frac{n^2+n+1}{2n+1} \right)$$

$$a_n = \frac{\boxed{n^2+n+1}}{2(n+1)(2n+1)} \quad (n \geq 1)$$

이다.

따라서 $f(n) = n-1$, $g(n) = n^2+n+1$ 이므로,

$$\frac{g(10)}{f(4)} = \frac{10^2+10+1}{3} = 37$$

[별해]

(가)를 구하는 과정에서

$$\sum_{k=2}^{n-1} \frac{k(k+2)}{2k+1} = \sum_{k=1}^{n-2} \frac{(k+1)(k+3)}{2(k+1)+1} = \sum_{k=1}^{n-2} \frac{k^2+4k+3}{2k+3}$$

$$1 + \sum_{k=2}^{n-1} \frac{k(k+2)}{2k+1} - \sum_{k=1}^{n-2} \frac{k(k+2)}{2k+3}$$

수학 영역(B형)

$$\begin{aligned}
 &= 1 + \sum_{k=1}^{n-2} \frac{(k+1)(k+3)}{2k+3} - \sum_{k=1}^{n-2} \frac{k(k+2)}{2k+3} \\
 &= 1 + \sum_{k=1}^{n-2} \frac{(k+1)(k+3) - k(k+2)}{2k+3} = 1 + \sum_{k=1}^{n-2} \frac{2k+3}{2k+3} \\
 &= n-1 \\
 &\text{따라서 } f(n) = n-1
 \end{aligned}$$

16) [정답] ③ (출제자 : 15이상민)
 [출제의도] 역행렬을 구하고 그 성질을 이용할 수 있는가?

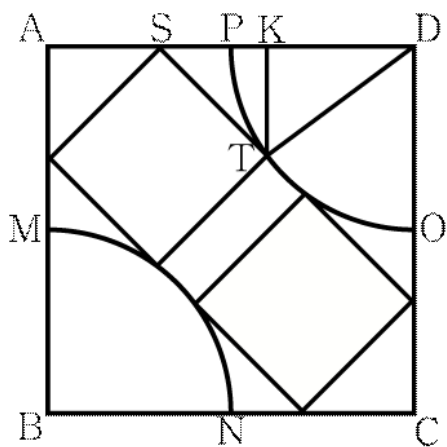
[해설]
 ㄱ. (참)
 첫 번째 식은 $(A-E)(A+B) = E$ 로 변형할 수 있으므로 $A+B$ 의 역행렬은 $A-E$ 로 존재한다.

ㄴ. (참)
 역행렬끼리는 교환법칙이 성립하므로 \neg 에 의해 $(A-E)(A+B) = (A+B)(A-E)$ 가 성립하고 정리하면 $AB = BA$ 이다.

ㄷ. (거짓)
 $AB = BA$ 이므로 행렬의 연산을 할 때, 다항식의 덧셈, 뺄셈, 곱셈과 같은 방법으로 계산할 수 있다. $(A-B)^2 - 4A^2 = O$ 을 합차공식을 이용해 두 식의 곱으로 변형하면 $(-A-B)(3A-B) = O$ 이고 이것은 $(A+B)(3A-B) = O$ 와 동치이다. $A+B$ 의 역행렬이 존재하므로 위 식의 양변에 $(A+B)^{-1}$ 을 곱하면 $B = 3A$ 인 것을 알 수 있다. $B = 3A$ 를 첫 번째 조건식에 대입하면 $A^2 - A = \frac{E}{4}$ 이다.

17) [정답] ③ (출제자 : 15이상민)
 [출제의도] 1. 보조선을 이용하여 선분의 길이를 구할 수 있는가?
 2. 무한등비급수를 계산하여 도형의 넓이를 구할 수 있는가?

[해설]



부채꼴과 새로 그린 정사각형중 하나와의 교점을 T라 하고 T에서 \overline{AD} 에 내린 수선의 발을 K라 할 때 정사각형은 대각선 AC에 대하여 대칭이므로 $KST = \frac{\pi}{4}$ 이다. $\overline{ST} = a$ 이라 할 때 $\overline{KT} = \overline{SK} = \overline{SA} = \frac{a}{\sqrt{2}}, \overline{KD} = 2 - \frac{2a}{\sqrt{2}}, \overline{TD} = 1$ 이고

삼각형 KDT에서 피타고라스 정리에 의해

$$\left(\frac{a}{\sqrt{2}}\right)^2 + \left(2 - \frac{2a}{\sqrt{2}}\right)^2 = 1^2$$

이차방정식을 풀면 $a = \frac{3\sqrt{2}}{5}$ 이다.

새로 만들어지는 정사각형은 이전의 정사각형에 대해 일정한 비율로 작아지므로 $\lim_{n \rightarrow \infty} S_n$ 은 등비급수임을 알 수 있다.

즉, 첫 번째 정사각형의 넓이는 a^2 이고, 이전의 정사각형에 대한 새로 만들어지는 정사각형의 길이의 비는 정사각형 ABCD의 한 변의 길이 2와 색칠된 첫 번째 정사각형의 한 변의 길이 a 의 비인 $\frac{a}{2}$ 이다. 따라서 S_n 은 첫째항이 $a^2 = \frac{18}{25}$ 이고 공비는 두 정사각형의 넓이의 비 $\left(\frac{a}{2}\right)^2 = \frac{9}{50}$ 인 등비급수이다.

$$\therefore \lim_{n \rightarrow \infty} S_n = \frac{\frac{18}{25}}{1 - \frac{9}{50}} = \frac{36}{41}$$

[별해]

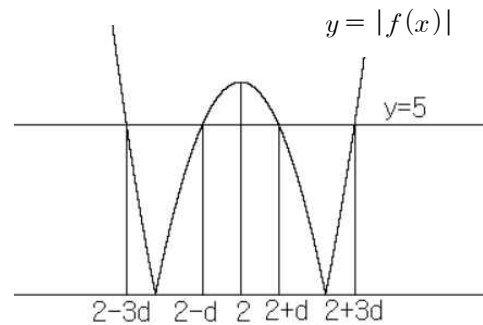
정사각형의 한 변의 길이를 a 로 ($\overline{ST} = a$) 잡은 대신에, 정사각형의 대각선의 길이를 a 로 놓으면 보다 계산을 간편하게 할 수 있다.

18) [정답] ① (출제자 : 15정다혜)
 [출제의도] 무리방정식을 풀 수 있는가?
 절댓값이 존재하는 이차함수의 풀이법과 그래프를 그릴 수 있는가?

[해설]

$$\begin{aligned}
 |f(x)| - 3 &= \sqrt{|f(x)| - 1} \text{의 양변을 제곱해 보자.} \\
 |f(x)|^2 - 7|f(x)| + 10 &= (|f(x)| - 2)(|f(x)| - 5) = 0 \\
 |f(x)| = 2 &\text{는 무연근이므로 } |f(x)| = 5
 \end{aligned}$$

문제에서 주어진 방정식의 서로 다른 네 근이 등차수열을 이루고, $|f(x)|$ 는 $x = 2$ 대칭이므로, 네 근은 $2-3d, 2-d, 2+d, 2+3d$ 로 둘 수 있다.



위의 그림과 같이, $|f(2+d)| = |f(2+3d)| = 5$ 이다. 함수 $f(x)$ 의 최고차항의 계수가 양수이므로, $f(2+d) = -5, f(2+3d) = 5$ 이다. 최고차항의 계수가 1이고 대칭축이 $x = 2$ 인 이차함수 $f(x)$ 를 $f(x) = (x-2)^2 + k$ 라 하고 위의 두 식을 대입하면, $d^2 + k = -5, 9d^2 + k = 5$ 이다. 따라서 $d^2 = \frac{5}{4}, k = -\frac{25}{4}$ 이고 $f(x) = (x-2)^2 - \frac{25}{4}$ 이다. $\therefore f(2) = -\frac{25}{4}$

수학 영역(B형)

19) [정답] ② (출제자 : 14서재현)

[출제의도] 모비율의 추정을 할 수 있는가?

[해설]

먼저 $a + b + 20 = 100$ 이고, 선호도 조사를 한 사람들 전체 중에서 A 제품을 선호한 사람들의 비율을 p , B 제품을 선호한 사람들의 비율을 q , C 제품을 선호한 사람들의 비율을 r 이라고 하자.

선호도 조사를 한 사람들 전체 중에서 C 제품을 선호한 사람들의 비율에 대한 신뢰도 95%의 신뢰구간을 구해보자.

100 명을 임의추출 했을 때, 20 명이 C 제품을 선호했으므로 $\hat{r} = \frac{20}{100}$,

또한 C 제품의 표본 비율은 정규분포 $N(r, \frac{r(1-r)}{100})$ 을 이루기 때문에,

선호도 조사를 한 사람들 전체 중에서 C 제품을 선호한 사람들의 비율에

대한 신뢰도 95%의 신뢰구간은 $2 \times 1.96 \times \sqrt{\frac{r(1-r)}{100}}$ (단, k 는 상수)이다. 이 때, r 대신 \hat{r} 를 차용가능하다.

마찬가지의 방법으로 A 제품을 선호한 사람들의 비율을 p 라고 하면,

A 제품을 선호한 사람들의 표본비율 또한 정규분포 $N(p, \frac{p(1-p)}{100})$ 를

따른다. 선호도 조사를 한 사람들 전체 중에서 A 제품을 선호한 사람들의 비율에 대한 신뢰도 95%의 신뢰구간을 구하면

$2 \times 1.96 \times \sqrt{\frac{p(1-p)}{100}}$ 이다. 이 때, p 대신 \hat{p} 를 차용가능하다.

문제에 의해

$$2 \times 1.96 \times \sqrt{\frac{p(1-p)}{100}} = \sqrt{6} \times 1.96 \times \sqrt{\frac{r(1-r)}{100}} \text{ 이고,}$$

\hat{r} 와 \hat{p} 를 차용하면

$$2 \times 1.96 \times \sqrt{\frac{\hat{p}(1-\hat{p})}{100}} = \sqrt{6} \times 1.96 \times \sqrt{\frac{\hat{r}(1-\hat{r})}{n}} \text{ 이고,}$$

$$\text{정리하면 } 2\sqrt{\hat{p}(1-\hat{p})} = \sqrt{6} \sqrt{\frac{1}{5}(1-\frac{1}{5})} \text{ 이므로,}$$

$$\text{이 식을 풀면 } \hat{p} = \frac{2}{5} \text{ or } \frac{3}{5} \text{ 가 나온다.}$$

$$a > b \text{ 이어야 하므로 } \hat{p} = \frac{3}{5}, a = 60 \text{ 이며, 따라서 } b = 20 \text{ 이다.}$$

(추가 : 신뢰구간에서 r 와 p 대신 \hat{r} , \hat{p} 로 차용 가능한 이유는 $100r$ 와 $100p$ 의 값이 모두 5가 넘기 때문이다.)

20) [정답] ⑤ (출제자 : 13김찬호)

[출제의도] 삼각함수의 극한을 계산할 수 있는가?

[해설]

\overline{AD} 를 긋고 삼각형 ADB 와 삼각형 O_1AO_2 를 생각해 보자.

우선 원 C_2 의 반지름의 길이를 r 이라 놓으면,

$$\text{삼각형 } O_1AO_2 \text{에서 } (r+4)\cos 2\theta = 4 \text{ 이므로, } r = \frac{4(1-\cos 2\theta)}{\cos 2\theta} \text{ 이다.}$$

또한, $\angle DBA = \theta$ 이고, $\overline{O_1B} = \overline{O_1D}$ 이므로 $\angle BDO_2 = \pi - \theta$ 가 된다.

점 O_1 에서 \overline{BD} 에 수선의 발을 내리고, 그 점을 M 이라 두면,

직각삼각형 O_1MD 에서 $\overline{MD} = 4\cos \theta$, $\overline{BD} = 2 \times 4\cos \theta = 8\cos \theta$ 이다.

삼각형의 넓이를 구하는 공식을 이용하면,

$$f(\theta) = \frac{1}{2} \times \overline{BD} \times \overline{DO_2} \times \sin(\pi - \theta) \text{ 이고,}$$

$$\overline{BD} = 8\cos \theta, \overline{DO_2} = r = \frac{4(1-\cos 2\theta)}{\cos 2\theta} \text{ 을 대입하면}$$

$$f(\theta) = \frac{1}{2} \times 8\cos \theta \times \frac{4(1-\cos 2\theta)}{\cos 2\theta} \times \sin(\pi - \theta)$$

$$= \frac{16\cos \theta (1-\cos 2\theta)\sin \theta}{\cos 2\theta}$$

$$= \frac{16\cos \theta 2\sin^2 \theta \sin \theta}{\cos 2\theta} \quad (\because 1-\cos 2\theta = 2\sin^2 \theta)$$

$$\therefore \lim_{\theta \rightarrow 0} \frac{f(\theta)}{\theta^3} = \lim_{\theta \rightarrow 0} \frac{16\cos \theta 2\sin^2 \theta \sin \theta}{\theta^3 \cos 2\theta} = \lim_{\theta \rightarrow 0} \frac{16\cos \theta 2\sin^3 \theta}{\theta^3 \cos 2\theta}$$

$$\lim_{\theta \rightarrow 0} \cos \theta = 1 \text{ 이고 } \lim_{\theta \rightarrow 0} \frac{\sin \theta}{\theta} = 1 \text{ 이므로}$$

$$\lim_{\theta \rightarrow 0} 32 \frac{\sin^3 \theta}{\theta^3} \frac{\cos \theta}{\cos 2\theta} = 32 \times 1 \times 1 = 32$$

답은 32이다.

21) [정답] ③ (출제자 : 14임현우)

[출제의도]

1. 그래프의 개형을 파악하여 그래프를 경우에 따라 그려낼 수 있는가?

2. 극점에 대해 잘 이해하고 있는가?

[해설]

$f(0) = -2t + 6$ 이므로 $f(0)$ 의 최솟값을 구하기 위해서는 t 의 최댓값을 구하면 된다.

$$f'(x) = -e^{-x}\{x^2 - (t-2)x - (t-2)\} - mx$$

곡선 $y = f(x)$ 의 극점을 판단하기 위해서는 $f'(x)$ 의 부호가 변하는 점, 즉 $f'(x) = 0$ 이 되는 상황에 주목해야 한다.

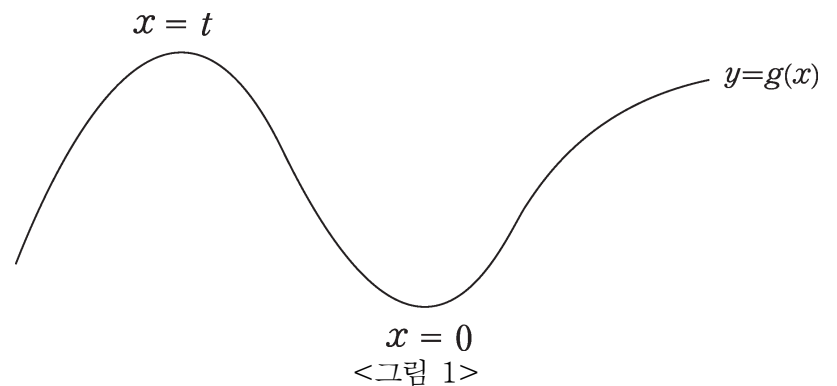
$f'(x) = 0$ 에서 $-mx$ 를 오른쪽으로 이항하면,

$$-e^{-x}\{x^2 - (t-2)x - (t-2)\} = mx$$

여기서 $g(x) = -e^{-x}\{x^2 - (t-2)x - (t-2)\}$ 라 하면 곡선 $y = g(x)$ 와 직선 $y = mx$ 가 만나는 점에 주목하며 생각하면 될 것이다.

곡선 $y = g(x)$ 를 그리기 위해 미분해보면, $g'(x) = xe^{-x}(x-t)$.

t 는 음의 정수이므로, $g(x)$ 는 $x = t$ 에서 극댓값, $x = 0$ 에서 극솟값을 갖는다. 따라서 대략적인 개형은 <그림1>과 같이 되는데,



원점을 지나는 직선 $y = mx$ 와 곡선 $y = g(x)$ 를 비교해야하므로 $y = g(x)$ 와 x 축 간의 관계를 살펴봐야 한다.

수학 영역(B형)

먼저 기본적으로 $g(x) = -e^{-x}\{x^2 - (t-2)x - (t-2)\}$ 에서 e^{-x} 는 절대 0이 될 수 없고, $x^2 - (t-2)x - (t-2)$ 는 0이 될 수 있는 x 의 값이 많아야 2개이므로, $y = g(x)$ 와 x 축과의 교점은 2개 이하이다. (교점은 $x^2 - (t-2)x - (t-2) = 0$ 을 만족하는 x 에서만 생길 수 있다.)
이 때 그 x 축과의 교점의 개수를 나누어 살펴볼 수 있는 방법을 2가지 제시하겠다. (어느 방법이든 자신이 편한 방법으로 풀이하면 된다.)

(방법1)

$g(x) = -e^{-x}\{x^2 - (t-2)x - (t-2)\}$ 에서 e^{-x} 는 항상 0보다 크므로, $x^2 - (t-2)x - (t-2)$ 의 판별식을 확인한다.

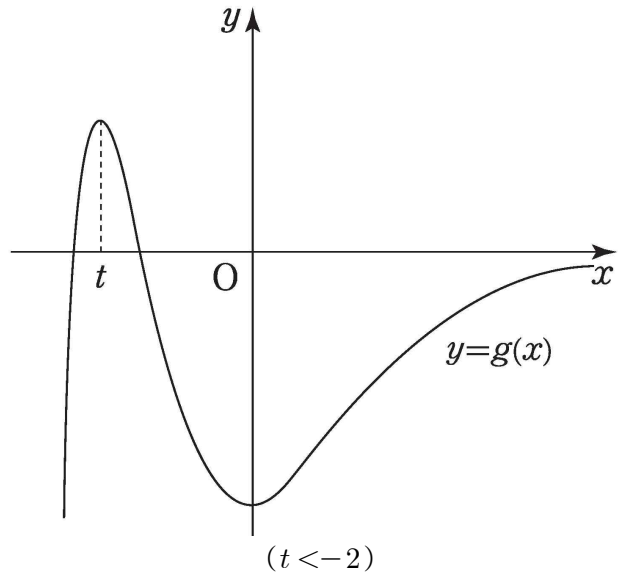
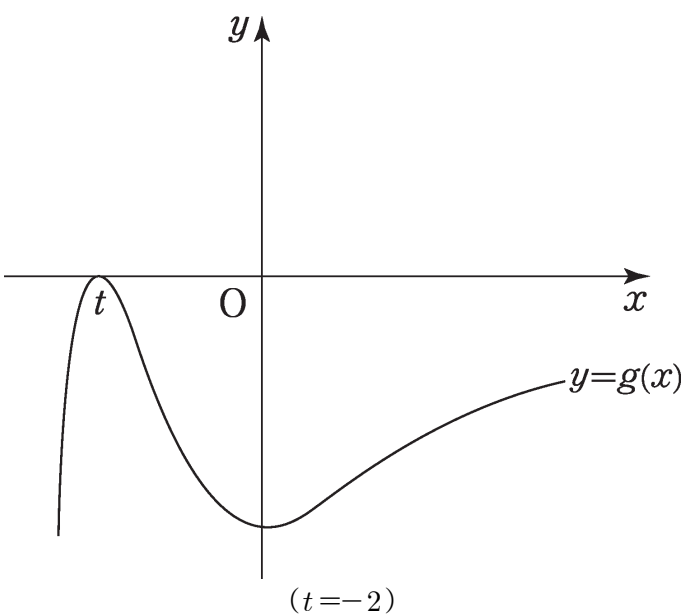
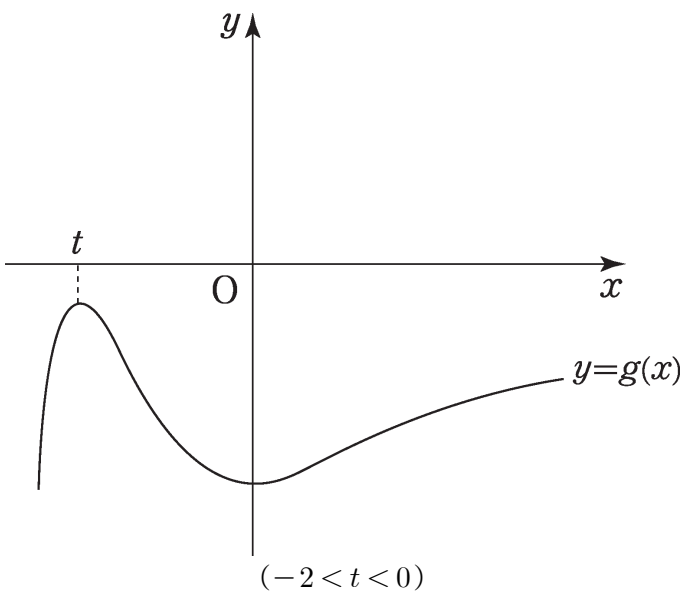
$D = (t-2)^2 + 4(t-2) = (t-2)(t+2)$ 에서

$t < -2$ 이면 $D > 0$, $t = -2$ 이면 $D = 0$, $-2 < t < 0$ 이면 $D < 0$ 임을 이용하여 x 축과의 교점의 개수를 파악하여 그래프를 그릴 수 있다.

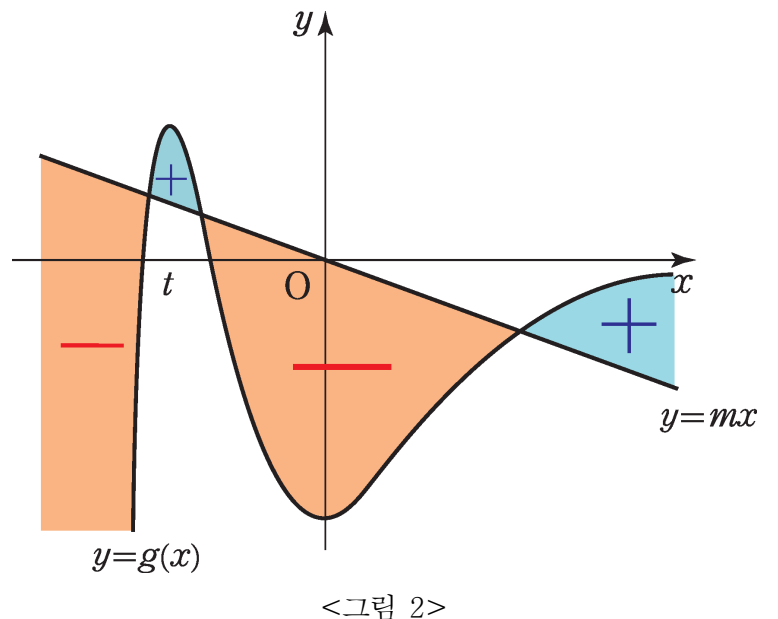
(방법2)

$g(x)$ 의 극댓값, 극솟값을 파악하면 극댓값은 $g(t) = -e^{-t}(t+2)$, 극솟값은 $g(0) = t-2$ 이므로, 극솟값은 항상 음수이고, 극댓값은 $t < -2$ 일 때 양수, $t = -2$ 일 때 0, $-2 < t < 0$ 일 때 음수임을 이용하여 그래프를 그릴 수 있다.

위의 방법을 이용하여 $g(x)$ 의 그래프를 그리면 다음과 같은 3개의 그래프를 그릴 수 있다.



다음으로 2개의 극솟점을 가진다는 말은 $f'(x)$ 의 부호가 -에서 +로 바뀌는 점이 2개라는 말이다. $f'(x) = g(x) - mx$ 이므로, $y = g(x)$ 가 $y = mx$ 보다 아래에 있을 때가 $f'(x)$ 의 부호가 음수이고 $y = g(x)$ 가 $y = mx$ 보다 위에 있을 때가 $f'(x)$ 의 부호가 양수이다. 그러면 결국 다음의 <그림 2>처럼 $y = g(x)$ 와 $y = mx$ 가 세 점에서 만나면 그 교점의 x 좌표에서 $y = f(x)$ 가 극솟값을 갖는다.



하지만 위의 그림처럼 세 점에서 만나려면 $t < -2$ 인 경우밖에 되지 않는다. $f(x)$ 가 2개의 극솟값을 가지게 하는 실수 m 이 존재한다고 하였으므로 t 는 -2 보다 작아야 한다. 따라서 t 의 최댓값은 -3 이고, $f(0)$ 의 최댓값은 $-2 \times (-3) + 6 = 12$ 이다.

22) [정답] 18 (출제자 : 13김찬호)

[출제의도] 등비수열의 일반항을 찾을 수 있는가?

[해설]

$\{a_n\}$ 은 공비가 3이고 첫째항이 양수인 등비수열이므로 첫째항을 a_1 이라 하면 일반항 $a_n = a_1 \times 3^{n-1}$ 이 된다. 여기에서 $a_1 a_4 = 108$ 이므로, $a_1 = a_1$, $a_4 = a_1 \times 3^3$ 이므로 $a_1 \times a_4 = a_1^2 \times 3^3$ 이 되므로, $a_1 = 2$ 가 된다. 따라서, $a_3 = a_1 \times 3^2$ 이므로, $a_3 = 18$ 이 된다.

수학 영역(B형)

23) [정답] 36 (출제자 : 12황성문)

[출제의도] 벡터의 내적을 구할 수 있는가?

[해설]

\overrightarrow{AM} 과 \overrightarrow{BC} 가 이루는 각을 θ 라 하면,

$$\overrightarrow{AM} \cdot \overrightarrow{BC} = |\overrightarrow{AM}| \cdot |\overrightarrow{BC}| \cdot \cos\theta$$

$$\theta = \frac{\pi}{3} \text{ 이므로 } \cos\theta = \frac{1}{2}$$

$$|\overrightarrow{AM}| \cdot |\overrightarrow{BC}| \cdot \cos\theta = 6 \times 12 \times \frac{1}{2} = 36$$

[별해]

$$\overrightarrow{AB} = \overrightarrow{CB} - \overrightarrow{CA} \text{ 이므로 } |\overrightarrow{AB}|^2 = |\overrightarrow{CB} - \overrightarrow{CA}|^2 = 144$$

$$\text{따라서, } |\overrightarrow{CB}|^2 - 2\overrightarrow{CB} \cdot \overrightarrow{CA} + |\overrightarrow{CA}|^2 = 144$$

$$144 - 2\overrightarrow{CB} \cdot \overrightarrow{CA} + 144 = 144$$

$$\overrightarrow{CB} \cdot \overrightarrow{CA} = 144$$

$$\overrightarrow{CB} \cdot \overrightarrow{CA} = 72 \text{ 이고 } \overrightarrow{CA} = -2\overrightarrow{AM}, \overrightarrow{CB} = -\overrightarrow{BC} \text{ 이므로}$$

$$\overrightarrow{CB} \cdot \overrightarrow{CA} = -\overrightarrow{BC} \cdot (-2\overrightarrow{AM}) = 72$$

$$\overrightarrow{BC} \cdot (2\overrightarrow{AM}) = 72, \overrightarrow{AM} \cdot \overrightarrow{BC} = 36$$

24) [정답] 40 (출제자 : 15최봉규)

[출제의도] 조건부 확률을 구할 수 있는가?

[해설]

전체 학생 200명 중에서 임의로 선택한 한 명이 30번 문제를 해결한 학생인 사건을 A , 학생이 여학생인 사건을 B 라 하면

$$\frac{1}{4} = P(B|A) = \frac{P(A \cap B)}{P(A)} = \frac{\frac{x}{200}}{\frac{24+x}{200}} = \frac{x}{24+x}$$

$$24+x = 4x, 3x = 24, x = 8$$

$$24+8+y+72 = 200$$

$$y = 96$$

전체 학생 200명 중에서 임의로 선택한 한 명이 30번 문제를 해결하지 못한 학생인 사건을 C , 학생이 남학생인 사건을 D 라 하면

$$p = P(D|C) = \frac{P(C \cap D)}{P(C)} = \frac{\frac{y}{200}}{\frac{y+72}{200}} = \frac{y}{y+72}$$

$$= \frac{96}{96+72} = \frac{96}{168} = \frac{4}{7}$$

$$\therefore 70p = 40$$

25) [정답] 10 (출제자 : 14고정민)

[출제의도] 직선의 방정식과 평면의 방정식을 이해하고 있는가?

[해설]

직선 l 과 평면 α 가 이루는 각의 크기가 60° 이므로 직선의 방향벡터 $(4, 3, a)$ 와 평면의 법선벡터 $(1, 2, 1)$ 가 이루는 각의 크기는 30° 이다. 이를 이용하여 두 벡터를 내적하면 다음과 같다.

$$\begin{aligned} (4, 3, a) \cdot (1, 2, 1) &= \sqrt{4^2+3^2+a^2} \times \sqrt{1^2+2^2+1^2} \times \cos 30^\circ \\ &= \sqrt{25+a^2} \times \sqrt{6} \times \frac{\sqrt{3}}{2} \\ &= \sqrt{25+a^2} \times \sqrt{6} \times \frac{\sqrt{3}}{2} \\ &= \frac{3\sqrt{2}}{2} \sqrt{25+a^2} \end{aligned}$$

$$(4, 3, a) \cdot (1, 2, 1) = 4 \times 1 + 3 \times 2 + a \times 1 = 10 + a$$

$$\text{즉, } \frac{3\sqrt{2}}{2} \sqrt{25+a^2} = 10 + a \text{ 이므로}$$

$$\frac{18}{4}(25+a^2) = (a+10)^2$$

$$9(25+a^2) = 2(a^2+20a+100)$$

$$7a^2 - 40a + 25 = 0$$

$a > 1$ 이므로 $a = 5$ 이다.

한편, 직선 l 과 평면 α 의 교점은 직선 l 위에 있으므로

$$\frac{x+3}{4} = \frac{y+4}{3} = \frac{z}{5} \text{ 위에 있다.}$$

따라서 $(4t-3, 3t-4, 5t)$ 로 나타낼 수 있다.

또한 이 점은 평면 α 위에도 있으므로 $x+2y+z=4$ 에 대입하면

$$(4t-3) + 2(3t-4) + (5t) = 4$$

$$4t + 6t + 5t = 3 + 8 + 4$$

$$15t = 15$$

$$t = 1$$

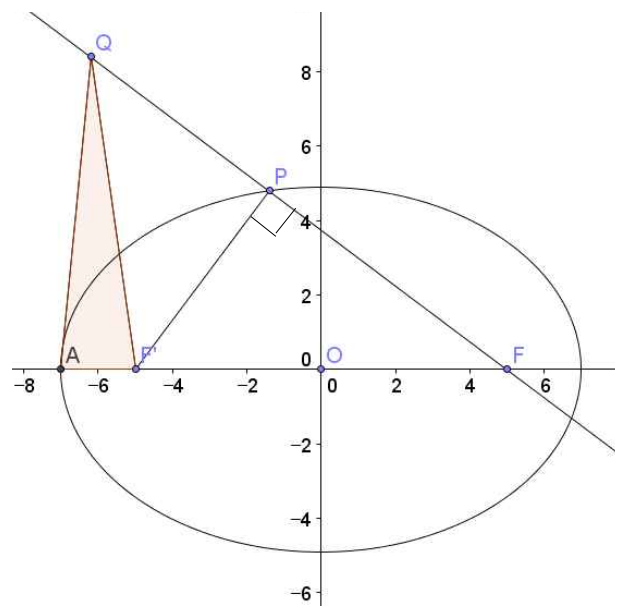
따라서 교점의 좌표는 $(1, -1, 5)$ 이다.

그러므로 $a+b+c+d = 5+1-1+5 = 10$ 이다.

26) [정답] 47 (출제자 : 15최봉규)

[출제의도] 타원의 정의와 삼각함수의 덧셈정리를 이용하여 문제를 해결할 수 있는가?

[해설]



타원의 초점 구하는 공식을 이용하면

$$c^2 = 49 - 24 = 25, c > 0 \text{ 이므로 } c = 5$$

$$F'(-5, 0), F(5, 0) \text{ 이므로 } \overline{FF'} = 10$$

$\overline{PF'} = \alpha, \overline{PF} = \beta$ 라고 두면

$$\text{피타고라스 정리에 의해 } \alpha^2 + \beta^2 = 10^2,$$

$$\text{타원의 정의에 의해 } \alpha + \beta = 2 \times 5 = 10$$

이 두 조건을 이용하여 계산하면

수학 영역(B형)

$$\overline{PF'} = \alpha = 6, \overline{PF} = \beta = 8$$

(점P 가 제 2사분면에 있으므로 $\overline{PF'} < \overline{PF}$)

$$\overline{PF'} = 6, \overline{PQ} = 6 \text{ 이므로 } \overline{QF'} = \sqrt{6^2 + 6^2} = 6\sqrt{2}$$

타원의 꼭짓점인 점A의 좌표는 $(-7, 0)$ 이고, $F'(-5, 0)$ 이므로

$$\overline{AF'} = 2$$

점 Q에서 x축에 수선의 발을 점H라고 하면

$$\text{삼각형 } AQF' \text{의 넓이} = \frac{1}{2} \times \overline{AF'} \times \overline{QH} = \overline{QH}$$

$$\angle PFF' \text{를 } \theta \text{라고 하면 } \overline{QH} = \overline{QF'} \times \sin \theta$$

∴ (삼각형 AQF'의 넓이)

$$= \overline{QH} = (6+8) \times \frac{3}{5} = \frac{42}{5}, 42+5 = 47$$

[별해]

(삼각형 AQF'의 넓이)

$$= \frac{1}{2} \times \overline{AF'} \times \overline{QF'} \times \sin \angle AF'Q$$

$$= \frac{1}{2} \times 2 \times 6\sqrt{2} \times \sin \angle AF'Q = 6\sqrt{2} \times \sin \angle AF'Q$$

$\angle PFF'$ 를 θ 라고 하면 $\angle PQF' = \frac{\pi}{4}$ 이므로

$$\sin \angle AF'Q = \sin\left(\frac{\pi}{4} + \theta\right)$$

$$= \sin \frac{\pi}{4} \cos \theta + \cos \frac{\pi}{4} \sin \theta = \frac{1}{\sqrt{2}}(\sin \theta + \cos \theta)$$

$$= \frac{1}{\sqrt{2}} \times \frac{7}{5}$$

$$\therefore (\text{삼각형 } AQF' \text{의 넓이}) = 6\sqrt{2} \times \frac{1}{\sqrt{2}} \times \frac{7}{5} = \frac{42}{5}$$

$$a+b = 42+5 = 47$$

27) [정답] 37 (출제자 : 15정다혜)

[출제의도] 지표와 가수의 정의를 문제에 잘 적용시킬 수 있는가?
범위에 따라 경우를 나눠서 할 수 있는가?

[해설]

$$\log x = f(x) + g(x) \quad (f(x) : \text{수}, 0 \leq g(x) < 1)$$

$0 \leq g(x) < 1$ 이므로, $0 \leq 3g(x) < 3$ 가 된다.

이때, $f(10x^2) - 3g(x) = n$ 에서 $f(10x^2) - n = 3g(x)$ 이고

$f(10x^2)$ 와 n 이 정수이므로, $3g(x)$ 도 정수이다.

$3g(x)$ 는 정수이면서, $0 \leq 3g(x) < 3$ 를 만족하므로

$3g(x)$ 는 0, 1, 2가 될 수 있다.

$$f(10x^2) - 3g(x) = n$$

$$\Leftrightarrow 1 + f(x^2) - 3g(x) = n$$

$$\Leftrightarrow f(x^2) = n - 1 + 3g(x) \quad \dots (*)$$

(i) $3g(x) = 0$ 일 때

즉, $g(x) = 0$ 일 때이므로 (*)에서 $f(x^2) = n - 1$ 이다.

$$\log x = f(x) + g(x) = f(x) \text{에서}$$

$$\log x^2 = 2 \log x = 2f(x) + 0 \text{이므로}$$

$$f(x^2) = 2f(x) = n - 1, \text{ 즉, } f(x) = \frac{n-1}{2} \text{이다.}$$

이때, $f(x)$ 는 $\log x$ 의 지표이므로 정수여야 하고,

$\frac{n-1}{2}$ 가 정수이기 위해서는 n 이 홀수여야 한다.

즉, n 이 홀수일 때만 지표 $f(x)$ 가 존재할 수 있기 때문에

n 이 홀수일 때만 $f(10x^2) - 3g(x) = n$ 을 만족하는 x 가 존재한다.

(ii) $3g(x) = 1$ 일 때

즉, $g(x) = \frac{1}{3}$ 일 때이므로 (*)에서 $f(x^2) = n$ 이다.

$$\log x = f(x) + g(x) = f(x) + \frac{1}{3} \text{에서}$$

$$\log x^2 = 2f(x) + \frac{2}{3} \text{이므로,}$$

$$f(x^2) = 2f(x) = n, \text{ 즉, } f(x) = \frac{n}{2} \text{이다.}$$

이때, $f(x)$ 는 $\log x$ 의 지표이므로 정수여야 하고,

$\frac{n}{2}$ 가 정수이기 위해서는 n 이 짝수여야 한다.

즉, n 이 짝수일 때만 지표 $f(x)$ 가 존재할 수 있기 때문에

n 이 짝수일 때만 $f(10x^2) - 3g(x) = n$ 을 만족하는 x 가 존재한다.

(iii) $3g(x) = 2$ 일 때

즉, $g(x) = \frac{2}{3}$ 일 때이므로 (*)에서 $f(x^2) = n + 1$ 이다.

$$\log x = f(x) + g(x) = f(x) + \frac{2}{3} \text{에서}$$

$$\log x^2 = 2f(x) + \frac{4}{3} = \{2f(x) + 1\} + \frac{1}{3} \text{이므로}$$

$$f(x^2) = 2f(x) + 1 = n + 1, \text{ 즉, } f(x) = \frac{n}{2} \text{이다.}$$

이때, $f(x)$ 는 $\log x$ 의 지표이므로 정수여야 하고,

$\frac{n}{2}$ 가 정수이기 위해서는 n 이 짝수여야 한다.

즉, n 이 짝수일 때만 지표 $f(x)$ 가 존재할 수 있기 때문에

n 이 짝수일 때만 $f(10x^2) - 3g(x) = n$ 을 만족하는 x 가 존재한다.

(i), (ii), (iii)에 의해

n 이 홀수일 때, $f(10x^2) - 2g(x) = n$ 를 만족하는 x 가 (i)에서 1개,

n 이 짝수일 때, $f(10x^2) - 2g(x) = n$ 를 만족하는 x 가 (ii), (iii)에서 각각 1개씩 존재하므로,

$$a_1 = a_3 = \dots = a_{25} = 1, a_2 = a_4 = \dots = a_{24} = 2 \text{이다.}$$

$$\therefore \sum_{n=1}^{25} a_n = (a_1 + a_3 + \dots + a_{25}) + (a_2 + a_4 + \dots + a_{24})$$

$$= 13 + (2 \times 12)$$

$$= 37$$

수학 영역(B형)

28) [정답] 44 (출제자 : 14임현우)

[출제의도]

1. 확률밀도함수를 이해하고 평균과 분산을 구할 줄 아는가?
2. 기함수와 우함수의 성질을 정적분의 연산에서 적절히 활용할 수 있는가?

개념 알기

모든 실수 x 에 대하여

$f(-x) = f(x)$ 를 만족하는 함수 $f(x)$ 를 '**우함수**'

$f(-x) = -f(x)$ 를 만족하는 함수 $f(x)$ 를 '**기함수**'

라고 한다.

우함수 $f(x)$ 에 대해 $\int_{-a}^a f(x)dx = 2 \int_0^a f(x)dx$ 가 성립한다.

기함수 $f(x)$ 에 대해 $\int_{-a}^a f(x)dx = 0$ 이 성립한다.

(그래프를 그려보면 쉽게 확인할 수 있다.)

[해설]

$V(X) = E(X^2) - (E(X))^2$ 이므로 $E(X^2)$ 과 $E(X)$ 를 구하자.
먼저 $y = f(x)$ 의 그래프가 y 축에 대하여 대칭이므로, $f(x)$ 는 우함수이다.

$E(X) = \int_{-2}^2 xf(x)dx$ 이고, $xf(x)$ 는 기함수이기 때문에,

$E(X) = \int_{-2}^2 xf(x)dx = 0$ 이다.

다음으로 $E(X^2)$ 를 구해보자.

$$\begin{aligned} E(X^2) &= \int_{-2}^0 (x-2)^2 f(x)dx \\ &= \int_{-2}^0 x^2 f(x)dx - 4 \int_{-2}^0 xf(x)dx + 4 \int_{-2}^0 f(x)dx \end{aligned}$$

$x^2 f(x)$ 는 우함수이므로 $\int_{-2}^0 x^2 f(x)dx = \int_0^2 x^2 f(x)dx$

$xf(x)$ 는 기함수이므로 $\int_{-2}^0 xf(x)dx = - \int_0^2 xf(x)dx$

$\int_{-2}^2 f(x)dx = 1$ 이고 $f(x)$ 는 우함수이므로 $\int_{-2}^0 f(x)dx = \frac{1}{2}$

$E(X^2) = \int_{-2}^2 x^2 f(x)dx = 2 \int_0^2 x^2 f(x)dx$

따라서

$$2 \int_0^2 x^2 f(x)dx = \int_0^2 x^2 f(x)dx + 4 \int_0^2 xf(x)dx + 2$$

$$\int_0^2 x^2 f(x)dx = 4 \int_0^2 xf(x)dx + 2$$

$$E(X^2) = 2 \int_0^2 x^2 f(x)dx = 8 \int_0^2 xf(x)dx + 4$$

(가) 조건에서 $\int_{-2}^2 |x|f(x)dx = 10$

$|x|f(x)$ 는 우함수이므로

$$\int_{-2}^2 |x|f(x)dx = 2 \int_0^2 |x|f(x)dx = 2 \int_0^2 xf(x)dx = 10$$

따라서 $\int_0^2 xf(x)dx = 5$

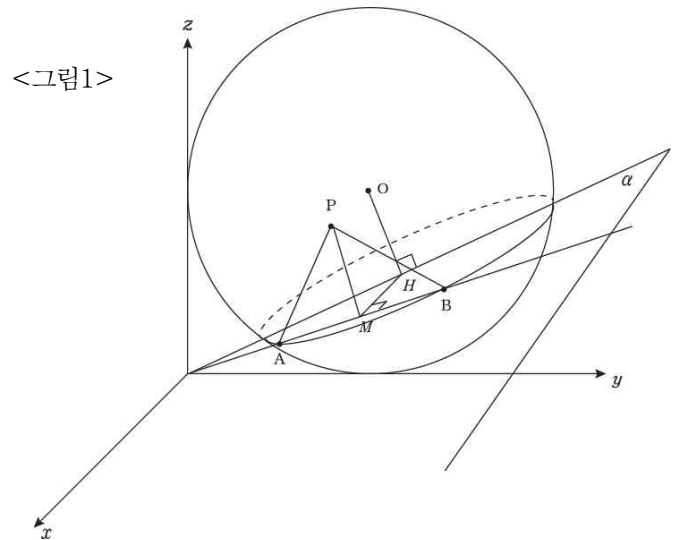
$$E(X^2) = 8 \times 5 + 4 = 44, \quad V(X) = 44 - 0^2 = 44$$

29) [정답] 16 ($s = \frac{2\sqrt{6}}{3}$) (출제자 : 10최원재)

[출제의도] 주어진 조건을 이용하여 정사영 넓이의 최댓값을 구할 수 있는가?

[해설]

구의 중심 O 에 대하여 α 평면에 내린 수선의 발을 H , H 에서 선분 AB 에 내린 수선의 발을 M 이라 하자. 사면체 $OPAB$ 는 모든 모서리의 길이가 2인 정사면체가 되고, 정사면체 $OPAB$ 가 O 를 중심으로 움직일 때, 정삼각형 PAB 와 α 평면 사이의 각의 변화를 조사하자.

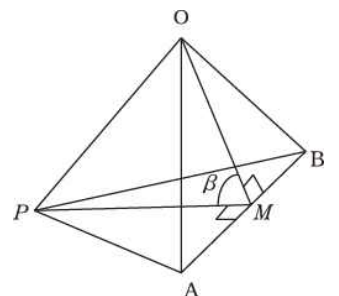


Step1) 한 변의 길이가 2인

정사면체 $OPAB$ 에서 $\angle OMP = \beta$ 라 하면, $\overline{OM} = \overline{PM} = \sqrt{3}$, $\overline{OP} = 2$ 이므로 제2코사인 법칙에 의해

$$\cos\beta = \frac{(\sqrt{3})^2 + (\sqrt{3})^2 - 2^2}{2 \cdot \sqrt{3} \cdot \sqrt{3}} = \frac{1}{3}$$

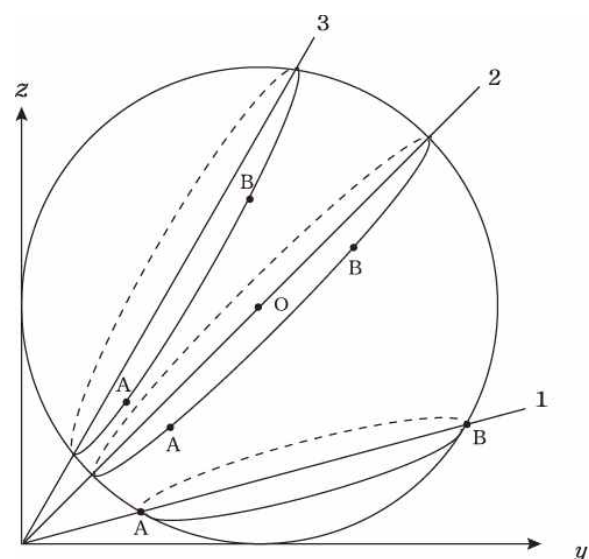
정삼각형 PAB 의 넓이는 항상 $\frac{\sqrt{3}}{4}(2)^2 = \sqrt{3}$ 이고,



<그림1>에서 $\angle OMH = \gamma$ 라 하면, 삼각형 PAB 와 α 평면 사이의 이면각은 $\beta + \gamma$ 인데, β 는 항상 일정하므로 γ 가 어떻게 변하는지 생각하면 정삼각형 PAB 의 평면 α 위로의 정사영의 넓이의 최댓값을 구할 수 있다.

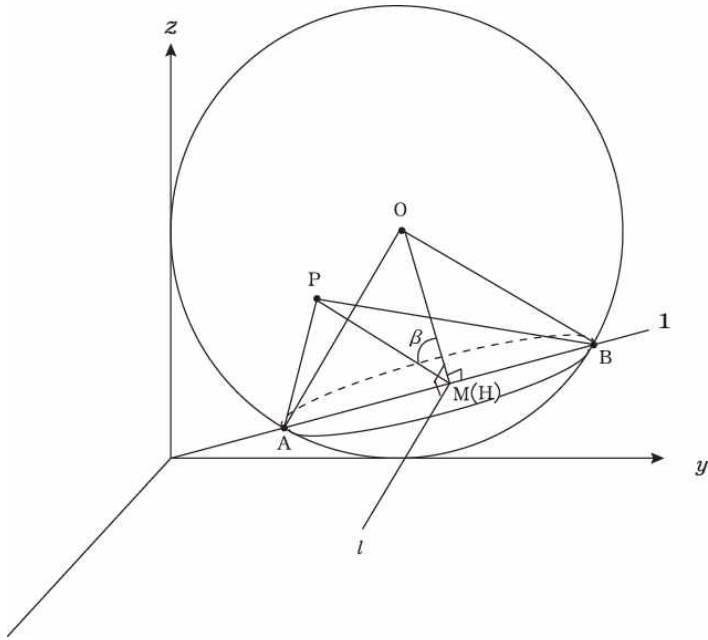
Step2) 선분 AB 의 길이가 2가 될 수 있는 그림을 그려보면

1에서 2의 모양을 거쳐 3으로 가는 형태가 된다.



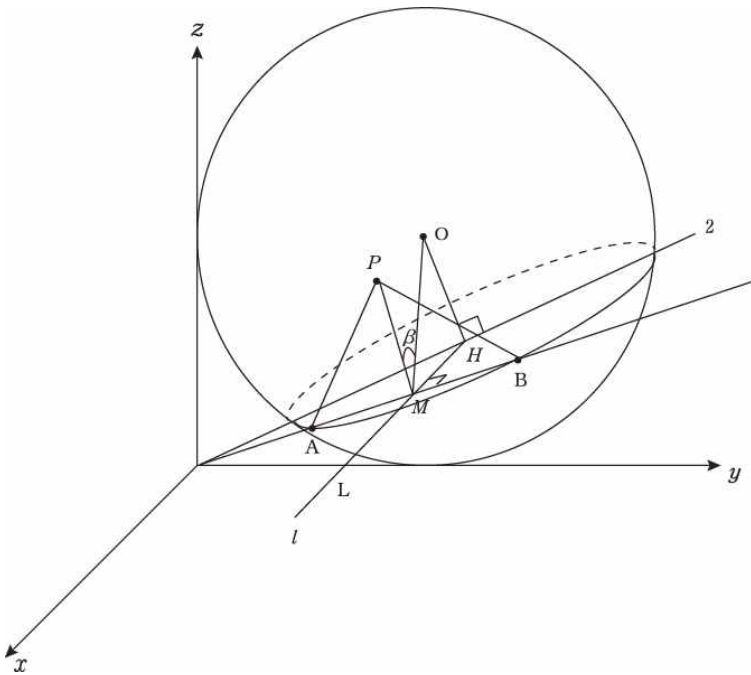
수학 영역(B형)

i) 1의 경우



삼각형PAB와 α 평면 사이의 각은 $\frac{\pi}{2} - \beta$ 가 되므로 삼각형 PAB의 α 평면 위로의 정사영의 넓이는 $\sqrt{3} \cos(\frac{\pi}{2} - \beta) = \sqrt{3} \sin\beta = \frac{2\sqrt{6}}{3}$

ii) 1에서 3형태 사이의 경우



삼각형PAB와 α 평면 사이의 각은 $\angle OML$ 의 각이 $\frac{\pi}{2}$ 보다 커지므로 삼각형PAB의 평면 α 위로의 정사영의 넓이는 점점 작아지다가 0이 되고, 점점 다시 커지게 된다.

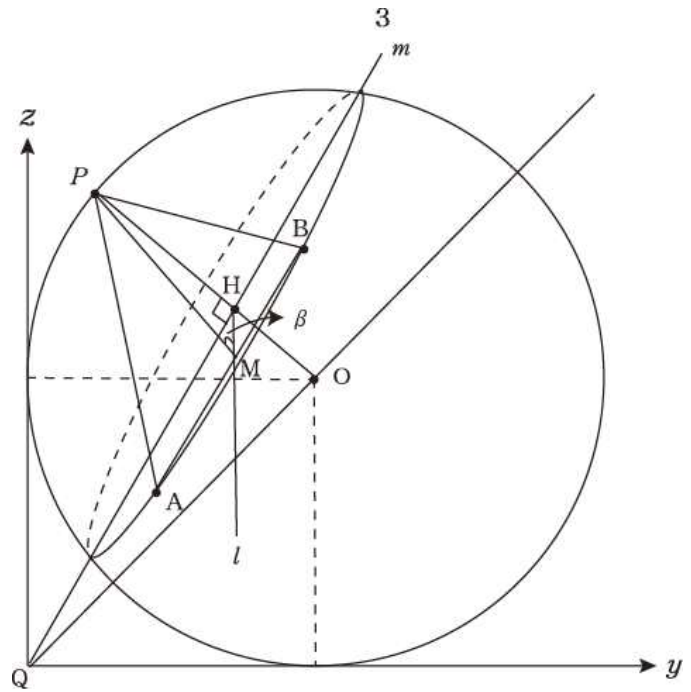
iii) 3의 경우

점 P가 yz 평면과 구의 교선 위에 있을 때를 생각하자.
점 P가 yz 평면과 구의 교선 위에 있을 때를 생각하자.

α 평면과 점 A, B, P를 포함하는 평면의 교선 \overline{AB} 에 대하여 $\overline{AB} \perp \overline{HM}$ 이고 $\overline{PM} \perp \overline{AB}$ 이므로 삼수선의 정리에 의하여 $\overline{PH} \perp \alpha$ 이고, 점 H는 구의 중심 O에서 α 에 내린 수선의 발이므로 $\therefore \alpha \perp \overline{OH}$

따라서 α 평면 위의 직선 m 에 대하여

$$\therefore m \perp \overline{PH}$$



$\angle OPM = \theta$ 라 하면,

정사면체 POAB에서 $\overline{OP} = 2$, $\overline{PM} = \sqrt{3}$, $\overline{OM} = \sqrt{3}$ 이므로

$$\text{제 2코사인 법칙에 의해 } \cos\theta = \frac{2^2 + (\sqrt{3})^2 - (\sqrt{3})^2}{2 \cdot 2 \cdot \sqrt{3}} = \frac{1}{\sqrt{3}} \text{ 이}$$

되고, 직각삼각형 PHM에서

$$\overline{HM} = \overline{PM} \cos\beta = \overline{PM} \sin\theta = \sqrt{3} \times \frac{\sqrt{2}}{\sqrt{3}} = \sqrt{2}$$

삼각형 PAB의 α 평면 위로의 정사영의 넓이는 삼각형HAB의 넓이와

$$\text{같으므로 } \frac{1}{2} \times 2 \times \overline{HM} = \sqrt{2}$$

i), ii), iii)에 의하여 $\frac{2\sqrt{6}}{3} > \sqrt{2}$ 이므로 삼각형 PAB의 α 평면

위로의 정사영의 넓이의 최댓값은 $\frac{2\sqrt{6}}{3}$ 이고,

$$\therefore 6s^2 = 16 \text{ 이다.}$$

[보충]

위에서 나눈 각 경우에 따라, 즉 α 평면이 결정될 때마다, 문제의 조건을 만족하는 점 A, B의 경우가 한가지로 결정된다. 그리고 점 P의 경우는 두 가지로 결정되는데, 그 두 점은 평면 $z = y$ 에 대하여 대칭이므로, 세 경우 안에 포함된다.

수학 영역(B형)

30) [정답] 54 (출제자 : 11양중현)

[출제의도] 역함수의 미분법과 적분법 및 부분적분법과 치환적분법을 이해하고 있는가?

[해설]

함수 $g(x)$ 가 $x=e$ 에서 연속이므로 $g(e) = \lim_{x \rightarrow e+0} g(x)$ 를 만족한다.

그런데

$$\lim_{x \rightarrow e+0} g(x) = \lim_{x \rightarrow e+0} \{2(x-e)g'(x-e) + k\} = \lim_{t \rightarrow +0} \{2tg'(t) + k\}$$

$$= \lim_{t \rightarrow +0} [2t\{6f'(t) + 6tf''(t)\} + k] = k \quad (\text{별해 ㉔ 참고})$$

$$6ef'(e) = k \text{ 이다.}$$

그런데 $f^{-1}(1) = e$ 이므로 $f(e) = 1$ 이고 역함수 미분법으로부터

$$f'(e) = \frac{1}{(f^{-1})'(1)} = \frac{1}{\int_0^e f(x) dx}_{x=1} = \frac{1}{3e}$$

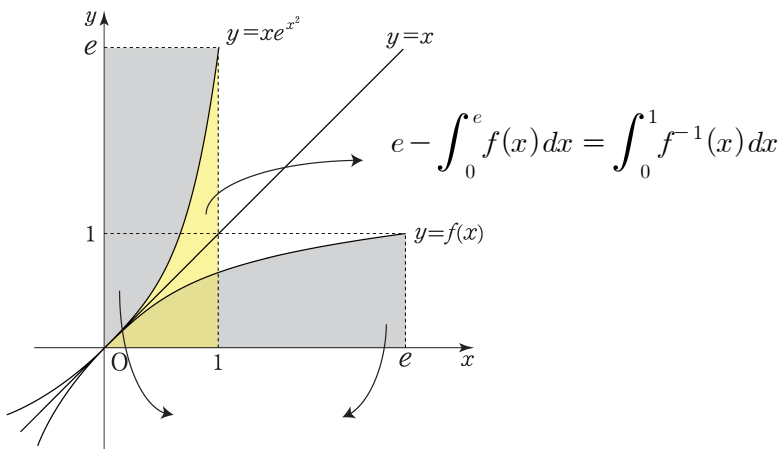
$$\therefore g(e) = k = 2 \quad \dots \text{㉑}$$

$$\int_0^{2e} g(x) dx$$

$$= \int_0^e 6xf'(x) dx + \int_e^{2e} \{2(x-e)g'(x-e) + 2\} dx$$

$$\text{i) } \int_0^e xf'(x) dx = [xf(x)]_0^e - \int_0^e f(x) dx$$

$$= ef(e) - 0f(0) - \int_0^e f(x) dx = \int_0^1 f^{-1}(x) dx \quad (\text{아래 그림 참고})$$



$$\text{그러므로 } \int_0^e xf'(x) dx = \int_0^1 f^{-1}(x) dx = \int_0^1 xe^{x^2} dx \text{ 인데}$$

$$x^2 = t \text{ 로 치환하면 } 2x dx = dt \text{ 로부터 } x dx = \frac{1}{2} dt$$

$$\therefore \int_0^1 xe^{x^2} dx = \int_0^1 \frac{1}{2} e^t dt = \left[\frac{1}{2} e^t \right]_0^1 = \frac{e-1}{2}$$

$$\therefore \int_0^e xf'(x) dx = \frac{e-1}{2}$$

$$\therefore \int_0^e 6xf'(x) dx = 3e-3 \quad \dots \text{㉒}$$

$$\text{ii) } \int_e^{2e} \{2(x-e)g'(x-e) + 2\} dx \text{ 에서 } x-e = t \text{ 로 치환하면}$$

$dx = dt$ 이다.

$$\text{따라서 } \int_e^{2e} \{2(x-e)g'(x-e) + 2\} dx = \int_0^e \{2tg'(t) + 2\} dt$$

여기서 $\int_0^e tg'(t) dt$ 를 부분적분을 이용하여 구해보면

$$\int_0^e tg'(t) dt = [tg(t)]_0^e - \int_0^e g(t) dt = eg(e) - \int_0^e 6xf'(x) dx$$

$$= 2e - (3e-3) \quad (\because \text{㉑과 ㉒로부터})$$

$$= 3-e$$

그러므로

$$\int_0^e \{2tg'(t) + 2\} dt = 2 \int_0^e tg'(t) dt + 2e = 2(3-e) + 2e = 6$$

i)의 경우와 ii)의 경우를 합치면

$$\int_0^{2e} g(x) dx = \int_0^e g(x) dx + \int_e^{2e} g(x) dx = (3e-3) + 6 = 3e+3$$

따라서 $a=3, b=3$ 이다.

$$\therefore a^3 + b^3 = 54$$

[별해]

㉑ $\int_0^e xf'(x) dx$ 의 값을 부분적분 대신 치환적분을 사용하여 구할 수도

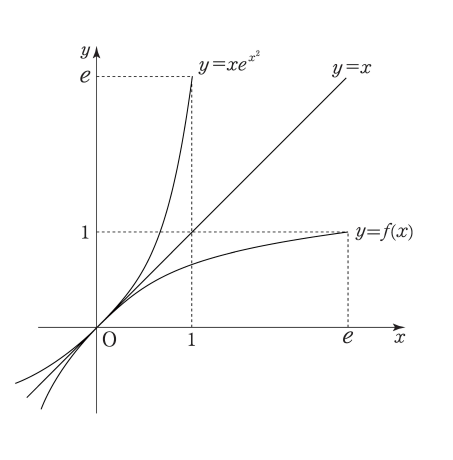
있다. $f(x) = y$ 로 치환하면 $f'(x) dx = dy$ 이고 $x = f^{-1}(y)$ 이므로

$$\int_0^e xf'(x) dx = \int_0^1 f^{-1}(y) dy = \int_0^1 ye^{y^2} dy \text{ 로 계산할 수 있다.}$$

㉒ $\lim_{x \rightarrow e+0} g(x) = \lim_{t \rightarrow +0} [2t\{6f'(t) + 6tf''(t)\} + k]$ 에서 $\lim_{t \rightarrow +0} f'(t)$ 의

값과 $\lim_{t \rightarrow +0} f''(t)$ 의 값을 구하는 과정이 쉽지가 않다. 다만, 존재성은

역함수의 $y=x$ 에 대한 대칭성을 이용하여, 아래 그림과 같이 두 값의 존재성을 간접적으로 확인할 수 있다.



함수 $y = xe^{x^2}$ 이 점 $(0,0)$ 의 좌우에서 아래로 볼록에서 위로 볼록으로 바뀐다. 즉, 이계도함수의 부호가 바뀌기 때문에 점 $(0,0)$ 을 변곡점으로 갖는다. 함수 $y = f(x)$ 는 $y = x$ 에 대한 대칭성에 의해 점 $(0,0)$ 의 좌우에서 위로 볼록에서 아래로 볼록으로 바뀐다. 따라서 함수 $y = f(x)$ 도 점 $(0,0)$ 을 변곡점으로 갖는다. 그러므로 $\lim_{t \rightarrow +0} f''(t) = 0$ 이다.

$$\text{실제로 } \lim_{t \rightarrow +0} f'(t) = \lim_{t \rightarrow +0} \frac{e^{-t^2}}{1+2t^2} = 1,$$

$$\lim_{t \rightarrow +0} f''(t) = \lim_{t \rightarrow +0} -\frac{2e^{-2t^2}t(2t^2+3)}{(2t^2+1)^3} = 0 \text{ 이다. (이는 역함수 미분법}$$

및 매개변수 미분법에 의해 나온 결과이며, 출제 의도와는 관계없습니다.)

[출제자의 말]

$g(x)$ 의 식 $g(x) = \begin{cases} 6xf'(x) & (0 \leq x \leq e) \\ 2(x-e)g'(x-e)+k & (e < x < 2e) \end{cases}$ 에서 $g(2e)$ 값이 왜 빠져있는지 의문인 분들이 있을 것 같습니다. 저것은 오타가 아니고 문제 출제의 제약과 의도 상 일부러 주지 않은 것입니다.

① $g'(e)$ 의 값이 정의되지 않으므로

$$g(x) = \begin{cases} 6xf'(x) & (0 \leq x \leq e) \\ 2(x-e)g'(x-e)+k & (e < x \leq 2e) \end{cases} \text{라 줄 경우}$$

$g(2e) = eg'(e) + k$ 값이 정의되지 않습니다.

또한 미분가능성을 열린구간에서 확인하는 것처럼, 도함수의 함숫값도 열린구간에서 주는 것이 맞다고 판단했습니다.

②

$$g(x) = \begin{cases} 6xf'(x) & (0 \leq x \leq e) \\ 2(x-e)g'(x-e)+k & (e < x < 2e) \\ \frac{14}{9} & (x = 2e) \end{cases}$$

로 주는 방법도 있겠지만,

$$\lim_{x \rightarrow 2e-0} (x-e)g'(x-e)+k = \frac{14}{9} \text{를 이용하여 } k \text{ 값을 구하는}$$

것이 문제의 의도가 아니기 때문에 배제시켰습니다.

③ 굳이 $x = 2e$ 에서의 연속성 여부에 관계없이 $\int_0^{2e} g(x) dx$ 값은

일정하므로 줄 필요 없지 않느냐는 분도 있겠지만, 고교 과정에서는 연속함수에서의 적분만을 묻기 때문에 배제시켰습니다.

이러한 이유들로 인해 본 문제의 표현과 같이 닫힌구간 $[0, 2e]$ 에서 연속이고 $g(2e)$ 값이 자동적으로 결정이 되면서 그 값에 관계없이 정적분

$$\int_0^{2e} g(x) dx \text{ 값을 구하도록 했습니다.}$$

☺ 같이 풀어보면 좋은 문제

-2014년도 9월 평가원 B형

30. 두 연속함수 $f(x), g(x)$ 가

$$g(e^x) = \begin{cases} f(x) & (0 \leq x < 1) \\ g(e^{x-1})+5 & (1 \leq x \leq 2) \end{cases}$$

를 만족시키고, $\int_1^{e^2} g(x) dx = 6e^2 + 4$ 이다.

$\int_1^e f(\ln x) dx = ae + b$ 일 때, $a^2 + b^2$ 의 값을 구하시오.

(단, a, b 는 정수이다.) [4점]