

수학 영역

짝수형

성명		수험 번호												
----	--	-------	--	--	--	--	--	--	--	--	--	--	--	--

- 문제지의 해당란에 성명과 수험 번호를 정확히 쓰시오.
- 답안지의 필적 확인란에 다음의 문구를 정자로 기재하십시오.

국가의 운명은 오직 청년 교육에 달려 있다

- 답안지의 해당란에 성명과 수험 번호를 쓰고, 또 수험 번호와 답을 정확히 표시하십시오.
- 단답형 답의 숫자에 '0'이 포함되면 그 '0'도 답란에 반드시 표시하십시오.
- 문항에 따라 배점이 다르니, 각 물음의 끝에 표시된 배점을 참고하십시오. 배점은 2점, 3점 또는 4점입니다.
- 계산은 문제지의 여백을 활용하십시오.

※ 공통과목 및 자신이 선택한 과목의 문제지를 확인하고, 답을 정확히 표시하십시오.

- 공통과목 1~8 쪽
- 선택과목
 - 확률과 통계 9~12 쪽
 - 미적분 13~16 쪽
 - 기하 17~20 쪽

※ 시험이 시작될 때까지 표지를 넘기지 마시오.

제 2 교시

수학 영역 김서진

짝수형

5지선다형

1. $\left(\frac{3}{2}\right)^{-\frac{1}{2}} \times \sqrt{27}$ 의 값은? [2점]

- ① $\sqrt{2}$ ② $2\sqrt{2}$ ③ $3\sqrt{2}$ ④ $4\sqrt{2}$ ⑤ $5\sqrt{2}$

$$\sqrt{\frac{2}{3}} \times \sqrt{27} = \sqrt{2 \cdot 9} = 3\sqrt{2}$$

2. 함수 $f(x) = 2x^3 - 6x^2 + 4$ 에 대하여 $\lim_{h \rightarrow 0} \frac{f(3+h) - f(0)}{h}$ 의 값은? [2점]

- ① 10 ② 14 ③ 18 ④ 22 ⑤ 26

sol1) 정석

$$\lim_{h \rightarrow 0} \frac{f(3+h) - f(0)}{h} = \lim_{h \rightarrow 0} \frac{2(3+h)^3 - 6(3+h)^2 + 4 - 4}{h}$$

$$= \lim_{h \rightarrow 0} \frac{2(27 + 27h + 9h^2 + h^3) - 6(9 + 6ht^2)}{h}$$

$$= \lim_{h \rightarrow 0} \frac{2h^3 + 12h^2 + 18h}{h} = \lim_{h \rightarrow 0} (2h^2 + 12h + 18) = 18$$

sol2) 미분계수

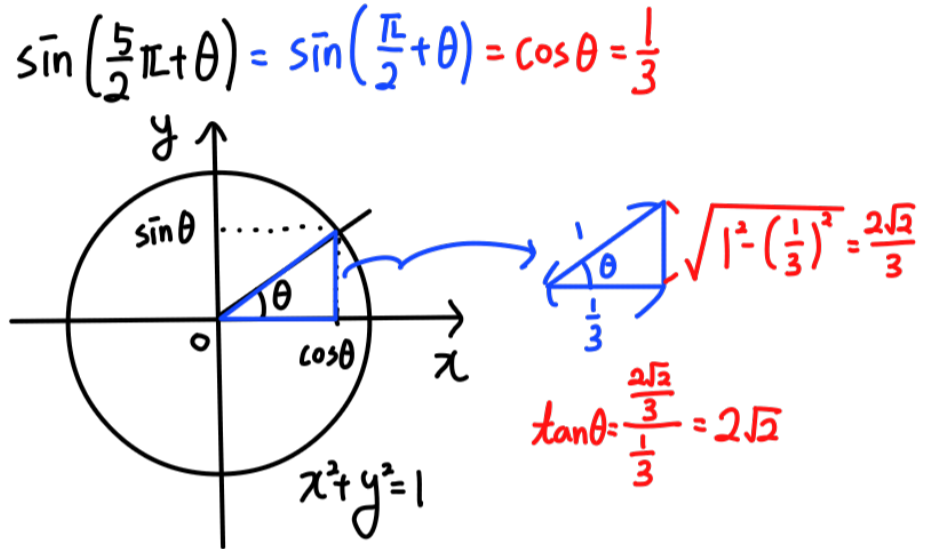
분모가 0으로...?
분자도 0으로 가나?

$$\lim_{h \rightarrow 0} \frac{f(3+h) - f(0)}{h} = \lim_{h \rightarrow 0} \frac{f(3+h) - f(3)}{h} = f'(3)$$

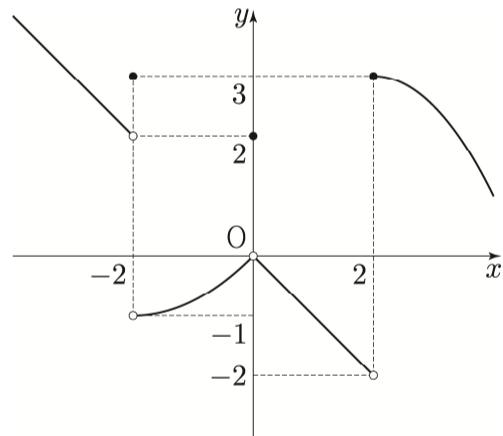
$$f'(x) = 6x^2 - 12x \quad f'(3) = 6 \cdot 9 - 12 \cdot 3 = 18$$

3. $0 < \theta < \frac{\pi}{2}$ 인 θ 에 대하여 $\sin\left(\frac{5}{2}\pi + \theta\right) = \frac{1}{3}$ 일 때, $\tan\theta$ 의 값은? [3점]

- ① $-2\sqrt{2}$ ② $-\frac{\sqrt{2}}{4}$ ③ 0 ④ $\frac{\sqrt{2}}{4}$ ⑤ $2\sqrt{2}$



4. 함수 $y = f(x)$ 의 그래프가 그림과 같다.



$\lim_{x \rightarrow -2^-} f(x)f(x+4) + f(0)$ 의 값은? [3점]

- ① -2 ② -1 ③ 0 ④ 1 ⑤ 2

$$\lim_{x \rightarrow -2^-} f(x)f(x+4) = \lim_{x \rightarrow -2^-} f(x) \cdot \lim_{x \rightarrow -2^-} f(x+4)$$

$$= \lim_{x \rightarrow -2^-} f(x) \cdot \lim_{x \rightarrow 2^-} f(x) = 2 \cdot (-2) = -4$$

$$f(0) = 2$$

$$\lim_{x \rightarrow -2^-} f(x) \cdot f(x+4) + f(0) = -4 + 2 = -2$$

5. 등비수열 $\{a_n\}$ 에 대하여 a_3, a_5, a_4 가 이 순서대로 공차가 -9 인 등차수열을 이룰 때, a_1 의 값은? [3점]

- ① 36 ② 39 ③ 42 ④ 45 ⑤ 48

$$2a_5 = a_3 + a_4$$

$$2r^2 a_3 = a_3 + r a_3$$

양변 a_3 으로 나누기
 if $a_3 = 0 \Rightarrow a_3 = a_4 = a_5 = 0$
 \Rightarrow 공차가 -9 인 등차수열 아님 \Rightarrow 모순! ($a_3 \neq 0$)

$$2r^2 = 1+r \quad 2r^2 - r - 1 = 0 \quad (2r+1)(r-1) = 0$$

$$\begin{cases} r=1 \text{ or } -\frac{1}{2} \end{cases}$$

if $r=1$

$a_3 = a_4 = a_5 \Rightarrow$ 공차가 -9 인 등차수열 아님
 \Rightarrow 모순! ($r = -\frac{1}{2}$)

$$4a_5, a_5, -2a_5$$

$$-3a_5 = -9 \quad a_5 = 3 \quad a_n = \left(-\frac{1}{2}\right)^{n-5} \cdot 3 \quad a_1 = 3 \cdot \left(-\frac{1}{2}\right)^{-4}$$

$$= 3 \cdot 16 = 48$$

6. 수열 $\{a_n\}$ 에 대하여

$$\sum_{k=1}^5 a_k^2 = 90, \quad \sum_{k=1}^5 (a_k + k)^2 = 225$$

일 때, $\sum_{k=1}^5 k a_k$ 의 값은? [3점]

- ① 20 ② 30 ③ 40 ④ 50 ⑤ 60

$$\sum_{k=1}^5 (a_k + k)^2 = \sum_{k=1}^5 (a_k^2 + 2ka_k + k^2)$$

$$= \sum_{k=1}^5 a_k^2 + 2 \sum_{k=1}^5 k a_k + \sum_{k=1}^5 k^2$$

$$= 90 + 2 \sum_{k=1}^5 k a_k + \frac{5 \cdot 6 \cdot 11}{6} = 225$$

$$2 \cdot \sum_{k=1}^5 k a_k = 225 - 90 - 55 = 80$$

$$\sum_{k=1}^5 k a_k = 40$$

7. 곡선 $y = x^3 - 3x^2 + 2x + 2$ 에 접하고 기울기가 2인 두 접선 사이의 거리는? [3점]

- ① $\frac{\sqrt{5}}{5}$ ② $\frac{2\sqrt{5}}{5}$ ③ $\frac{3\sqrt{5}}{5}$
 ④ $\frac{4\sqrt{5}}{5}$ ⑤ $\sqrt{5}$

$$y' = 3x^2 - 6x + 2$$

접선의 기울기가 2인 점

$$3x^2 - 6x + 2 = 2$$

$$3x(x-2) = 0 \quad \begin{cases} x=0 \text{ or } x=2 \\ \hookrightarrow (0,2) \text{ or } (2,2) \end{cases}$$

$$l_1: y = 2x + 2 \quad / \quad l_2: y = 2(x-2) + 2 = 2x - 2$$

$$\hookrightarrow \text{위의 점 } (0,2) \quad \Rightarrow 2x - y - 2 = 0$$

$$\frac{|2 \cdot 0 - 2 - 2|}{\sqrt{2^2 + (-1)^2}} = \frac{4}{\sqrt{5}} = \frac{4\sqrt{5}}{5}$$

답지가 잘못 되어 있어요...

④이 맞습니다~!

8. 최고차항의 계수가 1인 사차함수 $f(x)$ 가 모든 실수 x 에 대하여

$$\int_{-x}^x (2t+1)f(t)dt = 0$$

이다. $f(1) = 2$ 일 때, $f(3)$ 의 값은? [3점]

- ① 63 ② 72 ③ 81 ④ 90 ⑤ 99

$(2x+1)f(x)$ 가 '기함수'이다
 $\hookrightarrow f(x)$ 의 인수 중 $(x-\frac{1}{2})$ 존재함
 $\Rightarrow f(x) = (x-\frac{1}{2})g(x)$

(단, $g(x)$ 는 최고차항이 1인 삼차함수)

$$(2x+1)f(x) = 2(x^2 - \frac{1}{4})g(x)$$

우함수 \rightarrow 기함수 $\Rightarrow g(x) = x^3 - ax$

$$f(x) = (x-\frac{1}{2})x(x^2 - a) \quad f(1) = \frac{1}{2} \cdot 1 \cdot (1-a) = 2 \quad a = -3$$

$$f(3) = \frac{5}{2} \cdot 3 \cdot (9+3) = 90$$

9. 상수 k 에 대하여 함수 $f(x) = \frac{1}{2}x^4 - 7x^2 + 12x + k$ 는 $x=a, x=b, x=c (a < b < c)$ 에서 극값을 가진다.

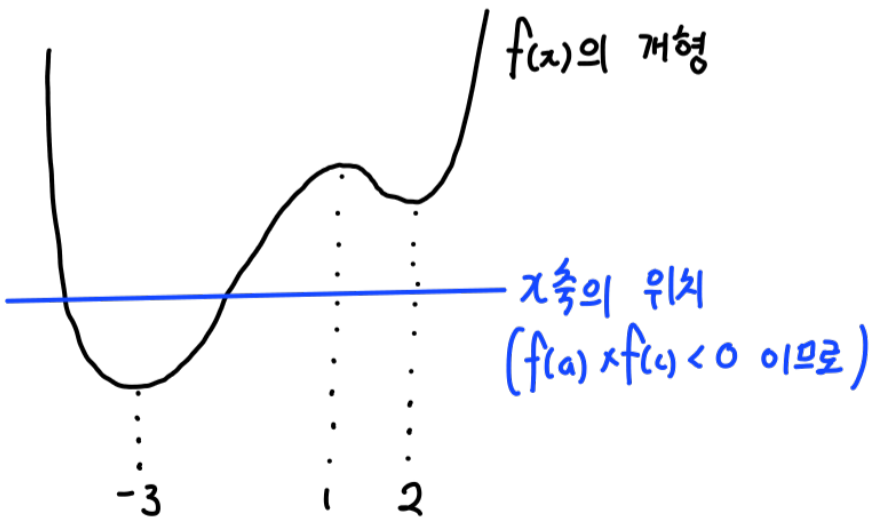
$$f(a) \times f(c) < 0, \quad |f(a)| = |f(b) + f(c)|$$

일 때, k 의 값은? (단, a, b, c 는 상수이다.) [4점]

- ① $\frac{46}{3}$ ② $\frac{47}{3}$ ③ 16 ④ $\frac{49}{3}$ ⑤ $\frac{50}{3}$

$$f'(x) = 2x^3 - 14x + 12$$

$$= 2(x-1)(x-2)(x+3) \quad a=-3, b=1, c=2$$



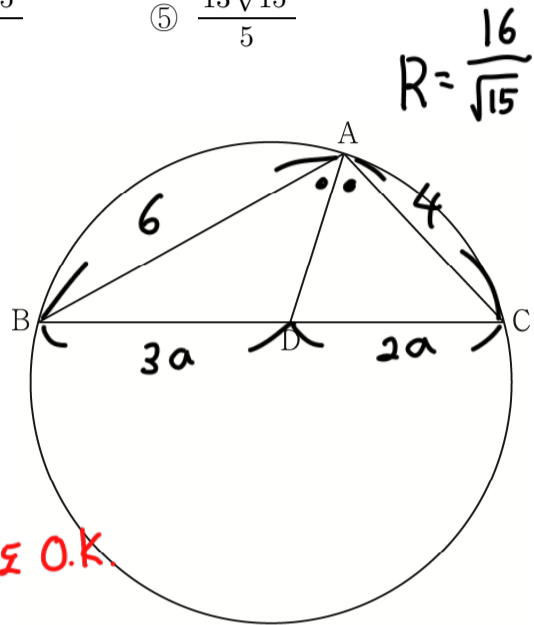
$$|f(a)| = |f(b) + f(c)| \quad -f(-3) = f(1) + f(2)$$

$$-\frac{81}{2} + 63 + 36 - k = \frac{1}{2} - 7 + 12 + k + 8 - 28 + 24 + k$$

$$3k = 49 \quad k = \frac{49}{3}$$

10. 넓이가 $\frac{256}{15}\pi$ 인 원 위에 $\overline{AB} = 6, \overline{AC} = 4$ 인 세 점 A, B, C가 있다. $\angle A$ 의 이등분선이 선분 BC와 만나는 점을 D라 할 때, 삼각형 ABD의 넓이는? (단, $\overline{BC} > \overline{AB}$) [4점]

- ① $\frac{9\sqrt{15}}{5}$ ② $2\sqrt{15}$ ③ $\frac{11\sqrt{15}}{5}$
 ④ $\frac{12\sqrt{15}}{5}$ ⑤ $\frac{13\sqrt{15}}{5}$



B로 떨어도 O.K

$$\cos C = \frac{16 + 25a^2 - 36}{2 \cdot 4 \cdot 5a} = \frac{25a^2 - 20}{5 \cdot 8a} = \frac{5a^2 - 4}{8a}$$

$$\sin C = \frac{6}{2 \cdot \frac{16}{\sqrt{15}}} = \frac{3\sqrt{15}}{16}$$

$$1 - \sin^2 C = \cos^2 C = 1 - \frac{135}{16^2} = \frac{121}{256}$$

$$\cos C = \frac{11}{16} = \frac{5a^2 - 4}{8a}$$

$$11a = 10a^2 - 8$$

$$10a^2 - 11a - 8 = 0$$

$$(5a-8)(2a+1) \quad a = \frac{8}{5}$$

$$\Delta ABD = \frac{3}{5} \times \Delta ABC = \frac{3}{5} \cdot 4 \times 5a \times \sin C \times \frac{1}{2}$$

$$= \frac{3}{5} \times 4 \times 8 \times \frac{3\sqrt{15}}{16} \times \frac{1}{2} = \frac{9\sqrt{15}}{5}$$

11. 함수 $f(x) = x^2 - 4x + a$ 와 2 이상의 자연수 n 에 대하여 $f(\frac{n}{10})$ 의 n 제곱근 중 실수인 것의 개수를 $g(n)$ 이라 하자. $\sum_{n=2}^{100} g(n) = 100$ 일 때, $f(8)$ 의 값은? (단, a 는 상수이다.) [4점]

- ① 30 ② 27 ③ 24 ④ 21 ⑤ 18

$n = 2k+1$ (단, k 는 자연수)

$g(n) = 1$

$n = 2k$ (단, k 는 자연수)

$$g(n) = \begin{cases} 2 & (f(\frac{n}{10}) > 0) \\ 1 & (f(\frac{n}{10}) = 0) \\ 0 & (f(\frac{n}{10}) < 0) \end{cases}$$

$$\sum_{n=2}^{100} g(n) = \sum_{n=1}^{49} g(2n+1) + \sum_{n=1}^{50} g(2n) = 49 + \sum_{n=1}^{50} g(2n) = 100$$

$\sum_{n=1}^{50} g(2n) = 51$

$f(\frac{n}{10}) > 0$ 을 만족하는 $2n$ 이 25개
 $f(\frac{n}{10}) = 0$ 을 만족하는 $2n$ 이 1개
 $f(5) = 0$

$f(5) = 25 - 20 + a = a + 5 = 0$
 $a = -5$

$f(8) = 64 - 32 - 5 = 27$

12. 역함수가 존재하는 함수 $f(x)$ 가 다음 조건을 만족시킨다.

(가) $x \neq a, x \neq b (a \neq b)$ 인 임의의 실수 x 에 대하여

$$\lim_{h \rightarrow 0} \frac{f(x+h) - f(x)}{h} = 3x^2 - 12 \text{이다.}$$

(나) 함수 $f(x)$ 는 극댓값 22를 갖는다.

$f(2) + f(3)$ 의 값은? (단, a, b 는 상수이다.) [4점]

- ① 11 ② 13 ③ 15 ④ 17 ⑤ 19

(가) $f'(x) = 3x^2 - 12$ (단, $x \neq a, x \neq b$)

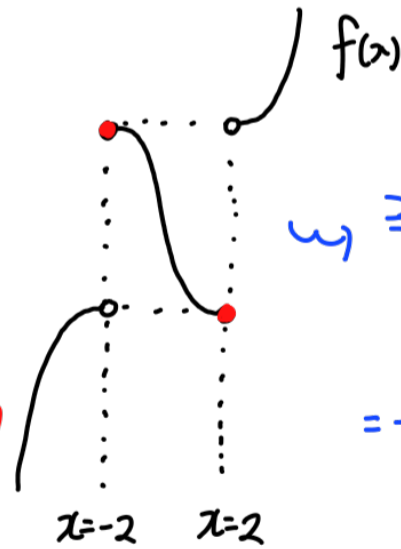
a 와 b 중 더 작은 수를 α 라 하자

$$f(x) = \begin{cases} x^3 - 12x + C_1 & (x < \alpha) \\ x^3 - 12x + C_2 & (\alpha < x < \beta) \\ x^3 - 12x + C_3 & (x > \beta) \end{cases}$$

$x^3 - 12x$ 의 graph를 y축 평행이동 시킴

$x^3 - 12x$ 는 $x < -2, x > 2$ 에서 증가
 $-2 < x < 2$ 에서 감소

역함수를 가지기 위해서는 $\alpha = -2, \beta = 2$



극대를 가지기 위해서는
 $f(-2) = \lim_{x \rightarrow 2^-} f(x) = 22$
 $= -8 + 24 + C_2 \quad C_2 = 6$

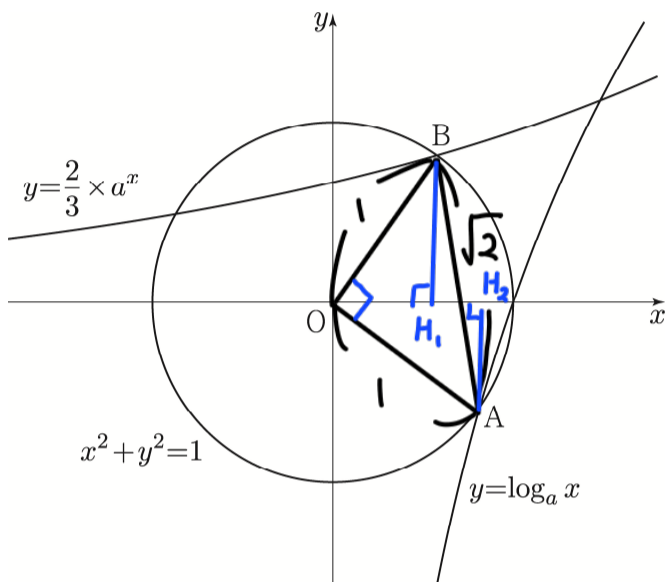
역함수를 가지기 위해서는

$$\begin{aligned} \lim_{x \rightarrow 2^-} f(x) &= \lim_{x \rightarrow 2^-} f(x) & \lim_{x \rightarrow 2^+} f(x) &= \lim_{x \rightarrow 2^+} f(x) \\ &= -8 + 24 + C_1 & &= 8 - 24 + C_3 \\ &= C_1 + 16 & &= C_3 - 16 \\ &= -10 & & \\ C_1 &= -26 & & C_3 = 38 \end{aligned}$$

$f(-2) \neq f(2) = \lim_{x \rightarrow 2^-} f(x) = -10 \quad f(3) = 27 - 36 + 38 = 29$
 $f(2) + f(3) = -10 + 29 = 19$

13. 실수 $a(a > 1)$ 에 대하여 원 $x^2 + y^2 = 1$ 이 곡선 $y = \log_a x$ 와 제 4사분면에서 만나는 점을 A, 곡선 $y = \frac{2}{3} \times a^x$ 과 제 1사분면에서 만나는 점을 B라 하자. $\overline{AB} = \sqrt{2}$ 일 때, $a^{\sqrt{3}}$ 의 값은? [4점]

- ① $\frac{3\sqrt{2}}{4}$
- ② $\frac{3\sqrt{3}}{4}$
- ③ $\frac{3}{2}$
- ④ $\frac{3\sqrt{6}}{4}$
- ⑤ $\frac{3\sqrt{2}}{2}$



$\angle BOH_1 = \theta$ 라 하면 $\angle AO H_2 = \frac{\pi}{2} - \theta$
 $\angle OAH_2 = \theta$
 $\angle BOH_1 = \angle OAH_2 = \frac{\pi}{2}$, $\overline{OB} = \overline{AO}$, $\angle BOH_1 = \angle OAH_2$
 $\Rightarrow \triangle BOH_1 \cong \triangle OAH_2$
 $\therefore \overline{BH_1} = \overline{OH_2}$ / $\overline{OH_1} = \overline{AH_2}$

$B(k, \frac{2}{3} \times a^k)$ 라 하면 ($k > 0$)
 $\overline{BH_1} = \frac{2}{3} \times a^k = \overline{OH_2} = (\text{A의 } x\text{좌표})$
 $\overline{OH_1} = k = \overline{AH_2} = |(\text{A의 } y\text{좌표})|$
 $A(\frac{2}{3} \times a^k, -k)$
 $-k = \log_a \frac{2}{3} \times a^k = k + \log_a \frac{2}{3}$
 $-2k = \log_a \frac{2}{3}$ $a^{-2k} = \frac{2}{3}$ $a^k = \sqrt{\frac{3}{2}}$
 $B(k, \sqrt{\frac{2}{3}})$ $\overline{OB} = 1 = \sqrt{k^2 + \frac{2}{3}}$ $k^2 = \frac{1}{3}$
 $k = \sqrt{\frac{1}{3}}$
 $a^{\frac{1}{\sqrt{3}}} = \sqrt{\frac{3}{2}}$ $a^{\frac{3}{\sqrt{3}}} = (\sqrt{\frac{3}{2}})^3$ $a^{\sqrt{3}} = \frac{3\sqrt{3}}{2\sqrt{2}} = \frac{3\sqrt{6}}{4}$

14. 최고차항의 계수가 -1 이고 $f'(1) = f'(3) = 0$ 인 삼차함수 $f(x)$ 와 두 실수 p, q 에 대하여 실수 전체의 집합에서 연속인 함수

$$f(x) = -3(x-1)(x-3) = -3x^2 + 12x - 9$$

$$g(x) = \begin{cases} f(x) & (x \leq 1) \\ |f(x-p)| + q & (x > 1) \end{cases} \quad f(x) = -x^3 + 6x^2 - 9x + k$$

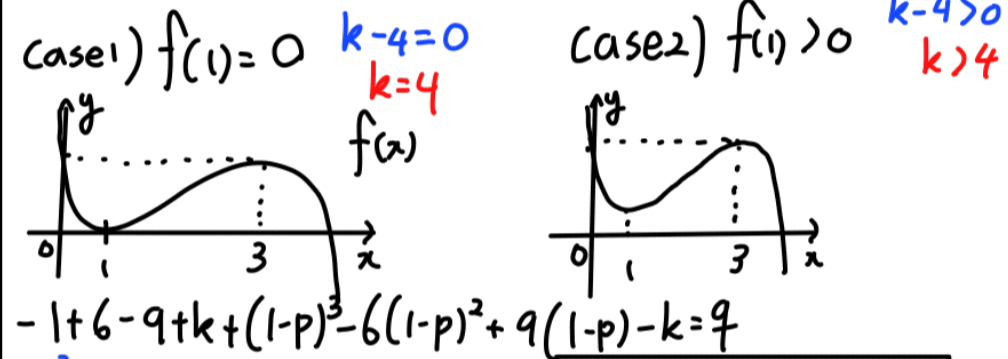
$$f(1) = |f(1-p)| + q$$

가 다음 조건을 만족시킨다.

- $|p| \leq 2$ 일 때, $|f(1-p)| > 0 \Rightarrow f(1) - f(1-p) = q$
- (가) 방정식 $f(x) = 0$ 의 서로 다른 실근의 개수는 3보다 작다.
 - (나) 방정식 $g(x) = 0$ 의 서로 다른 실근의 개수는 3이다.
 - (다) $|p| \leq 2, |q| \leq 2$

$p^2 + q^2$ 의 값이 최대일 때, $g(6)$ 의 값은? [4점]

- ① 106
- ② 108
- ③ 110
- ④ 112
- ⑤ 114



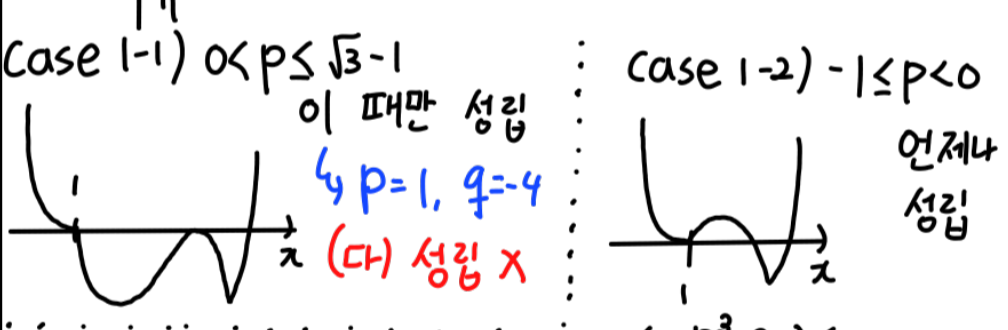
$$-1 + 6 - 9 + k + (1-p)^3 - 6(1-p)^2 + 9(1-p) - k = 0$$

$$-p^3 - 3p^2 = 0$$

$$-1 \leq p \leq \sqrt{3} - 1$$

$$-2 \leq q \leq 0$$

If $p=0$ 이면, $q=0$
 이 때, (가) 성립 X



Case 2-1) $0 < p \leq \sqrt{3} - 1$ 이 때만 성립

Case 2-2) $-1 \leq p < 0$ 언제나 성립 X

$-2 \leq -p^3 - 3p^2 \leq 2$
 $-1 \leq p < 0$ p^2, q^2 의 최댓값
 $(-1)^2 + (-2)^2 = 5$

$|f(1)| + q = 0$ $q = 4 - k$
 $0 < p \leq \sqrt{3} - 1$ p^2, q^2 의 최댓값
 $(\sqrt{3} - 1)^2 + (-2)^2 = 3 - 2\sqrt{3} + 1 + 4 = 8 - 2\sqrt{3}$
 $5 > 8 - 2\sqrt{3} \Rightarrow p^2, q^2$ 이 최대일 때 $p = -1, q = -2$ (case 1-2)
 $g(6) = |f(6 - (-1))| - 2 = |f(7)| - 2$
 $= |-7^3 + 6 \cdot 7^2 - 9 \cdot 7 + 4| - 2 = 108 - 2 = 106$
 $\therefore 106$

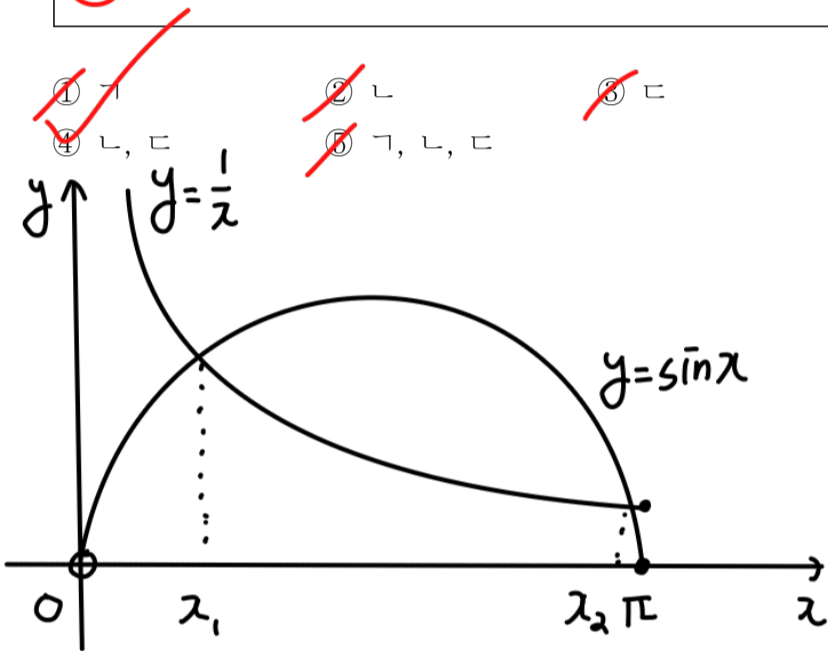
15. $0 < x \leq \pi$ 일 때, 두 곡선 $y = \frac{1}{x}$, $y = \sin x$ 가 만나는 두 점의 x 좌표를 x_1, x_2 라 하자. $x_1 < x_2$ 일 때, <보기>에서 옳은 것만을 있는 대로 고른 것은? [4점]

< 보 기 >

$\sin x_2 > \frac{\sqrt{3}}{2}$

$\frac{\sin x_2 - \sin x_1}{x_2 - x_1} = -\frac{1}{x_1 x_2}$

$x_1 x_2 > \frac{\pi}{2}$



ㄱ. $\sin \frac{2}{3}\pi = \frac{\sqrt{3}}{2} > \frac{3}{2\pi}$ 이므로
 $x = \frac{2}{3}\pi$ 에서 ' $y = \sin x$ '가 더 큼
 $\frac{\pi}{2}, x_2 > \frac{2}{3}\pi$ 이므로
 $\sin x_2 < \frac{\sqrt{3}}{2}$ 이다. ✗

ㄴ. $\frac{\sin x_2 - \sin x_1}{x_2 - x_1}$ $\sin x_2 = \frac{1}{x_2}, \sin x_1 = \frac{1}{x_1}$
 $= \frac{\frac{1}{x_2} - \frac{1}{x_1}}{x_2 - x_1} = \frac{\frac{x_1 - x_2}{x_2 x_1}}{x_2 - x_1} = -\frac{1}{x_1 x_2}$ (㉠)

ㄷ. $x_1, x_2 = -\frac{x_2 - x_1}{\sin x_2 - \sin x_1}$ (by ㉠)

$\frac{\sin x_2 - \sin x_1}{x_2 - x_1} > \frac{\sin \pi - \sin \frac{\pi}{2}}{\pi - \frac{\pi}{2}} = \frac{-1}{\frac{\pi}{2}} = -\frac{2}{\pi}$

$-\frac{x_2 - x_1}{\sin x_2 - \sin x_1} > \frac{\pi}{2}$ (㉡)
 $= x_1 x_2$

단답형

16. 부등식 $2\log_4(x-3) \leq 3$ 을 만족시키는 정수 x 의 개수를 구하시오. [3점]

$x > 3$ (by 진수조건)
 $\log_2(x-3) \leq \log_2 8$
 $x-3 \leq 8$
 $3 < x \leq 11$
 $\therefore 8$ 개

17. 함수

$$f(x) = \begin{cases} 2x^2 - 5x + 2 & (x < a) \\ -x + 8 & (x \geq a) \end{cases}$$

가 실수 전체의 집합에서 연속이 되도록 하는 모든 실수 a 의 값의 합을 구하시오. [3점]

$2a^2 - 5a + 2 = -a + 8$
 $2a^2 - 4a - 6 = 0$

sol1) 직접 a 구하기 : sol2) 근과 계수의 관계
 $a^2 - 2a - 3 = 0$ $-\frac{-4}{2} = 2$
 $(a-3)(a+1) = 0$ $\therefore 2$
 $a = -1$ or $a = 3$
 $-1 + 3 = 2$
 $\therefore 2$

18. 공차가 서로 다른 두 등차수열 $\{a_n\}, \{b_n\}$ 이 자연수 k 에 대하여 $a_k = b_k$ 이다.

$$|a_p - b_p| = |a_q - b_q|$$

를 만족시키는 두 자연수 $p, q (p < q)$ 의 모든 순서쌍 (p, q) 의 개수가 4일 때, k 의 값을 구하시오. [3점]

$a_n - b_n = C_n$ 이라 하자
 등차수열의 합 또는 차 역시 등차수열이다

$$C_n = d(n-k)$$

$|C_n| = |d(n-k)| = |d| \cdot |n-k|$
 k 를 기준으로 떨어진 거리가 같으면 절댓값이 같다
 $(k-1, k+1) / (k-2, k+2) / (k-3, k+3) / (k-4, k+4)$
 $(k-5, k+5)$ 는 안 됨
 $k=5$
 $\therefore 5$

19. 수직선 위를 움직이는 두 점 P, Q의 시각 $t (t \geq 0)$ 에서의 위치를 각각 $x_1(t), x_2(t)$ 라 하면

$$x_1(t) = t^3 - 2t^2 + 2, \quad x_2(t) = t^2 - 3t$$

이다. 선분 PQ를 1:2로 내분하는 점 R의 속도가 11인 순간 점 P의 위치를 구하시오. [3점]

점 R의 위치를 $x_3(t)$ 라 하자

$$x_3(t) = \frac{2x_1(t) + x_2(t)}{2+1} = \frac{2t^3 - 4t^2 + 4 + t^2 - 3t}{3}$$

$$= \frac{2}{3}t^3 - t^2 - t + \frac{4}{3}$$

$$\frac{d}{dt} x_3(t) = 2t^2 - 2t - 1 = 11$$

$$2t^2 - 2t - 12 = 0$$

$$2(t-3)(t+2) = 0$$

$$t = -2 \text{ or } t = 3$$

불가능

$$x_1(t) = 27 - 18 + 2 = 11 \quad \therefore 11$$

20. 실수 전체의 집합에서 연속인 함수 $f(x)$ 에 대하여 함수 $g(x)$ 를

$$g(x) = \int_0^1 xf(t)dt + \int_x^{x+1} f(t)dt$$

라 할 때, 두 함수 $f(x)$ 와 $g(x)$ 가 다음 조건을 만족시킨다.

(가) $\int_0^{10} f(t)dt = 80$

(나) 모든 자연수 n 에 대하여 $\sum_{k=1}^n g(k) = 2n^2$ 이다.

$\int_1^2 f(x)dx = \frac{q}{p}$ 일 때, $p+q$ 의 값을 구하시오.

(단, p 와 q 는 서로소인 자연수이다.) [4점]

$$g(x) = x \int_0^1 f(t)dt + \int_x^{x+1} f(t)dt$$

$$\sum_{k=1}^n g(k) - \sum_{k=1}^{n-1} g(k) = g(n) = 2n^2 - 2(n-1)^2 = 4n - 2$$

$$\sum_{k=1}^9 g(k) = \sum_{k=1}^9 \left(k \int_0^1 f(t)dt + \int_k^{k+1} f(t)dt \right)$$

$$= \int_0^1 f(t)dt \cdot \sum_{k=1}^9 k + \sum_{k=1}^9 \int_k^{k+1} f(t)dt$$

$$= \frac{9 \cdot 10}{2} \cdot \int_0^1 f(t)dt + \int_1^{10} f(t)dt$$

$$= 45 \int_0^1 f(t)dt + \int_1^{10} f(t)dt$$

$$= 44 \int_0^1 f(t)dt + \int_0^{10} f(t)dt = 2 \cdot 9^2 = 162$$

$$44 \int_0^1 f(t)dt = 162 - \int_0^{10} f(t)dt = 82$$

$$\int_0^1 f(t)dt = \frac{41}{22}$$

$$g(1) = \int_0^1 f(t)dt + \int_1^2 f(t)dt = 2$$

$$\int_1^2 f(t)dt = 2 - \frac{41}{22} = \frac{3}{22}$$

$$\therefore 25$$

플이를 보면 알겠지만

주기가 '반드시' 생긴다
이른 이용한 플이는 '해설 영상'에서

21. 모든 항이 정수인 수열 $\{a_n\}$ 이 모든 자연수 n 에 대하여

$$a_{n+1} = \begin{cases} a_n + 5 & (a_n < 0) \\ a_n - 2 & (a_n \geq 0) \end{cases}$$

을 만족시킨다. 두 자연수 m, n 에 대하여 $a_m - a_n$ 의

최댓값이 15일 때, $\sum_{k=1}^{100} a_k$ 의 최솟값을 구하시오. [4점]

Case 1) $a_1 > 0$

처음으로 $a_n < 0$ 이 되는 n 의 값을 k 라 하자

$$a_k = a_1 - 2(k-1) = a_1 - 2k + 2 < 0$$

$$a_{k-1} = a_1 - 2(k-2) = a_1 - 2k + 4 \geq 0 \quad -4 \leq a_1 - 2k < -2$$

Case 1-1) $a_1 - 2k = -4 \quad a_k = -2$

n	1	2	...	k	$k+1$	$k+2$	$k+3$	$k+4$	$k+5$	$k+6$	$k+7$
a_n	a_1	...		-2	3	1	-1	4	2	0	-2

$a_m - a_n$ 의 최댓값: $a_1 - (-2) = 2k - 2$ 15 될 수 없음

Case 1-2) $a_1 - 2k = -3 \quad a_k = -1$

n	1	2	...	k	$k+1$	$k+2$	$k+3$	$k+4$	$k+5$	$k+6$	$k+7$
a_n	a_1	...		-1	4	2	0	-2	3	1	-1

$a_m - a_n$ 의 최댓값: $a_1 - (-1) = 2k - 1 = 15 \quad k = 8 \quad a_1 = 13$

Case 2) $a_1 < 0$

처음으로 $a_n \geq 0$ 이 되는 n 의 값을 k 라 하자

$$a_{k-1} = a_1 + 5(k-2) < 0 \quad a_1 + 5k < 10$$

$$a_k = a_1 + 5(k-1) \geq 0 \quad a_1 + 5k \geq 5$$

Case 2-1) $a_1 + 5k = 5 \quad a_k = 0$

n	1	2	...	k	$k+1$	$k+2$	$k+3$	$k+4$	$k+5$	$k+6$	$k+7$
a_n	a_1	...		0	-2	3	1	-1	4	2	0

$a_m - a_n$ 의 최댓값: $4 - a_1 = 5k - 1$ 15 될 수 X

Case 2-2) $a_1 + 5k = 6 \quad a_k = 1$

n	1	2	...	k	$k+1$	$k+2$	$k+3$	$k+4$	$k+5$	$k+6$	$k+7$
a_n	a_1	...		1	-1	4	2	0	-2	3	1

$a_m - a_n$ 의 최댓값: $4 - a_1 = 5k - 2$ 15 될 수 X

Case 2-3) $a_1 + 5k = 7 \quad a_k = 2$

n	1	2	...	k	$k+1$	$k+2$	$k+3$	$k+4$	$k+5$	$k+6$	$k+7$
a_n	a_1	...		2	0	-2	3	1	-1	4	2

$a_m - a_n$ 의 최댓값: $4 - a_1 = 5k - 3$ 15 될 수 X

Case 2-4) $a_1 + 5k = 8 \quad a_k = 3$

n	1	2	...	k	$k+1$	$k+2$	$k+3$	$k+4$	$k+5$	$k+6$	$k+7$
a_n	a_1	...		3	1	-1	4	2	0	-2	3

$a_m - a_n$ 의 최댓값: $4 - a_1 = 5k - 4$ 15 될 수 X

Case 2-5) $a_1 + 5k = 9 \quad a_k = 4$

n	1	2	...	k	$k+1$	$k+2$	$k+3$	$k+4$	$k+5$	$k+6$	$k+7$
a_n	a_1	...		4	2	0	-2	3	1	-1	4

$a_m - a_n$ 의 최댓값: $4 - a_1 = 5k - 5 = 15 \quad k = 4 \quad a_1 = -11$

Case 1-2) $\sum_{n=1}^{100} a_n = \sum_{n=1}^7 a_n + \sum_{n=8}^{100} a_n = 7a_1 + 13(-1+4+2+0-2+3+1) + (-1) + 4$
 $= 49 + 13 \cdot 7 + 3 = 143$

Case 2-5) $\sum_{n=1}^{100} a_n = \sum_{n=1}^3 a_n + \sum_{n=4}^{100} a_n = 3a_1 + 13(4+2+0-2+3+1) + 4+2+0-2+3+1$
 $= -18 + 91 + 8 = 72 \quad \therefore 81$

22. 삼차함수 $f(x)$ 의 역함수 $g(x)$ 에 대하여 두 함수 $f(x)$ 와 $g(x)$ 가 다음 조건을 만족시킨다.

(가) 방정식 $|f'(x)| = \frac{1}{2}$ 은 오직 하나의 실근을 가진다.

(나) $g(1) = |g(3) - g(5)| + g(3) = 5$

$f(0) + f(6) = 6$ 일 때, $f(-1)$ 의 값을 구하시오. [4점]

$$g(1) = 5, f(5) = 1 \quad g(1) - g(3) = |g(3) - g(5)|$$

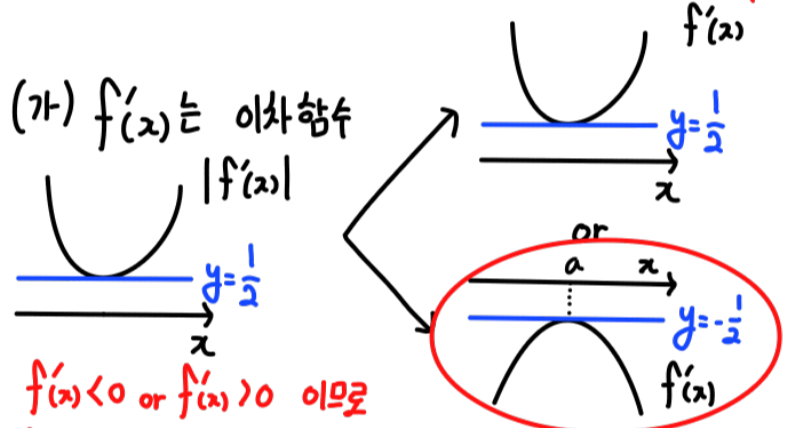
$$\text{if } g(3) < g(5) \rightarrow g(1) - g(3) = g(5) - g(3)$$

$g(1) = g(5)$ 역함수 존재 $x \Rightarrow g(3) > g(5)$

$g(3) = a, g(5) = b$ 라 하자 그럼, $f(a) = 3, f(b) = 5 \quad (a > b)$

$$g(3) - g(1) = g(5) - g(3) \quad a - 5 = b - a \quad 2a = b + 5$$

$$f(b) - f(a) = f(a) - f(5) \quad 2f(a) = f(b) + f(5) \quad \text{따라서 } f(x) \text{는 } (a, f(a)) \text{ 대칭이다}$$



(가) $f'(x)$ 는 이차함수

$f(x) < 0$ or $f(x) > 0$ 이므로

$f(x)$ 는 실수전체의 집합에서 계속 증가 or 감소

$$f(a) = 3, f(b) = 5 \quad a > b \text{ 이므로 감소}$$

$$2f(a) = f(b) + f(5) = 6 = f(0) + f(6) \quad a = 3, b = 1$$

$$f'(x) = 3k(x-3)^2 - \frac{1}{2} = 3kx^2 - 18kx + 27k - \frac{1}{2} \quad (k < 0)$$

$$f(x) = kx^3 - 9kx^2 + (27k - \frac{1}{2})x + C$$

$$f(3) = 27k - 81k + 81k - \frac{3}{2} + C = 27k + C - \frac{3}{2} = 3$$

$$54k + 2C = 9$$

$$f(5) = 125k - 225k + 135k - \frac{5}{2} + C = 35k + C - \frac{5}{2} = 1$$

$$70k + 2C = 7$$

$$16k = -2 \quad k = -\frac{1}{8} \quad C = \frac{63}{8}$$

$\therefore 13$

$$f(x) = -\frac{1}{8}(-1)^3 + \frac{9}{8} \cdot (-1)^2 - \frac{31}{8}(-1) + \frac{63}{8} = \frac{1+9+31+63}{8} = \frac{104}{8} = 13$$

* 확인 사항

○ 답안지의 해당란에 필요한 내용을 정확히 기입(표기)했는지 확인하시오.

○ 이어서, 「선택과목(확률과 통계)」 문제가 제시되오니, 자신이 선택한 과목인지 확인하시오.

제 2 교시

수학 영역(확률과 통계)

짜수형

5지선다형

23. ${}^3P_2 + {}^3H_3$ 의 값은? [2점]

- ① 15 ② 16 ③ 17 ④ 18 ⑤ 19

$${}^3P_2 = 3^2 = 9$$

$${}^3H_3 = {}^5C_3 = 10$$

$$\therefore {}^3P_2 + {}^3H_3 = 19$$

$$\begin{aligned} * nP_r &= n^r \\ nC_r &= \frac{n!}{r!(n-r)!} \end{aligned}$$

$$nH_r = nH_{r-1}C_r$$

24. 확률변수 X 가 이항분포 $B(80, p)$ 를 따르고

$$E(X^2) - E(X) = 395$$

를 만족시킬 때, p 의 값은? [3점]

- ① $\frac{1}{32}$ ② $\frac{1}{16}$ ③ $\frac{1}{8}$ ④ $\frac{1}{4}$ ⑤ $\frac{1}{2}$

$$E(X) = 80p$$

$$V(X) = 80p(1-p)$$

$$E(X^2) - E(X) = V(X) + [E(X)]^2 - E(X)$$

$$= 80p(1-p) + 6400p^2 - 80p = 395$$

$$6320p^2 = 395$$

$$p^2 = \frac{395}{6320} = \frac{79}{1264} = \frac{1}{16}$$

$$\therefore p = \frac{1}{4} \quad (0 \leq p \leq 1)$$

25. 주사위를 두 번 굴려서 나온 눈의 수를 각각 a, b 라 할 때, 직선

$$y = \left(a - \frac{3}{2}\right)x + a - b$$

가 제2사분면을 지날 확률은? [3점]

- ① $\frac{1}{2}$ ② $\frac{7}{12}$ ③ $\frac{2}{3}$ ④ $\frac{3}{4}$ ⑤ $\frac{5}{6}$

일차함수가 제 2 사분면을 지나려면

① 기울기가 음수 ... $(a - \frac{3}{2} < 0) \Rightarrow a < \frac{3}{2}$

아

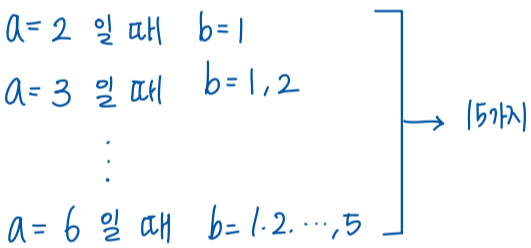
② y절편이 양수 ... $(a - b > 0) \Rightarrow a > b$

① : $a < \frac{3}{2}$ 이고 a 는 $1 \leq a \leq 6$ 인 자연수

$\rightarrow a=1$. 즉, $a=1$ 이면 b 값에 관계없이 항상 제 2사분면을 지난다.

\Rightarrow 6가지

② : $a=2, 3, \dots, 6$ 일때, $a > b$ 여야 하므로



따라서 제 2사분면을 지나는 모든 경우의 수는 $6 + 15 = 21$.

\therefore (확률) = $\frac{21}{6 \times 6} = \frac{7}{12}$

26. 두 사건 A, B 는 서로 독립이고

$$P(A \cap B) = \frac{1}{7}, \quad P(A \cup B) = 5\{P(A^c) - P(B)\}$$

를 만족시킬 때, $\{P(A)\}^2 + \{P(B)\}^2$ 의 값은?

(단, A^c 은 A 의 여사건이다.) [3점]

- ① $\frac{22}{49}$ ② $\frac{24}{49}$ ③ $\frac{26}{49}$ ④ $\frac{4}{7}$ ⑤ $\frac{30}{49}$

$$P(A \cap B) = P(A)P(B) = \frac{1}{7}$$

$$P(A \cup B) = P(A) + P(B) - P(A \cap B)$$

$$5\{P(A^c) - P(B)\} = 5(1 - P(A) - P(B))$$

$$\therefore P(A) + P(B) - \frac{1}{7} = 5 - 5(P(A) + P(B))$$

$$6(P(A) + P(B)) = \frac{36}{7}$$

$$\therefore P(A) + P(B) = \frac{6}{7}$$

$$\{P(A)\}^2 + \{P(B)\}^2 = \{P(A) + P(B)\}^2 - 2P(A)P(B)$$

$$= \left(\frac{6}{7}\right)^2 - \frac{2}{7} = \frac{36-14}{49} = \frac{22}{49}$$

★ 두 사건 A, B 가 독립이면

$$P(A \cap B) = P(A)P(B)$$

$$P(B|A) = P(B)$$

27. 7개의 문자 S, U, M, M, A, T, H를 왼쪽에서 오른쪽으로 일렬로 나열할 때, U가 A보다 오른쪽에 있고 A와 U가 서로 이웃하지 않도록 하는 경우의 수는? [3점]

- ① 600 ② 750 ③ 900 ④ 1050 ⑤ 1200

① U가 A보다 오른쪽에 있는 경우

: U, A 대신 □를 넣어

S. □, M. M. □. T. H를 넣어 나열한 후, 왼쪽 □에 U, 오른쪽 □에 A를 넣으면 된다.

따라서 경우의 수는 $\frac{7!}{2! \cdot 2!} = 1260$

② U, A가 AU로 이웃해 있는 경우

: AU를 한 세트코 봐서

S. M. M. T. H. AU를 일렬로 나열하면 되므로

경우의 수는 $\frac{6!}{2!} = 360$

따라서 구하고자 하는 경우의 수는 ① - ② 이므로

$1260 - 360 = 900$

28. 연속확률변수 X 가 갖는 값의 범위는 $0 \leq X \leq 2$ 이고, 상수 a ($0 < a < \frac{1}{2}$)에 대하여 다음 조건을 만족시킨다.

(가) $P\left(\frac{1}{2} \leq X \leq 1\right) = \frac{1}{10}$, $P(X \leq 1) = \frac{1}{3}$

(나) $P(X \leq a) = \frac{2}{3}a$, $P(a \leq X \leq 2a) = \frac{1}{15}$

방정식

$$P(X \geq 1) \times \left\{ P(X \leq 2a) - P\left(X \leq \frac{1}{2}\right) \right\} = -\frac{1}{45}$$

을 만족시키는 a 의 값은? [4점]

- ① $\frac{1}{30}$ ② $\frac{1}{15}$ ③ $\frac{2}{15}$ ④ $\frac{1}{10}$ ⑤ $\frac{1}{5}$

$$P(X \geq 1) = 1 - P(X \leq 1) = 1 - \frac{1}{3} = \frac{2}{3}$$

$$P(X \leq 2a) = P(X \leq a) + P(a \leq X \leq 2a) = \frac{2}{3}a + \frac{1}{15}$$

$$P\left(X \leq \frac{1}{2}\right) = P(X \leq 1) - P\left(\frac{1}{2} \leq X \leq 1\right) = \frac{1}{3} - \frac{1}{10} = \frac{7}{30}$$

$$\begin{aligned} \therefore P(X \geq 1) \times \left\{ P(X \leq 2a) - P\left(X \leq \frac{1}{2}\right) \right\} &= \frac{2}{3} \left(\frac{2}{3}a + \frac{1}{15} - \frac{7}{30} \right) = -\frac{1}{45} \end{aligned}$$

양변에 45를 곱하면

$$20a + 2 - 7 = -1$$

$$\therefore a = \frac{1}{5}$$

단답형

답
624

29. 집합 $X = \{-3, -2, -1, 0, 1, 2, 3\}$ 에 대하여 다음 조건을 만족시키는 함수 $f: X \rightarrow X$ 의 개수를 구하시오. [4점]

- (가) $f(1)f(2)f(3) \leq 0$
- (나) 집합 X 의 임의의 두 원소 x_1, x_2 에 대하여 $x_1 < x_2$ 이면 $f(x_1) \leq f(x_2)$ 이다.

0, 1, 2, 3 중
증빙허락하여 2개를 고른 경우
(순서고려X) ↑

① $f(1) = 0$

$-3 \leq f(-3) \leq f(-2) \leq f(-1) \leq f(0) \leq f(1) = 0 \leq f(2) \leq f(3)$
 -3, -2, -1, 0 중 증빙허락하여 4개를 고른 경우 (순서고려X)

$\Rightarrow {}_4H_4 \times {}_4H_2 = {}_7C_4 \times {}_5C_2 = 350$

② $f(1) \neq 0, f(2) = 0$

0, 1, 2, 3 중 하나
↑

$-3 \leq f(-3) \leq f(-2) \leq f(-1) \leq f(0) \leq f(1) < f(2) = 0 \leq f(3)$
 -3, -2, -1 중 증빙허락하여 5개를 고른 경우 (순서고려X)

$\Rightarrow {}_3H_5 \times 4 = {}_7C_5 \times 4 = 84$

③ $f(1), f(2) \neq 0, f(3) = 0$

$-3 \leq f(-3) \leq \dots \leq f(1) \leq f(2) < f(3) = 0$
 -3, -2, -1 중 증빙허락하여 6개를 고른 경우 (순서고려X)

$\Rightarrow {}_3H_6 = {}_8C_6 = 28$

④ $f(1)f(2)f(3) < 0$

1) $f(1), f(2), f(3) < 0$ 또는 $(f(1) < 0), (f(2), f(3) > 0)$

1): (위 풀이들과 마찬가지로) ${}_3H_7 = {}_9C_7 = 36$
 2): " ${}_3H_5 \times {}_3H_2 = {}_7C_5 \times 4C_2 = 126$
 $\rightarrow 36 + 126 = 162$


\therefore 답은 $350 + 84 + 28 + 162 = 624$

30. 주머니에 1이 적힌 공 1개, 2가 적힌 공 2개, 3이 적힌 공 3개가 들어 있다. 한 개의 주사위를 사용하여 다음 규칙에 따라 점수를 얻는다.

답
21

- 주사위를 두 번 던져 나오는 눈의 수를 차례로 a, b 라 할 때,
 - $a = b$ 이면 주머니에서 a 개의 공을 꺼내어 꺼낸 공에 적힌 수를 모두 더한 값의 2배를 점수로 얻는다. ... ㉠
 - $a \neq b$ 이면 주머니에서 $|a - b|$ 개의 공을 꺼내어 꺼낸 공에 적힌 수를 모두 더한 값을 점수로 얻는다. ... ㉡

이 시행을 한 번 하여 얻은 점수가 10점일 때, $a = 2$ 또는 $b = 2$ 일 확률은 $\frac{q}{p}$ 이다. $p + q$ 의 값을 구하시오.
 (단, p 와 q 는 서로소인 자연수이다.) [4점]



㉠에서 10점을 얻은 경우! 꺼낸 공에 적힌 수의 합이 5가 되어야 하므로
 꺼낸 공이 1, 2, 2 또는 2, 3 이어야 한다.

① $a = b = 2$ 이고 주머니에서 2, 3을 하나씩 뽑을 확률
 $\therefore \frac{1}{36} \times \frac{{}_2C_1 \times {}_3C_1}{{}_6C_2} = \frac{1}{36} \times \frac{6}{15} = \frac{1}{90}$

② $a = b = 3$ 이고 주머니에서 1 하나, 2 두개를 뽑을 확률
 $\therefore \frac{1}{36} \times \frac{{}_1C_1 \times {}_2C_2}{{}_6C_3} = \frac{1}{120}$

㉡에서 10점을 얻은 경우! 꺼낸 공에 적힌 수의 합이 10이 되어야 하므로
 꺼낸 공이 1, 3, 3, 3 또는 2, 3, 3, 3 이어야 한다.

③ $|a - b| = 4$ 이고, 주머니에서 1 하나, 3 세개를 뽑을 확률.
 $|a - b| = 4$ 인 (a, b) 의 순서쌍은 (1, 5), (2, 6), (5, 1), (6, 2) 4개이다.
 따라서 확률은 $\frac{4}{36} \times \frac{{}_1C_1 \times {}_3C_3}{{}_6C_4} = \frac{4}{9} \times \frac{1}{15} = \frac{4}{135}$

④ $|a - b| = 4$ 이고, 주머니에서 2 두개, 3 두개를 뽑을 확률.
 $|a - b| = 4$ 인 (a, b) 의 순서쌍은 (1, 5), (2, 6), (5, 1), (6, 2) 4개이다.
 따라서 확률은 $\frac{4}{36} \times \frac{{}_2C_2 \times {}_2C_2}{{}_6C_4} = \frac{4}{9} \times \frac{3}{15} = \frac{4}{45}$

따라서 10점을 얻은 확률은 $\frac{1}{90} + \frac{1}{120} + \frac{4}{135} + \frac{4}{45}$, 이 중 $a = 2$ 또는 $b = 2$ 인 경우는
 ㉠인 경우 이므로 10점을 얻으면서 $a = 2$ 또는 $b = 2$ 인 확률은
 $\frac{1}{90} + \frac{1}{2} \left(\frac{1}{135} + \frac{4}{45} \right)$.

- * 확인 사항
- 답안지의 해당란에 필요한 내용을 정확히 기입(표기)했는지 확인하시오.
- 이어서, 「선택과목(미적분)」 문제가 제시되오니, 자신이 선택한 과목인지 확인하시오.

\therefore (문제의 확률) = $\frac{\frac{1}{90} + \frac{1}{120} + \frac{4}{135} + \frac{4}{45}}{\frac{1}{90} + \frac{1}{120} + \frac{1}{135} + \frac{4}{45}} = \frac{8 + \frac{8}{3} + 8}{8 + 1 + \frac{16}{3} + 16} = \frac{48 + 8}{15 + 16} = \frac{56}{31} = \frac{8}{13}$

$\therefore p + q = 13 + 8 = 21$

제 2 교시

수학 영역(미적분) 해설 송영희

@math-is-song

짜수형

5지선다형

23. $\lim_{n \rightarrow \infty} \frac{5 \times \left(\frac{3}{5}\right)^{n+1} + 7 \times \left(\frac{4}{7}\right)^n}{\left(\frac{3}{5}\right)^n + \left(\frac{4}{7}\right)^{n-1}}$ 의 값은? [2점] (1)
- ① 3 ② 4 ③ 5 ④ 6 ⑤ 7

$\frac{3}{5} > \frac{4}{7}$ 이므로

$5 \times \frac{3}{5} = 3$

24. 열린구간 $\left(\frac{\pi}{2}, \frac{3}{2}\pi\right)$ 에서 정의된 함수 $f(x) = e^{2x} \tan x$ 의 역함수를 $g(x)$ 라 하자. 실수 a 에 대하여

$$\lim_{h \rightarrow 0} \frac{g(a+h) - g(a)}{h}$$

의 값이 존재하지 않을 때, $g(a)$ 의 값은? [3점] (4)

- ① $\frac{9}{8}\pi$ ② π ③ $\frac{7}{8}\pi$ ④ $\frac{3}{4}\pi$ ⑤ $\frac{5}{8}\pi$

$f'(g(a)) = 0$

$$f'(x) = 2e^{2x} \cdot \tan x + e^{2x} \cdot \sec^2 x = e^{2x} (2 \tan x + \sec^2 x)$$

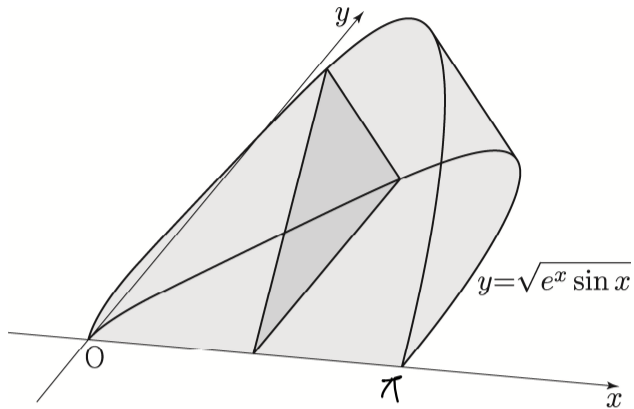
$$f'(x) = 0 \Leftrightarrow 2 \tan x + \sec^2 x = 0$$

$$\Rightarrow 2 \sin x \cos x + 1 = 0 \quad (\times \cos^2 x)$$

$$= (\sin x + \cos x)^2 = 0 \text{ 이므로}$$

$$x = \frac{3}{4}\pi \quad \therefore g(a) = \frac{3}{4}\pi$$

25. 그림과 같이 곡선 $y = \sqrt{e^x \sin x}$ ($0 \leq x \leq \pi$)와 x 축으로 둘러싸인 부분을 밑면으로 하는 입체도형이 있다.
이 입체도형을 x 축에 수직인 평면으로 자른 단면이 모두 정삼각형일 때, 이 입체도형의 부피는? [3점] ⑤



- ① $\frac{\sqrt{3}}{4}(e^\pi - 1)$ ② $\frac{\sqrt{3}}{8}(e^\pi - 1)$ ③ $\frac{\sqrt{3}}{16}(e^\pi - 1)$
- ④ $\frac{\sqrt{3}}{4}(e^\pi + 1)$ ⑤ $\frac{\sqrt{3}}{8}(e^\pi + 1)$

$$\begin{aligned} \frac{\sqrt{3}}{4} \int_0^\pi e^x \cdot \sin x \, dx &= \left[\frac{e^x}{2} (\sin x - \cos x) \right]_0^\pi \times \frac{\sqrt{3}}{4} \\ &= \frac{\sqrt{3}}{8} \times e^\pi + \frac{\sqrt{3}}{8} = \frac{\sqrt{3}}{8} (e^\pi + 1) \end{aligned}$$

26. 곡선 $y = \frac{t}{2} \ln x - \frac{1}{4t} x^2$ 위의 점 P가 $x=1$ 부터 $x=e$ 까지 움직인 거리를 $f(t)$ 라 할 때, $f'(1)$ 의 값은? [3점] ③

- ① $\frac{1-e^2}{4}$ ② $\frac{2-e^2}{4}$ ③ $\frac{3-e^2}{4}$
- ④ $1 - \frac{e^2}{4}$ ⑤ $\frac{5-e^2}{4}$

$$\frac{dy}{dx} = \frac{t}{2x} - \frac{x}{2t}$$

$$\int_1^e \sqrt{1 + \left(\frac{dy}{dx}\right)^2} \, dx = \int_1^e \left(\frac{t}{2x} + \frac{x}{2t} \right) \, dx = \left[\frac{t}{2} \ln |x| + \frac{1}{4t} x^2 \right]_1^e = \frac{t}{2} + \frac{1}{4t} (e^2 - 1) = f(t)$$

$$\therefore f'(1) = \frac{1}{2} - \frac{1}{4t^2} (e^2 - 1) \Big|_{t=1} = \frac{3-e^2}{4}$$

27. 최고차항의 계수가 1인 삼차함수 $f(x)$ 에 대하여 함수

$$g(x) = \int_0^x t f'(x-t) dt$$

가 $g'(3) = g''(3) = 0$ 을 만족시킬 때, $\int_0^1 \frac{f'(x)}{g'(x)+1} dx$ 의 값은?

② [3점]

- ① $\ln 6$ ② $\ln 5$ ③ $2\ln 2$ ④ $\ln 3$ ⑤ $\ln 2$

$$x-t = s$$

$$-dt = ds, \quad t=0: s=x, \quad t=x: s=0$$

$$g(x) = \int_0^x (x-s) f'(s) ds$$

$$g'(x) = \int_0^x f'(s) ds = f(x) - f(0)$$

$$g'(3) = 0 \Rightarrow f(3) = f(0)$$

$$g''(x) = f'(x) \quad \therefore f'(3) = 0$$

$$\int_0^1 \frac{f'(x)}{f(x)+1} dx = \int_0^1 \frac{f'(x)}{f(x)-f(0)+1} dx$$

$$= \left[\ln |f(x)-f(0)+1| \right]_0^1 = \ln 5 \quad \blacksquare$$

28. 첫째항이 π 인 수열 $\{a_n\}$ 이 모든 자연수 n 에 대하여 다음 조건을 만족시킨다. ⑤

(가) $\frac{\pi}{2} \leq a_n \leq \pi$

(나) $\sin^2 a_{n+1} + \cos^2 \frac{a_n}{2} = 1$

급수 $\sum_{n=1}^{\infty} (a_n - k)$ 가 실수 S 에 수렴할 때, $k+S$ 의 값은?

(단, k 는 상수이다.) [4점]

$$\Rightarrow \lim_{n \rightarrow \infty} a_n = k$$

- ① $\frac{4}{5}\pi$ ② $\frac{5}{6}\pi$ ③ $\frac{6}{7}\pi$ ④ $\frac{7}{8}\pi$ ⑤ $\frac{8}{9}\pi$

(나) $\sin^2 a_{n+1} = \sin^2 \frac{a_n}{2} \Rightarrow$ 모든 자연수 n 에 대하여 i) 또는 ii) 성립.

$$\Rightarrow \begin{cases} \text{i) } a_{n+1} = \frac{a_n}{2} \rightarrow a_2 = \frac{\pi}{2}, a_3 = \frac{\pi}{4}, \dots \text{ (가)에 오함.} \\ \text{ii) } a_{n+1} + \frac{a_n}{2} = \pi \end{cases}$$

(ii) $a_{n+1} + \frac{a_n}{2} = \pi$ ($\frac{\pi}{2} \leq a_{n+1} + \frac{a_n}{2} \leq \frac{3\pi}{2}$ 이므로 두 개의 값이 적지 않음)

iii) i) \rightarrow ii) 혹은 ii) \rightarrow i)가 교차하는 경우

(가)와 i)를 동시에 만족하는 자연수 n 이 존재한다고 가정

$$\rightarrow a_n \geq \pi \text{ 이어야 } a_{n+1} = \frac{a_n}{2} \geq \frac{\pi}{2} \text{ 임}$$

$$\therefore a_n = \pi$$

$$a_m + \frac{a_{m-1}}{2} = \pi \text{ 이므로 } (m \geq 2)$$

$$a_m = \pi - \frac{1}{2}a_{m-1} \text{ 이다.}$$

$$\frac{\pi}{2} \leq a_{m-1} \leq \pi \Rightarrow \frac{\pi}{2} \leq a_m \leq \frac{3\pi}{4}. \quad a_m = \pi \text{ 와 오함.}$$

iii) \rightarrow i)

수열 $\{a_n\}$ 은 모든 항이 양수이므로 2이상인 자연수 n 에 대하여 $a_n < \pi$ 를 만족 \therefore ii) \rightarrow i) 교차 불가능.

$$\therefore \text{ 모든 자연수 } n \text{에 대하여 ii)가 성립. } \Rightarrow \lim_{n \rightarrow \infty} a_{n+1} + \frac{a_n}{2} = \pi; \lim_{n \rightarrow \infty} a_n = \frac{2}{3}\pi = k$$

$$a_{n+1} + \frac{a_n}{2} = \pi \Rightarrow (a_{n+1} - \frac{2\pi}{3}) = -\frac{1}{2}(a_n - \frac{2\pi}{3})$$

$$a_n - \frac{2\pi}{3} = b_n \text{이라 하면 } b_{n+1} = -\frac{1}{2}b_n$$

$$b_1 = \frac{\pi}{3} \text{이므로 모든 자연수 } n \text{에 대하여 } b_n \neq 0 \Rightarrow |b_n| \text{은 공비가 } (-\frac{1}{2}) \text{인 등비수열}$$

$$\therefore \frac{\frac{1}{3}\pi}{1 - (-\frac{1}{2})} = \frac{\frac{2}{3}\pi}{\frac{1}{2}}$$

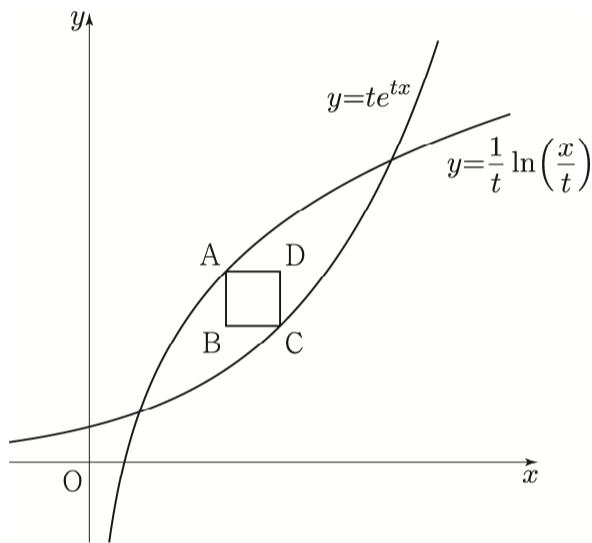
$$\therefore k + S = \frac{8}{9}\pi \quad \blacksquare$$

단답형

29. 그림과 같이 양수 $t (0 < t < \frac{1}{\sqrt{e}})$ 에 대하여 두 곡선

$$y = \frac{1}{t} \ln \frac{x}{t}, \quad y = te^{tx} \Rightarrow \text{역함수 관계}$$

가 정사각형 ABCD 와 각각 점 A, C 에서만 만난다.
 선분 AB 는 y 축과 평행하고 정사각형 ABCD 의 넓이가 최대일 때, 선분 AB 의 길이를 $f(t)$ 라 하자.
 $f(\alpha) = e$ 인 실수 α 에 대하여 $f'(\alpha) = pe^q$ 일 때,
 $p^2 + q^2$ 의 값을 구하시오. (단, 점 A 의 x 좌표는 점 C 의 x 좌표보다 작고, p 와 q 는 정수이다.) [4점]



사각형 ABCD 의 넓이가 최대 $\Rightarrow AC$ 가 최대
 \Rightarrow 점 A, C (중기) = 1 인 순간.

$$\therefore y' = \frac{1}{tx}, \quad y' = t e^{tx}$$

$$\hookrightarrow x = \frac{1}{t} \quad \hookrightarrow x = \frac{1}{t} \ln \left(\frac{1}{t^2} \right)$$

$$\therefore \left| \frac{1}{t} \ln \left(\frac{1}{t^2} \right) - \frac{1}{t} \right| = f(t)$$

$$f(t) = \frac{1}{t} | -1 - 2 \ln t |$$

$$0 < t < \frac{1}{\sqrt{e}} \text{ 이어서 } -1 - 2 \ln t > 0 \text{ 이므로}$$

$$f(t) = \frac{1}{t} (-1 - 2 \ln t) \Rightarrow f(\alpha) = e \text{ 이므로 } \alpha = \frac{1}{e}$$

$$f'(t) = \frac{-2 + 1 + 2 \ln t}{t^2} \therefore f'(\alpha) = -3e^2$$

$$(-3)^2 + 2^2 = 13$$

30. 최고차항의 계수가 $a (0 < a < 1)$ 인 삼차함수 $f(x)$ 와 양수 k 에 대하여 정의역이 $\{x | x > 0\}$ 인 함수

$$g(x) = \log_a f(e^x + k) \quad f(k+1) > 0$$

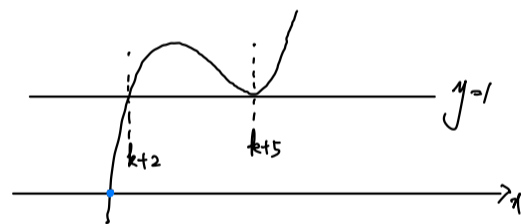
가 양의 실수 전체의 집합에서 미분가능하고 다음 조건을 만족시킨다.

- (가) 방정식 $g'(x) = 0$ 은 두 실근 $\ln 3, \ln 5$ 를 갖는다.
- (나) 함수 $\frac{1}{g(x)}$ 은 $x = \ln 2$ 와 $x = \ln 5$ 에서만 불연속이다.

a 의 값이 최대일 때, $f'(2) = \frac{3}{2}$ 이다. $f(7) = \frac{q}{p}$ 일 때, $p+q$ 의 값을 구하시오. (단, p 와 q 는 서로소인 자연수이다.) [4점]

$$g'(x) = \frac{f'(e^x+k) \cdot e^x}{f(e^x+k) \ln a} \rightarrow \text{(가): } f'(k+1) = f'(k+5) = 0$$

$$(4) : \frac{1}{g(x)} = \log_{f(e^x+k)} a \rightarrow f(k+1) = f(k+5) = 1$$



$$f(x) = a(x-k-2)(x-k-5)^2 + 1 \text{ 이어서 } f(k+1) > 0 \text{ 이므로}$$

$$-1/6a + 1 > 0; \quad a \leq 1/6$$

$$a \text{ 의 값이 최대이므로 } f(x) = \frac{1}{6}(x-k-2)(x-k-5)^2 + 1$$

$$f'(x) = \frac{2}{6}(x-k-3)(x-k-5) \Rightarrow f'(2) = \frac{2}{6}(-k-1)(-k-3) = \frac{3}{2}$$

$$k^2 + 4k - 5 = 0$$

$$\rightarrow k = 1 (\because k > 0)$$

$$\therefore f(7) = \frac{1}{6}(7-3)(7-6)^2 + 1 = \frac{5}{4} \text{ 이므로}$$

$$4+5 = 9$$

- * 확인 사항
- 답안지의 해당란에 필요한 내용을 정확히 기입(표기)했는지 확인하시오.
- 이어서, 「선택과목(기하)」 문제가 제시되오니, 자신이 선택한 과목인지 확인하시오.

제 2 교시

수학 영역(기하)

문제 해설 by @jhlee_04
"수능은 기하가 미래다"

짜수형

5지선다형

23. 좌표공간의 두 점 $A(-2, a, 4)$, $B(4, -2, b)$ 에 대하여 선분 AB 를 1:2로 내분하는 점의 좌표가 $(c, 0, 2)$ 일 때, $a+b+c$ 의 값은? [2점]

- ① -5 ② -4 ③ -3 ④ -2 ⑤ -1

$$c = \frac{4 \cdot 1 + 2 \cdot 2}{1+2} = 0$$

$$0 = \frac{-2 \cdot 1 + a \cdot 2}{1+2} = \frac{2a-2}{3}, a=1$$

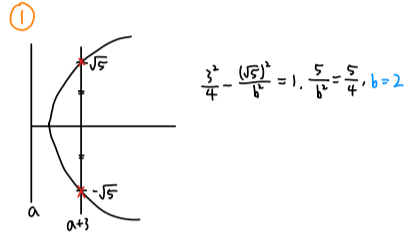
$$2 = \frac{b \cdot 1 + 4 \cdot 2}{1+2} = \frac{b+8}{3}, b=-2$$

$\therefore a+b+c = -1$

24. 두 양수 a, b 에 대하여 쌍곡선 $\frac{(x-a)^2}{4} - \frac{y^2}{b^2} = 1$ 이

점 $(0, 2)$ 를 지나고, 직선 $x = a+3$ 과 만나는 두 점 사이의 거리가 $2\sqrt{5}$ 이다. ab 의 값은? [3점]

- ① $4\sqrt{2}$ ② 8 ③ $8\sqrt{2}$ ④ 16 ⑤ $16\sqrt{2}$



② $\frac{a^2}{4} - \frac{2^2}{4} = 1, a^2 = 8, a = 2\sqrt{2}$
 $\therefore ab = 4\sqrt{2}$

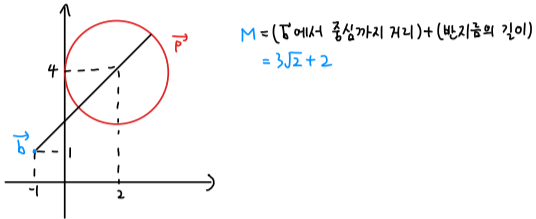
25. 좌표평면에 두 벡터 $\vec{a} = (2, 4)$, $\vec{b} = (-1, 1)$ 이 있다.

$|\vec{p} - \vec{a}| = \vec{a} \cdot \vec{b} = 2 \cdot (-1) + 4 \cdot 1 = 2$
 ⇒ \vec{p} 는 중심이 (2, 4)이고 반지름이 2인 원을 나타냄

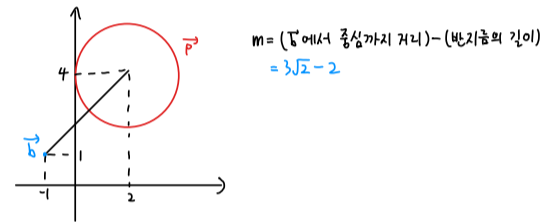
를 만족시키는 벡터 \vec{p} 에 대하여 $|\vec{p} - \vec{b}|$ 의 최댓값과 최솟값을 각각 M , m 이라 할 때, $M^2 - m^2$ 의 값은? [3점]

- ① $20\sqrt{2}$ ② $22\sqrt{2}$ ③ $24\sqrt{2}$
- ④ $26\sqrt{2}$ ⑤ $28\sqrt{2}$

i) 거리가 최대



ii) 거리가 최소



$\therefore M^2 - m^2 = (M+m)(M-m)$
 $= 6\sqrt{2} \cdot 4$
 $= 24\sqrt{2}$

26. 타원 $\frac{x^2}{45} + \frac{y^2}{9} = 1$ 의 y축 위의 꼭짓점 A와 한 초점 F에

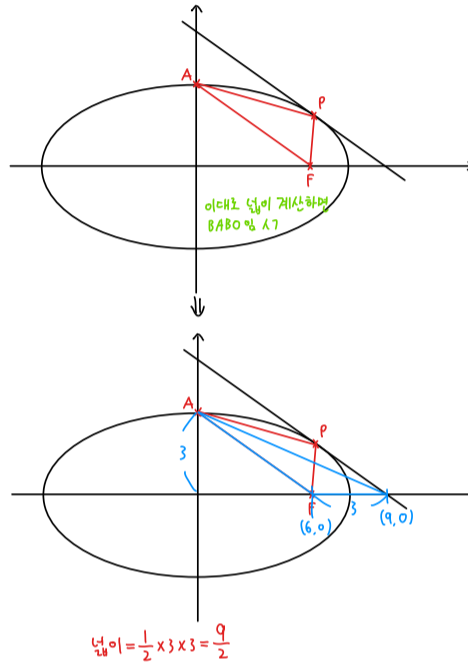
대하여 직선 AF와 평행한 접선의 접점을 P라 하자.

삼각형 AFP의 넓이의 최솟값은? [3점]

- ① 3 ② $\frac{7}{2}$ ③ 4 ④ $\frac{9}{2}$ ⑤ 5

$A(0, 3)$, $F(6, 0) \Rightarrow$ 접선 기울기: $-\frac{1}{2}$

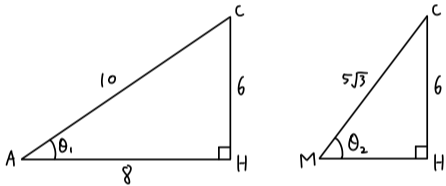
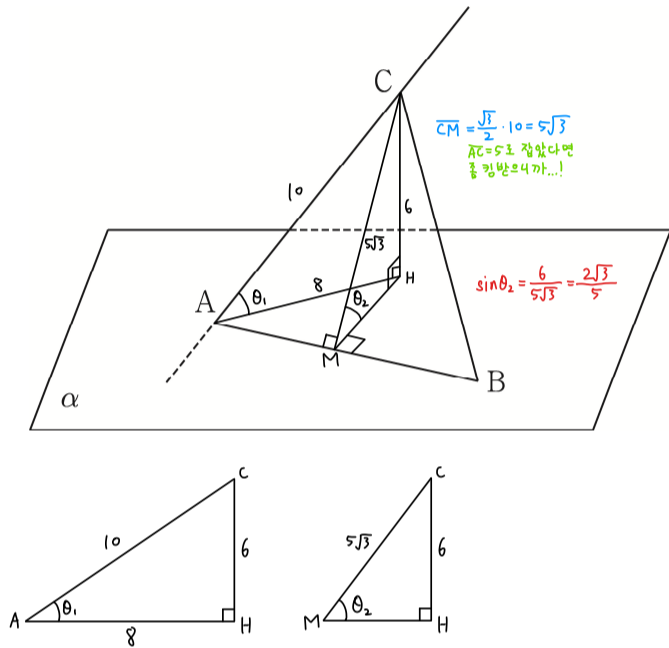
접선: $y = -\frac{1}{2}x + \sqrt{45 \cdot \frac{1}{4} + 9}$
 $= -\frac{1}{2}x + \frac{9}{2}$



27. 평면 α 위의 서로 다른 두 점 A, B와 평면 α 위에 있지 않은 점 C에 대하여 삼각형 ABC는 정삼각형이다. 직선 AC와 평면 α 가 이루는 예각의 크기를 θ_1 , 평면 ABC와 평면 α 가 이루는 예각의 크기를 θ_2 라 하자.

$\sin \theta_1 = \frac{3}{5}$ 일 때, $\sin \theta_2$ 의 값은? [3점]

- ① $\frac{\sqrt{3}}{2}$ ② $\frac{2\sqrt{3}}{5}$ ③ $\frac{3\sqrt{3}}{10}$
 ④ $\frac{\sqrt{3}}{5}$ ⑤ $\frac{\sqrt{3}}{10}$



여기까지 푼다면 안되요!

28. 포물선 $C_1: y^2 = 4x$ 의 제1사분면 위의 점 A를 꼭짓점으로 하고 준선이 $x=k(k < 0)$ 인 포물선 C_2 가 있다. 두 포물선 C_1, C_2 의 초점을 각각 F_1, F_2 라 할 때, 포물선 C_2 가 x 축과 만나는 점을 B라 하자. 사각형 AF_1BF_2 가 다음 조건을 만족시킬 때, 사각형 AF_1BF_2 의 넓이는? (단, k 는 상수이다.)

[4점]

(가) $\overline{AF_1} = \overline{AF_2}$
 (나) 사각형 AF_1BF_2 의 둘레는 $\frac{98}{5}$ 이다.

- ① $\frac{82}{5}$ ② $\frac{84}{5}$ ③ $\frac{86}{5}$ ④ $\frac{88}{5}$ ⑤ 18

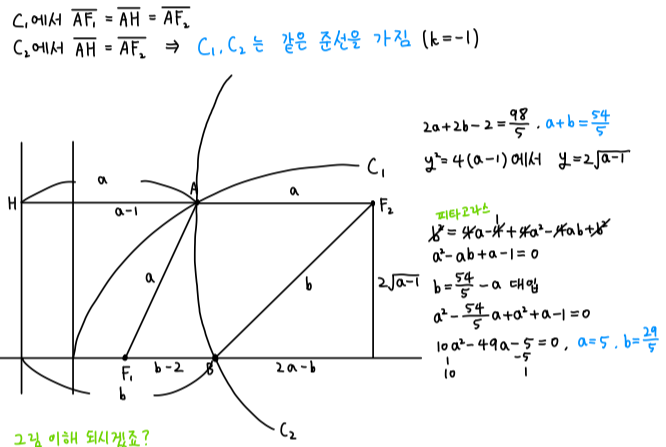
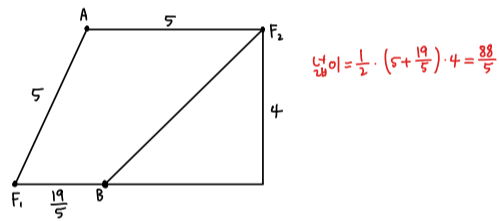


그림 이해 되시겠조?



단답형

29. 좌표평면에서 $\overline{AC} = 2$, $\cos(\angle ABC) = \frac{7}{8}$ 인 마름모

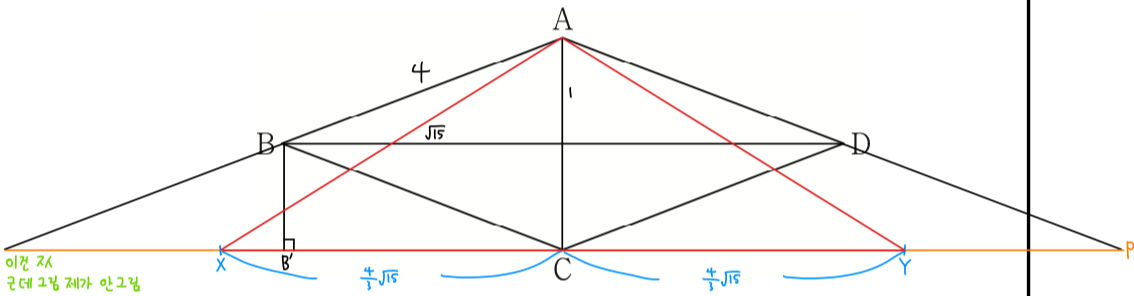
ABCD가 있다. 

$$\overrightarrow{AP} = (1+t)\overrightarrow{AB} + (1-t)\overrightarrow{AD} \quad (-1 \leq t \leq 1)$$

을 만족시키는 점 P가 나타내는 도형 위를 움직이는 서로 다른 두 점 X, Y가

$$\overrightarrow{AB} \cdot \overrightarrow{AX} = 22, \quad \overrightarrow{BX} \cdot \overrightarrow{YB} = \frac{32}{3}$$

를 만족시킨다. 삼각형 AXY의 넓이가 $\frac{q}{p}\sqrt{15}$ 일 때, $p+q$ 의 값을 구하시오. (단, p 와 q 는 서로소인 자연수이다.) [4점]



$$i) \overrightarrow{AB} \cdot (\overrightarrow{AC} + \overrightarrow{CX}) = \overrightarrow{AB} \cdot \overrightarrow{AC} + \overrightarrow{AB} \cdot \overrightarrow{CX} = 22$$

$$\sqrt{15} \cdot |\overrightarrow{CX}| = 20, \quad |\overrightarrow{CX}| = \frac{20}{\sqrt{15}}$$

$$ii) \overrightarrow{BX} \cdot (\overrightarrow{YB} + \overrightarrow{BY}) = \overrightarrow{BX} \cdot \overrightarrow{YB} + \overrightarrow{BX} \cdot \overrightarrow{BY} = \frac{32}{3}$$

$$\frac{\sqrt{15}}{3} \cdot |\overrightarrow{YB}| = \frac{32}{3}, \quad |\overrightarrow{YB}| = \frac{8}{\sqrt{15}}$$

$$\overline{AC} = 2, \quad \overline{XY} = \frac{8}{\sqrt{15}}$$

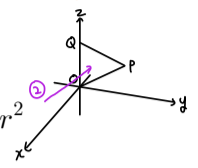
$$\therefore \text{넓이} = \frac{1}{2} \cdot \frac{8}{\sqrt{15}} \cdot 2 = \frac{8}{\sqrt{15}}$$

$$p=3, q=8 \Rightarrow 3+8=11$$

성분 이용한 풀이, 추가 코멘트는 해석강의에!

30. 좌표공간에 중심이 $P(2, 2\sqrt{3}, 4)$ 이고 점 Q에서 z축에 접하는 구

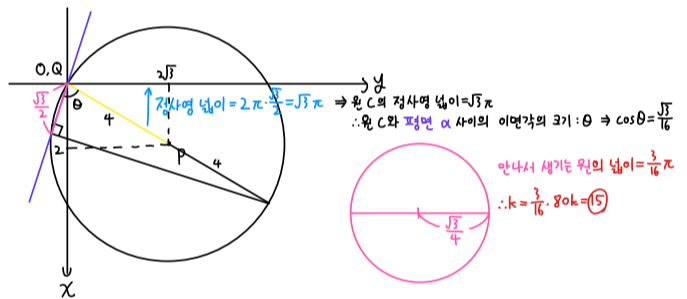
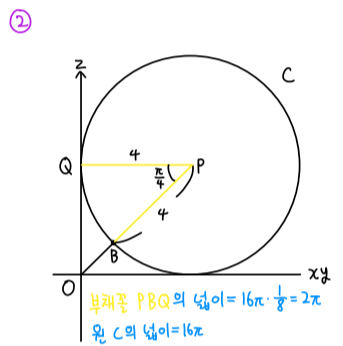
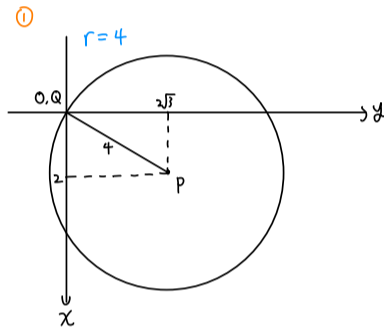
$$S: (x-2)^2 + (y-2\sqrt{3})^2 + (z-4)^2 = r^2$$



가 있다. 구 S와 평면 POQ가 만나서 생기는 원 C, 구 S와 선분 OP의 교점 B, 두 점 O, Q를 지나는 평면 α 가 다음 조건을 만족시킨다.

원 C의 평면 α 위로의 정사영의 넓이와 부채꼴 PQB의 yz 평면 위로의 정사영의 넓이는 같다.

구 S와 평면 α 가 만나서 생기는 원의 넓이가 $k\pi$ 일 때, $80k$ 의 값을 구하시오. (단, O는 원점이다.) [4점]



고생하셨습니다! 수능 화이팅!!

서울권 수학교육과 연합동아리 SUM

○ 건국대학교 · 동국대학교 · 상명대학교 · 서울대학교 · 성균관대학교 ·
이화여자대학교 · 한양대학교 · 홍익대학교 수학교육과 참여

감수

김기홍 나동하 박재형

출제

김서진 김주완 박재형 서지영 송승혁 이경민 이민지 이수현
이지훈 정상우 정세영 채우진 채형석

검토

김기홍 김서진 김주완 나동하 박재형 서지영 송승혁 이경민
이민지 이수현 이신혁 이지훈 정상우 정세영 채우진 채형석

※ 시험이 시작될 때까지 표지를 넘기지 마십시오.