

一擊必殺 13가형 해설

1	④	9	⑤	17	④	25	51
2	②	10	③	18	①	26	7
3	③	11	①	19	⑤	27	23
4	②	12	④	20	②	28	40
5	②	13	④	21	⑤	29	16
6	①	14	③	22	14	30	573
7	①	15	⑤	23	28		
8	⑤	16	③	24	36		

1. 행렬의 연산

$2A+B = \begin{pmatrix} 0 & 0 \\ 2 & 2 \end{pmatrix} + \begin{pmatrix} 1 & 0 \\ 1 & 1 \end{pmatrix} = \begin{pmatrix} 1 & 0 \\ 3 & 3 \end{pmatrix}$ 이므로 모든 성분의 합은 7입니다.

정답 ④

2. 삼각함수의 배각공식 이용하기

$\cos\theta = \sqrt{1-\sin^2\theta} = \frac{2\sqrt{2}}{3}$ 이므로
 $\sin 2\theta = 2\sin\theta\cos\theta = \frac{4\sqrt{2}}{9}$

정답 ②

3. 내분점 공식 적용하기

두 점 $A(a, 1, 3)$, $B(a+6, 4, 12)$ 를 1:2로 내분하는 점의 좌표는

$$\left(\frac{2(a)+1(a+6)}{1+2}, \frac{1(4)+2(1)}{1+2}, \frac{1(12)+2(3)}{1+2} \right)$$

이고, 이것이 $(5, 2, b)$ 와 같으므로
 $a=3$, $b=6$ 입니다. 따라서 $a+b=9$

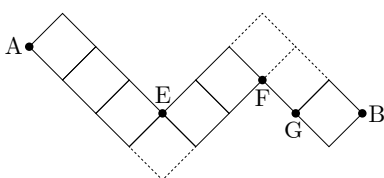
정답 ③

4. 치환을 이용한 무리방정식 해결

$x^2-2x=t$ 로 치환하면 주어진 무리방정식은
 $t+2\sqrt{t}=8$ 이 됩니다. $t-8=-2\sqrt{t}$ 의 양변을 제곱하고 이항하면 $t^2-20t+64=0$ 을 얻고, 여기서 $t=4$, $t=16$ 을 얻습니다. 그런데 $t=16$ 은 무연근이므로 $t=4$ 만이 무리방정식의 해가 됩니다. 따라서 이차방정식 $x^2-2x-4=0$ 의 두 실근의 곱을 구하면 -4 가 됩니다.

정답 ②

5. 같은 것을 포함한 순열의 최단경로 문제의 적용



점선으로 표시된 영역을 지나가지 않으면서 A에서 B로 이동해야 합니다. A에서 E까지 이동하는 방법의 수는 $\frac{4!}{1!3!}=4$ 가지, E에서 F까지 이동하는 방법의 수는 $\frac{3!}{1!2!}=3$ 가지, G에서 B까지 이동하는 방법의 수는 $\frac{2!}{1!1!}=2$ 가지이므로 구하는 경우의 수는 $4 \times 3 \times 2 = 24$ 가지입니다.

정답 ②

6. 쌍곡선의 점선의 방정식

쌍곡선 $x^2-4y^2=a$ 위의 점 $(b, 1)$ 에서의 점선의 방정식은 $bx-4y=a$ 입니다. 이 직선의 기울기는 $\frac{b}{4}$ 입니다. 쌍곡선의 점근선의 방정식은 $y=\pm\frac{1}{2}x$

입니다. 점근선의 기울기는 $\frac{1}{2}$ 또는 $-\frac{1}{2}$ 인데 이것들 중 하나와 $\frac{b}{4}$ 의 곱이 -1 이 되어야 합니다.

그런데 $\frac{b}{4}$ 는 양수이므로 $-\frac{1}{2}$ 를 택해서 곱하면

$$\left(-\frac{1}{2}\right) \times \left(\frac{b}{4}\right) = -1 \text{에서 } b=8 \text{을 얻습니다. } (8, 1) \text{을 쌍곡선의 식에 대입하면 } a=60 \text{을 얻습니다.}$$

따라서 $a+b=68$

정답 ①

7. 로그의 실생활 문제의 적용

문제에서 주어진 숫자들을 식에 잘 대입하기만 하면 됩니다. 첫 번째 상황을 식에 대입하면

$$365 = 20 + k \log\left(8 \times \frac{9}{8} + 1\right) = 20 + k \text{에서 } k=345 \text{를}$$

얻습니다. 두 번째 상황을 식에 대입하면

$$710 = 20 + k \log(8a+1) = 20 + 345 \log(8a+1) \text{에서}$$

$$\log(8a+1) = 2, \quad a = \frac{99}{8} \text{를 얻습니다.}$$

정답 ①

8. 조건부 확률 이용하기

구하는 확률은

$$\frac{\text{버스로 등교한 학생이 지각할 확률}}{\text{학생이 지각할 확률}}$$

입니다. 버스로 등교한 학생이 지각할 확률과 걸어서 등교한 학생이 지각할 확률의 합이 분모에, 버스로 등교한 학생이 지각할 확률이 분자에 가면 됩니다. 따라서 구하는 확률은

$$\frac{0.6 \times \frac{1}{20}}{0.6 \times \frac{1}{20} + 0.4 \times \frac{1}{15}} = \frac{9}{17} \text{입니다.}$$

정답 ⑤

9. 합성변환의 행렬 구하기, 직선을 일차변환에 의해 옮기기

약간 계산이 복잡한 문항입니다. 일차변환 f 를 나타내는 행렬은

$$\begin{pmatrix} \frac{1}{2} & -\frac{\sqrt{3}}{2} \\ \frac{\sqrt{3}}{2} & \frac{1}{2} \end{pmatrix} \text{이고 일차변환 } g \text{를 나타내는}$$

행렬은 $\begin{pmatrix} 0 & 1 \\ 1 & 0 \end{pmatrix}$ 입니다. 따라서 합성변환

$g^{-1} \circ f \circ g$ 를 나타내는 행렬은

$$\begin{pmatrix} 0 & 1 \\ 1 & 0 \end{pmatrix} \begin{pmatrix} \frac{1}{2} & -\frac{\sqrt{3}}{2} \\ \frac{\sqrt{3}}{2} & \frac{1}{2} \end{pmatrix} \begin{pmatrix} 0 & 1 \\ 1 & 0 \end{pmatrix} = \begin{pmatrix} \frac{1}{2} & \frac{\sqrt{3}}{2} \\ -\frac{\sqrt{3}}{2} & \frac{1}{2} \end{pmatrix} \text{입니다.}$$

$$\begin{pmatrix} x' \\ y' \end{pmatrix} = \begin{pmatrix} \frac{1}{2} & \frac{\sqrt{3}}{2} \\ -\frac{\sqrt{3}}{2} & \frac{1}{2} \end{pmatrix} \begin{pmatrix} x \\ y \end{pmatrix} \text{에서}$$

$$\begin{pmatrix} x \\ y \end{pmatrix} = \begin{pmatrix} \frac{1}{2} & -\frac{\sqrt{3}}{2} \\ \frac{\sqrt{3}}{2} & \frac{1}{2} \end{pmatrix} \begin{pmatrix} x' \\ y' \end{pmatrix} = \begin{pmatrix} \frac{1}{2}x' - \frac{\sqrt{3}}{2}y' \\ \frac{\sqrt{3}}{2}x' + \frac{1}{2}y' \end{pmatrix} \text{를}$$

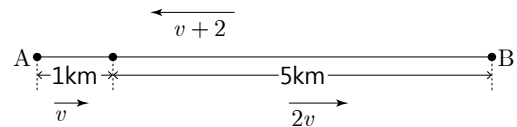
얻습니다. 여기서 얻은 x, y 를 직선의 방정식에

대입하면 $\left(\frac{1}{2}x' - \frac{\sqrt{3}}{2}y'\right) + 2\left(\frac{\sqrt{3}}{2}x' + \frac{1}{2}y'\right) + 5 = 0$ 을 얻고, 여기서 '를 없애면 변환된 직선의 방정식 $\left(\frac{1}{2} + \sqrt{3}\right)x + \left(1 - \frac{\sqrt{3}}{2}\right)y + 5 = 0$ 을 얻습니다.

따라서 $a+2b = \frac{5}{2}$

정답 ⑤

10. 분수부등식의 실생활에의 적용



A에서 B까지 가는 속력을 v (km/s)라 하면 A에서 1km 지점까지 가는데 걸리는 시간은 $\frac{1}{v}$, 1km

지점에서 B까지 가는데 걸리는 시간은 $\frac{5}{2v}$,

B에서 A로 돌아오는데 걸리는 시간은 $\frac{6}{v+2}$

입니다. 따라서 부등식을 $\frac{1}{v} + \frac{5}{2v} + \frac{6}{v+2} \leq \frac{5}{2}$ 로

세울 수 있습니다. $\frac{7}{2v} + \frac{6}{v+2} \leq \frac{5}{2}$ 로 간단히 할 수

있고, 양변에 2를 곱하면 $\frac{7}{v} + \frac{12}{v+2} \leq 5$ 가 됩니다.

이것을 이항하고 통분하여 정리하면

$$\frac{7(v+2) + 12v - 5v(v+2)}{v(v+2)} \leq 0 \text{이 됩니다.}$$

$$\text{즉 } \frac{5v^2 - 9v - 14}{v(v+2)} \geq 0, \quad \frac{(5v-14)(v+1)}{v(v+2)} \geq 0 \text{이고,}$$

v 가 양수이므로 $v \geq \frac{14}{5}$ 를 얻습니다.

정답 ③

11. 공의 법칙과 합의 법칙을 이용해서 확률 계산하기

두 공의 색이 다를 확률은 $\frac{{}^3C_1 \times {}^4C_1}{{}^7C_2} = \frac{12}{21} = \frac{4}{7}$.

두 공의 색이 같을 확률은 $\frac{{}^3C_2 + {}^4C_2}{{}^7C_2} = \frac{9}{21} = \frac{3}{7}$

입니다. 동전을 세 번 던졌을 때 앞면이 2개 나올

확률은 ${}_3C_2 \left(\frac{1}{2}\right)^3 = \frac{3}{8}$, 동전을 두 번 던졌을 때

앞면이 2개 나올 확률은 ${}_2C_2 \left(\frac{1}{2}\right)^2 = \frac{1}{4}$ 입니다.

따라서 구하는 확률은 $\frac{4}{7} \times \frac{3}{8} + \frac{3}{7} \times \frac{1}{4} = \frac{9}{28}$ 입니다.

정답 ①

12. 적분 계산하기

양변에 x 를 곱하면 $xf(x) = xe^{x^2} + x \int_0^1 tf(t)dt$ 가

됩니다. $\int_0^1 tf(t)dt = a$ 로 치환하면

$xf(x) = xe^{x^2} + ax$ 입니다. 양변을 0에서 1까지 적분하면 좌변은 a 가 되고 우변은

$$\int_0^1 (xe^{x^2} + ax)dx = \left[\frac{1}{2}e^{x^2} + \frac{1}{2}ax^2 \right]_0^1 = \frac{1}{2}(e-1) + \frac{1}{2}a$$

가 됩니다. 따라서 $a = \frac{1}{2}(e-1) + \frac{1}{2}a$ 에서

$a = e-1$ 이 됩니다.

정답 ④

13. 정규분포를 따르는 확률변수의 성질과 평균, 분산과의 관계 이용하기

확률변수 X 는 정규분포를 따르고

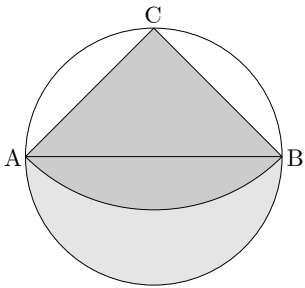
$$P(X \geq 64) = P(X \leq 56) \text{이므로 } E(X) = \frac{64+56}{2} = 60$$

입니다. 또한 $V(X) = E(X^2) - (E(X))^2 = 16$ 이므로 $\sigma = 4$ 입니다. 따라서 $P(X \leq 68) = P(X \leq m + 2\sigma) = P(X \leq m) + P(m \leq X \leq m + 2\sigma) = 0.9772$ 입니다.

정답 ④

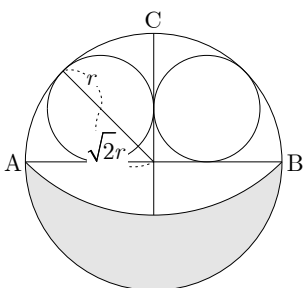
14. 무한등비급수의 도형에의 활용

먼저 첫 번째 도형의 넓이를 구해야 합니다.



첫 번째 도형은 반지름이 1인 원의 반쪽과 넓이가 1인 삼각형의 합(위 그림의 두 부분의 합)에서 부채꼴 CAB를 뺀 것이므로 그 넓이는

$$\frac{\pi}{2} + 1 - \frac{\pi}{2} = 1 \text{입니다.}$$



도형이 줄어드는 비율을 구하기 위해 작은 원의 반지름을 구해야 합니다. 위 그림에서

$(1 + \sqrt{2})r = 1$ 이므로 $r = \frac{1}{1 + \sqrt{2}}$ 입니다. 따라서 작은 원의 넓이는 큰 원 넓이의

$(\frac{1}{1 + \sqrt{2}})^2 = 3 - 2\sqrt{2}$ 배입니다. 이 원 내부에 큰 원에서 했던 것과 같은 방법으로 얻은 도형의 넓이도 $3 - 2\sqrt{2}$ 배가 됩니다. 그런데 도형의 개수가 시행을 반복할수록 2배로 늘어나므로 이 무한등비급수의 공비는 $2(3 - 2\sqrt{2})$ 입니다.

첫째항이 1이므로

$$\lim_{n \rightarrow \infty} S_n = \frac{1}{1 - 2(3 - 2\sqrt{2})} = \frac{5 + 4\sqrt{2}}{7} \text{입니다.}$$

정답 ③

15. 합성함수의 연속성

$g(f(x))$ 가 $x=0$ 에서 연속이려면

$$\lim_{x \rightarrow 0} g(f(x)) = g(f(0)) \text{이 되어야 하고, 여기서}$$

$$g(1) = g(0) \text{을 얻습니다. 마찬가지로}$$

$$\lim_{x \rightarrow 1} g(f(x)) = g(f(1)) \text{이 되어야 하므로 } g(0) = g(-1)$$

을 얻습니다. 즉, 삼차함수 $g(x)$ 는 최고차항의 계수가 1이고, $g(0) = g(1) = g(-1) = 3$ 를 만족시킵니다. 따라서 $g(x) = x(x-1)(x+1) + 3$ 이므로 $g(3) = 27$

정답 ⑤

16. 행렬의 성질 이용하기

ㄱ. 첫 번째 조건식의 좌변을 A 로 묶으면

$$A(2A+B) = E \text{가 됩니다.}$$

따라서 $A^{-1} = 2A+B$ 입니다. (참)

ㄴ. 첫 번째 식에서 ㄱ에 의해 $A, 2A+B$ 가 서로

역행렬 관계이므로 교환법칙이 성립합니다.

따라서 $A(2A+B) = (2A+B)A$ 에서

$AB = BA$ 임을 이끌어낼 수 있고, 이것을

두 번째 식에 이용하면 $2AB = 2A+E$ 가 됩니다.

E 만 남기고 좌변으로 이항하고 A 로 묶으면

$$A(2B-2E) = E \text{가 됩니다. 여기서}$$

$$A^{-1} = 2B-2E \text{임을 알 수 있습니다.}$$

ㄱ에서 구한 A^{-1} 과 방금 구한 것이 같다고

놓으면 $2B-2E = 2A+B$ 에서 $B = 2A+2E$ 를

얻을 수 있습니다. (참)

ㄷ. 방금 ㄴ을 구하는 과정에서 $A^{-1} = 2B-2E$ 를

$$\text{얻었습니다. 즉, } (B-E)^2 = \frac{1}{4}(A^{-1})^2 \text{입니다.}$$

$(B-E)^2 = O$ 이면 $(A^{-1})^2 = O$ 입니다. 그런데

$(A^{-1})^2 = O$ 가 된다면 행렬 A^{-1} 의 역행렬은

존재하지 않아야 합니다. 그런데 행렬 A^{-1} 의

역행렬은 존재하므로 방금 설정한 가정은

틀렸습니다. 따라서 $(A^{-1})^2 \neq O$ 이고,

$(B-E)^2 \neq O$ 입니다. (거짓)

정답 ③

17. 수열의 일반항 구하는 과정 이해하기

$$a_{n+1} - a_n = \left(n \cdot 2^n + \sum_{k=1}^n \frac{a_k}{k} \right) - \left((n-1) \cdot 2^{n-1} + \sum_{k=1}^{n-1} \frac{a_k}{k} \right)$$

$$= 2n \cdot 2^{n-1} - (n-1)2^{n-1} + \left(\sum_{k=1}^n \frac{a_k}{k} - \sum_{k=1}^{n-1} \frac{a_k}{k} \right)$$

$$= (n+1) \cdot 2^{n-1} + \frac{a_n}{n} \text{입니다.}$$

따라서 (가) $= (n+1)2^{n-1}$ 입니다.

이것을 아래 식에 대입하면 $b_{n+1} - b_n = 2^{n-1}$ 을

얻습니다. 여기서 양변에 $n=2, n=3, \dots,$

$n=n-1$ 까지 대입한 것을 나열하면 아래와 같이

$$b_3 - b_2 = 2^1 \quad \text{되고, 좌변은 좌변끼리,}$$

$$b_4 - b_3 = 2^2 \quad \text{우변은 우변끼리 더하면}$$

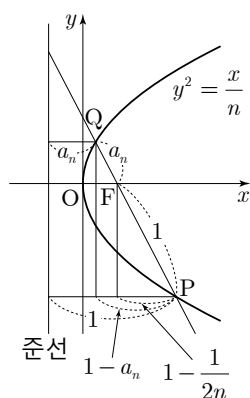
$$\vdots \quad b_n - b_2 = \sum_{k=1}^{n-2} 2^k \text{가 되므로}$$

$$b_n - b_{n-1} = 2^{n-2} \quad b_n = 2^{n-1} + 1 = (\text{나}) \text{입니다.}$$

따라서 $f(4) + g(7) = 40 + 65 = 105$ 입니다.

정답 ④

18. 포물선의 정의와 삼각형의 닮음



초점에서 준선까지의

거리는 $\frac{1}{2n}$ 이고 n 이

자연수이므로 $\frac{1}{2n} < 1$

입니다. 또한 점 P에서

준선까지의 거리는

1이므로 문제에서 제시한

상황은 왼쪽 그림과

같습니다.

Q에서 준선까지의 거리는 P에서 준선까지의

거리보다 작습니다. (즉, $a_n < 1$) 위 그림에서 선분

PQ를 빗변으로 하는 직각삼각형과 선분 PF를

빗변으로 하는 직각삼각형이 서로 닮음입니다.

$$\text{따라서 } \frac{1 - a_n}{1 + a_n} = \frac{1 - \frac{1}{2n}}{1} \text{이므로}$$

$$1 - a_n = (1 + a_n) \left(1 - \frac{1}{2n} \right) = 1 + a_n - \frac{1}{2n} - \frac{a_n}{2n} \text{을 얻고,}$$

$$\frac{1}{2n} = a_n \left(2 - \frac{1}{2n} \right) \text{을 얻습니다.}$$

따라서 $\frac{1}{a_n} = 4n - 1$ 이므로 $\sum_{n=1}^{10} a_n = 210$ 입니다.

정답 ①

19. 적분과 미분과의 관계를 통해 함수의 그래프 추론하고 해석하기

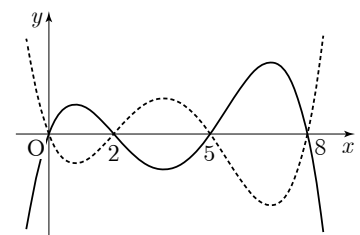
ㄱ. $\int_0^x f(t)dt$ 는 삼차함수를 적분한 것이므로

$\int_0^x f(t)dt$ 는 사차함수가 됩니다. 그런데 이것에

절댓값을 씌운 그래프의 모양이 문제에 주어진

것과 같으므로, 함수 $y = \int_0^x f(t)dt$ 의 그래프는

아래 그림의 점선이나 실선 중 하나가 됩니다.



그래프로부터 함수 $\int_0^x f(t)dt$ 는 세 점에서

극값을 갖는다는 것을 알 수 있습니다. 따라서

함수 $\int_0^x f(t)dt$ 의 도함숫값이 0이 되는 점은 세

개 존재합니다. 즉, 방정식 $\frac{d}{dx} \left(\int_0^x f(t)dt \right) = 0$ 은

서로 다른 세 실근을 갖습니다. (참)

ㄴ. 함수 $\int_0^x f(t)dt$ 의 $x=0$ 에서의 미분계수는

$f(0)$ 이고, 이 값은 문제 첫머리에서 주어진

$f(0) > 0$ 조건에 의해 양수가 됩니다.

따라서 함수 $y = \int_0^x f(t)dt$ 의 그래프는 위

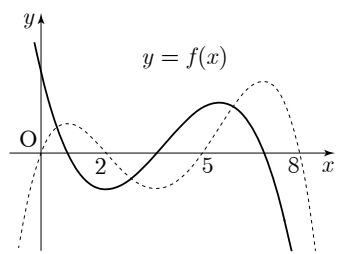
그림의 두 가지 경우 중 $x=0$ 에서의 점선의

기울기가 양수인 것(실선)에 해당합니다.

(최고차항의 계수가 음수인 사차함수가

됩니다.) $\int_0^x f(t)dt$ 의 도함수 $f(x)$ 의 그래프를

그리면 다음과 같습니다.



따라서 그래프로부터 $f'(0) < 0$ 입니다. (참)

ㄷ. 위 그래프로부터 생각할 수 있습니다. $x=1$

근처에서 $f(x)$ 가 0이 되고, $x=3.5$ 근처에서 또

0이 됩니다. 이 구간 내에서 $f(x)$ 는 음수이므로

$$\int_1^3 f(t)dt < 0 \text{입니다. 즉, } m=1 \text{은 조건을}$$

만족시키지 않습니다. $g(2) = g(5) = 0$ 이므로

$$\int_0^5 f(x)dx - \int_0^2 f(x)dx = \int_2^5 f(x)dx = 0 \text{입니다.}$$

$f(2) < 0$ 이므로 $x=2$ 에서 2보다 약간 큰

구간까지의 정적분값은 음수가 됩니다. 그런데

2에서 5까지의 정적분값이 0이 되므로 2에서

4까지의 정적분값은 음수가 됩니다. 따라서

$m=2$ 도 조건을 만족시키지 않습니다.

2에서 3까지의 정적분값이 음수인 것은

그래프를 통해 직관적으로 알 수 있습니다.

2에서 3까지의 정적분값에 3에서 5까지의

정적분값을 더하면 0이 되므로 3에서 5까지의

정적분값은 양수가 되어 합니다. 따라서 $m=3$ 은 조건을 만족시킵니다. 4에서 6까지의 범위에서 $f(x)$ 는 양수이므로 이 구간에서의 정적분값도 양수이고, $m=4$ 도 조건을 만족시킵니다.

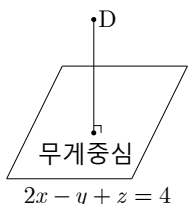
$$g(5)=g(8)=0 \text{이므로 } \int_5^8 f(x)dx=0 \text{입니다.}$$

5에서 7까지의 정적분값과 7에서 8까지의 정적분값을 더하면 0인데, 5에서 5보다 약간 큰 값까지의 정적분값은 양수이므로 5에서 7까지의 정적분값은 양수, 7에서 8까지의 정적분값은 음수입니다. 따라서 $m=5$ 도 조건을 만족시킵니다. 5에서 6까지의 정적분값은 양수이고, 이 값에 6에서 8까지의 정적분값을 더하면 0이므로 6에서 8까지의 정적분값은 음수입니다. $m > 6$ 이면 m 에서 $m+2$ 까지의 정적분값이 음수가 될 것이므로(함숫값이 계속 음수이므로) 더 이상 고려하지 않아도 됩니다. 따라서 $\int_m^{m+2} f(x)dx > 0$ 이 되도록 하는 자연수 m 은 3, 4, 5의 3개입니다. (참)

정답 ⑤

20. 평면의 방정식과 직선의 방정식 이용하기

정사면체의 한 점에서 그 점을 포함하지 않는 점으로 수선의 발을 내리면 그 점이 무게중심입니다. 즉, 한 면의 무게중심을 지나고 그 면에 수직인 직선은 그 면에 포함되지 않은 정사면체의 다른 꼭짓점을 지나게 됩니다. 이 말은 무게중심 $(1, 1, 3)$ 을 지나고 평면 $2x-y+z=4$ 에 수직인 직선이 점 D를 지난다는 말입니다. 그런데 점 D는 평면 $x+y+z=3$ 위의 점이므로, 앞에서 말한 직선과 평면 $x+y+z=3$ 의 교점이 점 D가 됩니다.

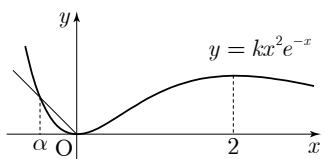


$(1, 1, 3)$ 을 지나고 평면 $2x-y+z=4$ 에 수직인 직선의 방정식은 $\frac{x-1}{2} = \frac{y-1}{-1} = \frac{z-3}{1} = t$ 에서 $x=2t+1, y=-t+1, z=t+3$ 입니다. 이것을 $x+y+z=3$ 에 대입하면 $t=-1$ 이 됩니다. 즉, 점 D의 좌표는 $(-1, 2, 2)$ 입니다. D에서 $(1, 1, 3)$ 에 이르는 거리는 $\sqrt{6}$ 입니다. 한 모서리의 길이가 a 인 정사면체의 한 꼭짓점에서 한 밑면에 내린 수선의 길이는 $\frac{\sqrt{6}}{3}a$ 이므로, $\frac{\sqrt{6}}{3}a = \sqrt{6}$ 에서 $a=3$ 입니다.

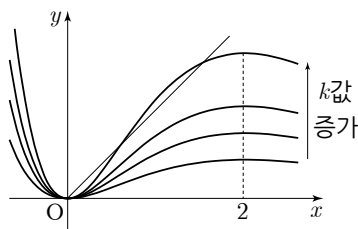
정답 ②

21. 새롭게 정의된 함수의 미분가능성, 조건을 만족시키는 접선의 방정식 구하기

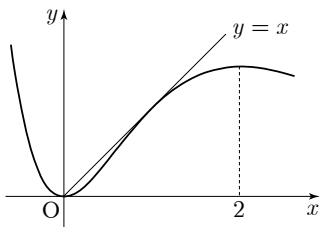
$f'(x) = k(-x^2e^{-x} + 2xe^{-x})$ 이고 $k > 0$ 이므로 함수 $f(x)$ 는 $x=0$ 에서 극소, $x=2$ 에서 극대입니다. 여기서 얻은 정보를 바탕으로 함수 $y=f(x)$ 의 그래프를 그리면 아래와 같습니다.



$(t, f(t))$ 에서 x 축까지의 거리는 $|f(t)|$, y 축까지의 거리는 $|t|$ 입니다. 직선 $y=-x$ 와 곡선 $y=f(x)$ 가 제 2사분면에서 만나는 점의 x 좌표를 α 라 하면 $t=\alpha$ 근방에서 $g(t) = \begin{cases} |t| & (t \leq \alpha) \\ |f(t)| & (t > \alpha) \end{cases}$ 입니다. 그런데 $\alpha < 0$ 이고, 모든 실수 t 에 대하여 $f(t) \geq 0$ 이므로 $t \leq 0$ 일 때 $g(t) = \begin{cases} -t & (t \leq \alpha) \\ f(t) & (t > \alpha) \end{cases}$ 입니다. $t=\alpha$ 에서 미분가능하려면 $f'(\alpha) = -1$ 이어야 하는데 평균값의 정리에 의해 열린구간 $(\alpha, 0)$ 에 $f'(c) = 1$ 인 c 가 존재하고, t 가 작아질수록 $f'(t)$ 의 값도 작아지므로 $(f'(t))$ 가 $t < 0$ 에서 단조증가하므로 $f'(\alpha) = -1$ 일 수 없습니다. 따라서 $g(t)$ 는 양수 k 값에 관계없이 항상 $t < 0$ 인 어떤 t 에서 미분가능하지 않습니다. k 값이 커지면 곡선은 그림처럼 위로 상승합니다.



k 값이 커지다가 직선 $y=x$ 와 두 점에서 만나게 되면 함수 $g(t)$ 가 $t > 0$ 에서 미분가능하지 않은 점이 두 개 더 생기게 됩니다. 따라서 $g(t)$ 가 한 점에서만 미분가능하지 않으려면 곡선 $y=f(x)$ 의 $x > 0$ 인 부분이 직선 $y=x$ 의 아래쪽에 있어야 합니다. 즉, 다음과 같은 상황이 될 때까지 k 의 값이 커질 수 있습니다.



이제 원점을 지나는 접선의 기울기가 1이 되도록 하는 k 의 값을 찾으려 합니다. 곡선 위의 점 $(a, f(a))$ ($a > 0$)에서의 접선의 방정식은 $y-f(a) = f'(a)(x-a)$ 이고, 이 접선이 원점을 지난다는 조건에서 $f(a) = af'(a)$ 를, 곡선 $y=f(x)$ 와 직선 $y=x$ 가 $(a, f(a))$ 에서 만난다는 조건에서 $f(a) = a$ 를 얻습니다. 두 조건으로부터 얻어지는 두 식 $ka^2e^{-a} = -ka^3e^{-a} + 2ka^2e^{-a}$, $ka^2e^{-a} = a$ 를 연립해서 a 를 구해야 합니다. $ka^2e^{-a} = a$ 를 첫 번째 식에 대입하면 $a = -a^2 + 2a$ 이므로 $a = 1$ ($\because a > 0$)을 얻습니다. 따라서 $x=1$ 에서의 접선은 k 값에 관계없이 항상 원점을 지납니다. $f'(1) = \frac{k}{e} = 1$ 이 되는 k 의 값을 찾으려 하면 $k=e$ 입니다.

정답 ⑤

22. 미분 계산하기

$$f'(x) = 1 + \ln x + 13 \text{이므로 } f'(1) = 14$$

정답 14

23. 삼각함수의 덧셈정리, 최대·최소

$$f(x) = 2\left(\cos x \cos \frac{\pi}{3} + \sin x \sin \frac{\pi}{3}\right) + 2\sqrt{3} \sin x$$

$$= \cos x + 3\sqrt{3} \sin x \text{이므로 } f(x) \text{의 최댓값은}$$

$$\sqrt{1^2 + (3\sqrt{3})^2} = \sqrt{28} \text{입니다. 따라서 } a^2 = 28$$

정답 28

24. 일차변환과 행렬

$$A = \begin{pmatrix} 2 & -1 \\ 1 & -2 \end{pmatrix} \text{이고}$$

$$A^2 = \begin{pmatrix} 2 & -1 \\ 1 & -2 \end{pmatrix} \begin{pmatrix} 2 & -1 \\ 1 & -2 \end{pmatrix} = \begin{pmatrix} 3 & 0 \\ 0 & 3 \end{pmatrix} \text{이므로}$$

$$A^4 = 9E = \begin{pmatrix} 9 & 0 \\ 0 & 9 \end{pmatrix} \text{입니다. 따라서 행렬 } A^4 \text{가}$$

나타내는 일차변환에 의해 점 $(5, -1)$ 은 $(45, -9)$ 로 옮겨집니다. $\therefore a+b=36$

정답 36

25. 모평균의 추정

신뢰구간의 양 끝점의 평균이 표본평균이므로

$$m = \frac{100.4 + 139.6}{2} = 120 \text{입니다. 표본의 크기를}$$

n 이라 할 때, 모평균을 95%의 신뢰도로 추정하면

$$120 - 1.96 \times \frac{\sigma}{\sqrt{n}} \leq m \leq 120 + 1.96 \times \frac{\sigma}{\sqrt{n}} \text{입니다.}$$

$$\text{따라서 } 1.96 \times \frac{\sigma}{\sqrt{n}} = 19.6 \text{이므로 } \frac{\sigma}{\sqrt{n}} = 10 \text{입니다.}$$

모평균을 99%의 신뢰도로 추정하면

$$120 - 2.58 \times \frac{\sigma}{\sqrt{n}} \leq m \leq 120 + 2.58 \times \frac{\sigma}{\sqrt{n}} \text{이므로}$$

$$94.2 \leq m \leq 145.8 \text{이 됩니다. 따라서 95부터}$$

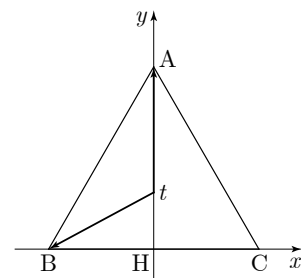
145까지의 자연수의 개수를 구하면

$$145 - 95 + 1 = 51 \text{입니다.}$$

정답 51

26. 벡터의 성분을 이용한 내적의 최대·최소 구하기

정삼각형 ABC를 가장 간단하게 좌표평면에 나타내면 A가 $(0, \sqrt{3})$, B는 $(-1, 0)$, C는 $(1, 0)$ 으로 놓을 수 있습니다. 이때, H는 $(0, 0)$ 이 됩니다.



점 P는 $(0, t)$ ($0 \leq t \leq \sqrt{3}$)으로 놓을 수 있습니다.

그러면 $\vec{PA} = (0, \sqrt{3}-t)$, $\vec{PB} = (-1, -t)$ 가 되고,

$$|\vec{PA} \cdot \vec{PB}| = |t^2 - \sqrt{3}t| \text{입니다. 주어진 범위에서}$$

$$t^2 - \sqrt{3}t < 0 \text{이므로 } |\vec{PA} \cdot \vec{PB}| = \sqrt{3}t - t^2$$

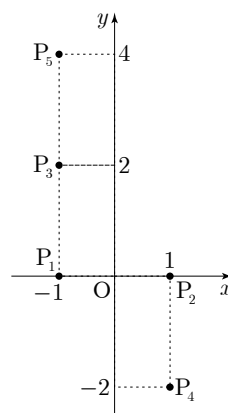
$$= -\left(t - \frac{\sqrt{3}}{2}\right)^2 + \frac{3}{4} \text{에서 최댓값 } \frac{3}{4} \text{을 얻습니다.}$$

$$\therefore p+q=7$$

정답 7

27. 상황의 발견적 추론

직접 해 보는 것이 중요한 문제입니다.



P_1, P_2 의 중점은 원점이므로 P_3, P_4 의 중점도 원점이 됩니다. 따라서 P_4 의 좌표는 $(1, -2)$ 입니다.

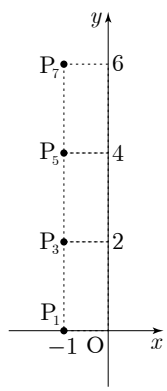
P_2, P_3 의 중점은 $(0, 1)$

이므로 P_4, P_5 의 중점이

$(0, 1)$ 이 되게 하는 P_5 의

좌표는 $(-1, 4)$ 입니다.

P_3, P_4 의 중점은 원점이므로 P_5, P_6 의 중점이 원점이 되게 하는 P_6 의 좌표는 $(1, -4)$ 입니다. P_4, P_5 의 중점은 원점이므로 P_6, P_7 의 중점이 원점이 되게 하는 P_7 의 좌표는 $(-1, 6)$ 입니다.

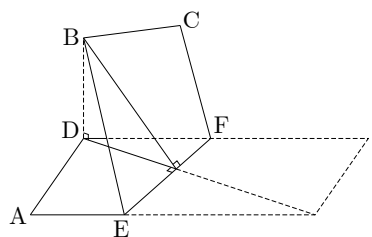


이것들을 좌표평면에 나타내 보면 n 이 홀수일 때 P_n 의 규칙을 찾을 수 있습니다. P_1 에서 P_3 이 될 때 x 좌표는 변하지 않고 y 좌표만 2만큼 증가했습니다. P_3 에서 P_5 가 될 때와 P_5 에서 P_7 이 될 때도 마찬가지입니다. 이로부터 n 이 홀수일 때 P_n 의 좌표는 $(-1, n-1)$ 임을 추론할 수 있습니다.

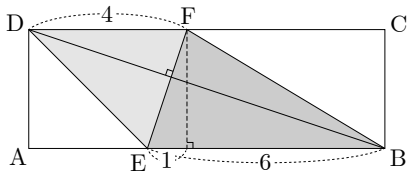
따라서 P_{25} 의 좌표는 $(-1, 24)$ 입니다. $\therefore a+b=23$

정답 23

28. 삼수선의 정리 이용하기



점 F에 대한 정보는 점 B의 평면 AEFD 위로의 정사영이 D라는 것으로부터 알 수 있습니다. 직선 BD와 평면 AEFD가 수직이므로 점 B에서 직선 EF에 내린 수선의 발은 점 D에서 직선 EF에 내린 수선의 발과 일치합니다.



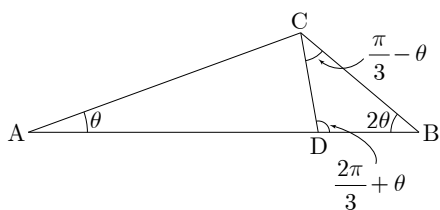
따라서 점 F는 직선 BD와 직선 EF가 수직이 되게 잡으면 됩니다. 그러면 $\overline{DF}=4$ 가 됩니다. 두 평면이 이루는 각은 평면 BEF와 평면 DEF가 이루는 각의 크기와 같고, 삼각형 BEF의 평면 AEFD 위로의 정사영이 삼각형 DEF이므로

$$\cos \theta = \frac{\text{삼각형 DEF의 넓이}}{\text{삼각형 BEF의 넓이}} = \frac{6}{9} = \frac{2}{3} \text{입니다.}$$

$$\therefore 60 \cos \theta = 40$$

정답 40

29. 도형과 삼각함수의 극한



$$\angle ACB = \pi - 3\theta \text{이므로 } \angle BCD = \frac{\pi}{3} - \theta,$$

$$\angle BDC = \frac{2\pi}{3} + \theta \text{입니다. 삼각형 ABC에서}$$

$$\text{사인법칙을 쓰면 } \frac{\overline{AB}}{\sin C} = \frac{\overline{BC}}{\sin A} \text{이므로}$$

$$\overline{BC} = \frac{\overline{AB} \times \sin \theta}{\sin(\pi - 3\theta)} = \frac{\sin \theta}{\sin 3\theta} \text{입니다. 삼각형}$$

$$\text{BCD에서 사인법칙을 쓰면 } \frac{\overline{BC}}{\sin D} = \frac{\overline{CD}}{\sin B} \text{이므로}$$

$$\overline{CD} = \frac{\frac{\sin \theta}{\sin 3\theta} \times \sin 2\theta}{\sin\left(\frac{2\pi}{3} + \theta\right)} = \frac{\sin \theta \sin 2\theta}{\sin 3\theta \sin\left(\frac{2\pi}{3} + \theta\right)} \text{입니다.}$$

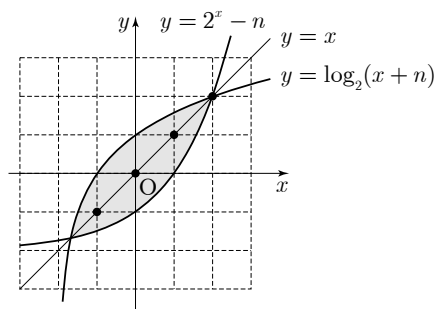
$$\text{따라서 } \lim_{\theta \rightarrow +0} \frac{\overline{CD}}{\theta} = \lim_{\theta \rightarrow +0} \frac{\sin \theta \sin 2\theta}{\theta \sin 3\theta \sin\left(\frac{2\pi}{3} + \theta\right)} = \frac{4}{3\sqrt{3}}$$

$$\text{입니다. } \therefore 27a^2 = 27 \times \frac{16}{27} = 16$$

정답 16

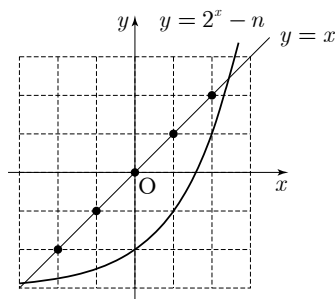
30. 지수로그 함수의 그래프와 조건을 만족시키는 점의 개수 세기

$y=2^x-n$ 에서 x 와 y 를 바꾸고 y 에 대하여 정리하면 $y=\log_2(x+n)$ 입니다. 따라서 두 곡선 $y=2^x-n, y=\log_2(x+n)$ 은 서로 직선 $y=x$ 에 대하여 대칭입니다.



$n=2$ 일 때

집합 $\{(x, y) \mid 2^x - n \leq y \leq \log_2(x+n)\}$ 은 그림과 같이 두 곡선으로 둘러싸인 어두운 부분(경계 포함)에 속하는 점들의 집합이고, 구해야 하는 것은 이것들 중에서 x 좌표와 y 좌표가 같고(직선 $y=x$ 위에 있는) x 좌표와 y 좌표가 같은 점들의 개수입니다. 함수 2^x-n 은 증가함수이므로 두 곡선의 교점은 곡선 $y=2^x-n$ 과 직선 $y=x$ 의 교점과 같습니다. 따라서 구해야 하는 점들은 곡선 $y=2^x-n$ 과 직선 $y=x$ 의 두 교점을 잇는 선분 위의 점들 중에서 x 좌표와 y 좌표가 정수인 것들입니다.



$n=3$ 일 때, $a_3=5$

$n=3$ 일 때는 위 그림과 같습니다. $n=2$ 일 때에 비해 $x < 0$ 인 지점에서 조건을 만족시키는 점의 개수가 하나 늘었습니다. n 이 1씩 커지면 조건을 만족시키는 점의 개수는 $x < 0$ 인 부분에서 한 개씩 늘어날 것입니다. 따라서 $a_4=6$ 입니다.

그런데 n 이 커지면서 $x > 0$ 인 부분에서도 조건을 만족시키는 점의 개수가 변할 수 있습니다.

$n=5$ 이면 곡선 $y=2^x-5$ 이 $(3, 3)$ 을 지나는데, $(3, 3)$ 이 문제의 조건을 모두 만족시키기 때문에 구해야 하는 점에 포함됩니다. 따라서

$a_5=8$ 입니다. $(4, 4)$ 를 지나게 하는 n 은 12,

$(5, 5)$ 를 지나게 하는 n 은 27입니다. 즉, 이 n 들을 기준으로 $x > 0$ 인 곳에서 점이 하나씩 더 생기면서 규칙이 바뀝니다. (각각 n 이 4→5, 11→12, 26→27로 변할 때) 이 정보를 바탕으로 a_n 의 각 항을 나열해 보면 다음과 같습니다.

n	a_n	n 이 1씩 커지면서 a_n 도 1씩 커지는 게 일반적인데 어느 경우에는 n 이 1 커질 때 a_n 은 2만큼 증가합니다.
1	2	2증가
2	4	
3	5	
4	6	2증가
5	8	
6	9	
7	10	2증가
8	11	
9	12	
10	13	2증가
11	14	
12	16	
13	17	2증가
14	18	
15	19	
16	20	2증가
17	21	
18	22	
19	23	2증가
20	24	
21	25	
22	26	2증가
23	27	
24	28	
25	29	2증가
26	30	
27	32	
28	33	2증가
29	34	
30	35	

$$\text{따라서 } \sum_{n=1}^{30} a_n = \frac{35 \times 36}{2} - 57 = 573 \text{입니다.}$$

정답 573